

## סטודנטים יקרים

לפניכם ספר תרגילים בקורס מבוא לסטטיסטיקה ב'. הספר הוא חלק מקורס חדשני וראשון מסוגו בארץ בנושא זה, המועבר ברשת האינטרנט On-line.

הקורס באתר כולל פתרונות מלאים לספר התרגילים, וכן את התיאוריה הרלוונטית לכל נושא ונושא.

הקורס כולו מוגש בסרטוני וידאו המלווים בהסבר קולי, כך שאתם רואים את התהליכים בצורה מובנית, שיטתית ופשוטה, ממש כפי שנעשה בשיעור פרטי, לדוגמה [לחצו כאן](#).

את הקורס בנה מר ברק קנדל, מרצה מבוקש במוסדות אקדמיים שונים ובעל ניסיון עתיר בהוראת המקצוע.

אז אם אתם עסוקים מידי בעבודה, סובלים מלקויות למידה, רוצים להצטיין או פשוט אוהבים ללמוד בשקט בבית, אנחנו מזמינים אתכם לחוויית לימודים יוצאת דופן וחדשה לחלוטין, היכנסו עכשיו לאתר [www.gool.co.il](http://www.gool.co.il).



אנו מאחלים לכם הצלחה מלאה בבחינות

צוות האתר Gool

**גול זה בול. בשבילך!**

## תוכן

4	פרק 1 - סטטיסטיקה תיאורית - סיווג משתנים וסולמות מדידה.....
7	פרק 2 - סטטיסטיקה תיאורית - הצגה של נתונים.....
15	פרק 3 - סטטיסטיקה תיאורית - גבולות מדומים וגבולות אמתיים.....
17	פרק 4 - סטטיסטיקה תיאורית - סכימה.....
20	פרק 5 - סטטיסטיקה תיאורית - מדדי מיקום מרכזי.....
28	פרק 6 - סטטיסטיקה תיאורית - מדדי פיזור: הטווח, השונות וסטיית התקן.....
33	פרק 7 - סטטיסטיקה תיאורית - מדדי מיקום יחסי - אחוזונים בטבלת שכיחויות בדידה.....
36	פרק 8 - סטטיסטיקה תיאורית - מקדם ההשתנות.....
39	פרק 9 - סטטיסטיקה תיאורית - תרשים קופסא - BOXPLOT.....
42	פרק 10 - הסקה סטטיסטית - הקדמה.....
45	פרק 11 - מושגים בסיסיים באמידה.....
52	פרק 12 - רווח סמך לתוחלת (ממוצע האוכלוסייה).....
52	רווח סמך כששונות האוכלוסייה ידועה.....
59	קביעת גודל מדגם באמידת תוחלת עם שונות אוכלוסייה ידועה.....
62	רווח סמך לתוחלת (ממוצע האוכלוסייה) כששונות האוכלוסייה אינה ידועה.....
68	פרק 13 - רווח סמך לפרופורציה.....
71	קביעת גודל מדגם באמידת פרופורציה.....
75	פרק 14 - רווח סמך להפרש פרופורציות.....
78	פרק 15 - רווח סמך להפרש תוחלות ממדגמים בלתי תלויים.....
78	כששונות האוכלוסייה ידועות.....
81	כששונות האוכלוסייה אינן ידועות אך שוות והמדגמים בלתי תלויים.....
84	פרק 16 - רווח סמך לתוחלת ההפרש במדגם מזווג.....
87	פרק 17 - רווח סמך לשונות וסטיית תקן.....
92	פרק 18 - תרגול מסכם ברווחי סמך.....
97	פרק 19 - בדיקת השערות כללית.....
104	פרק 20 - בדיקת השערות על פרמטרים.....
104	הקדמה.....
107	טעויות בבדיקת השערות.....
109	פרק 21 - בדיקת השערות על תוחלת (ממוצע).....
109	כאשר שונות האוכלוסייה ידועה.....
114	סיכוי לטעויות ועוצמה כאשר שונות האוכלוסייה ידועה.....
121	קביעת גודל מדגם כששונות האוכלוסייה ידועה.....
124	מובהקות התוצאה ( P-VALUE ) בבדיקת השערות על תוחלת עם שונות ידועה.....
129	בדיקת השערות על תוחלת (ממוצע) כאשר שונות האוכלוסייה אינה ידועה.....
134	מובהקות התוצאה ( P-VALUE ) כאשר שונות האוכלוסייה לא ידועה.....
138	הקשר בין רווח סמך לבדיקת השערות על תוחלת.....

141.....	פרק 22 - בדיקת השערות על פרופורציה
141.....	התהליך
145.....	סיכוי לטעויות ועוצמה
150.....	קביעת גודל מדגם
153.....	מובהקות התוצאה
157.....	פרק 23 - ניתוח שונות חד כיוונית

## פרק 1 - סטטיסטיקה תיאורית - סיווג משתנים וסולמות מדידה

### רקע:

סטטיסטיקה תיאורית הוא ענף בו לומדים כיצד לאסוף נתונים, להציג אותם ולנתח אותם. בסטטיסטיקה תיאורית אנו פונים לקבוצה מסוימת. באותה קבוצה אנו אוספים נתונים על הישויות באותה קבוצה. משתנה – תכונה שיכולה לקבל מספר ערכים : דעה פוליטית, מקום מגורים, גובה של אדם וכדומה. חלוקה אחת של המשתנים הנמדדים היא לפי סולמות מדידה :

### מיון משתנים לפי סולמות המדידה :

1. **סולם שמי** (נומינאלי) – משתנה שלערכיו יש משמעות רק מבחינת הזהות ואין עניין של יותר או פחות לדוגמה: מצב משפחתי רווק/נשוי/אלמן/גרוש; אזור מגורים. משתנה דיכוטומי ( הינו מסולם שמי) אותם משתנים שיש להם רק שני ערכים אפשריות זכר/נקבה. מעשן/לא מעשן.
2. **סולם סדר** (אורדינאלי) – כאשר לערכים של המשתנה בנוסף לשם ישנה גם משמעות לסדר אבל אין משמעות לגודל ההפרש. למשל, דרגה בצבא.
3. **סולם רווחים** (אינטרוואלי) – משתנה שלערכים שלו בנוסף לשם ולסדר בניהם יש משמעות לרווחים בין הערכים אבל אין משמעות ליחס בין הערכים. למשל, קומה בבניין. סולם לא כל כך פופולרי.
4. **סולם מנה/יחס** – משתנה שלערכיו בנוסף לשם, לסדר ולרווח יש משמעות גם ליחס בין הערכים. למשל, מספר מכוניות למשפחה, משקל אדם בק"ג. הדרך הקלה ביותר כדי לזהות עם הסולם הוא סולם מנה היא על ידי מבחן האפס. בסולם מנה האפס הוא מוחלט, אבסולוטי, ומייצג אין.

### סוגי משתנים:

נבצע סיווג של המשתנים :

משתנה איכותי הוא משתנה שלערכיו אין משמעות של יותר או פחות , אין עניין כמותי לערכים המתקבלים.

כמו : מקום מגורים של אדם (רעננה, תל אביב, אשדוד..)

מין האדם (זכר, נקבה)

מצב משפחתי ( רווק, נשוי, גרוש, אלמן)

משתנה כמותי הוא משתנה שערכיו הם מספרים להם יש משמעות כמותית כמו : גובה אדם בס"מ, ציון בבחינה וכדומה.

את המשתנה הכמותי נסווג לשני סוגים :

משתנה בדיד : משתנה שערכיו מתקבלים מתוך סידרה של ערכים אפשריים. כמו : מספר ילדים

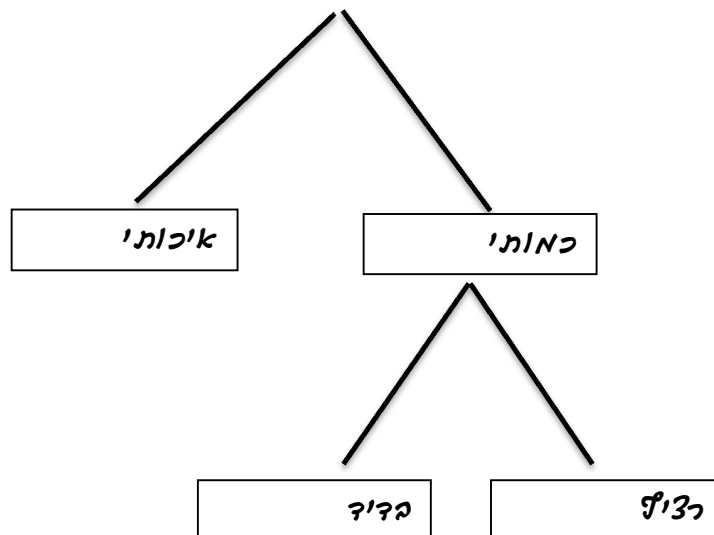
למשפחה (1,2,3..)

ציון בבחינה ( מ 0 ועד 100 בקפיצות של 1 )

משתנה רציף : משתנה שערכיו מתקבלים מתוך אינסוף ערכים בתחום מסוים , הערכים מתקבלים ברצף וללא קפיצות של ערכים .

כמו : גובה בס"מ – אם למשל, הגובה הנמוך ביותר הוא 150 ועד 190 ס"מ בקבוצה הגבהים הם ברצף. גם בין 160 ל 161 ס"מ יש רצף אינסופי של ערכים אפשריים לגובה (16.233 ס"מ הוא גם גובה אפשרי)

משקל בק"ג, מהירות בקמ"ש וכולי.



**תרגילים:**

1. לפניכם רשימה של משתנים:
- א. גובה אדם בס"מ.
  - ב. מספר ילדים למשפחה.
  - ג. מידת חרדה לפני מבחן.
  - ד. שביעות רצון משירות לקוחות בסקלה מ 1 עד 7 (1 כלל לא מרוצה עד 7 מרוצה מאד)
  - ה. השכלה.
  - ו. מספר אוטובוס.
  - ז. מקום מגורים.
  - ח. מין (1=גבר ו-2=אישה).
  - ט. מידת נעליים.

ציינו באיזה סולם מדידה המשתנה הנחקר (שמי, סדר, רווחים או מנה)

2. להלן התפלגות מספר האיחורים לעבודה בחודש של העובדים בחברת "סטאר".  
בחברה 200 עובדים.

מספר העובדים	מספר האיחורים
17	0
23	1
85	2
50	3
25	4

- א. מהו המשתנה הנחקר כאן?
- ב. האם מדובר במשתנה איכותי או כמותי? אם הוא כמותי האם הוא בדיד או רציף?  
באיזה סולם מדידה המשתנה?
3. לפניכם רשימה של משתנים כמותיים. ציין ליד כל משתנה אם הוא רציף או בדיד.
- א. שכר עובד בש"ח.
  - ב. ציון בחינת בגרות.
  - ג. תוצאה בהטלת קובייה.
  - ד. מהירות ריצה בתחרות.
  - ה. שיעור התמיכה בממשלה.

## פרק 2 - סטטיסטיקה תיאורית - הצגה של נתונים

### רקע:

דרכים להצגת נתונים שנאספו :

#### א. רשימה של תצפיות:

התצפית היא הערך שנצפה עבור ישות מסוימת בקבוצה. רושמים את התצפיות שהתקבלו כרשומה, יעיל שיש מספר מועט של תצפיות. ההצגה הזו רלבנטית לכל סוגי המשתנים. למשל, להלן מספר החדרים בבניין בן 5 דירות :

3 4 3 5 4

#### ב. טבלת שכיחויות בדידה:

שם המשתנה X	שכיחות $f(X)$	שכיחות יחסית באחוזים
$X_1$	$f_1$	$\frac{f_1}{N} \times 100$
$X_2$	$f_2$	$\frac{f_2}{N} \times 100$
$X_3$	$f_3$	$\frac{f_3}{N} \times 100$
$\vdots$	$\vdots$	$\vdots$
$X_k$	$f_k$	$\frac{f_k}{N} \times 100$
סה"כ	$N = \sum_{i=1}^k f_i$	100%

רושמים את התצפיות בטבלה שבה עמודה אחת מבטאת את ערכי המשתנה והשנייה את השכיחות. יעיל עבור משתנה איכותי וכמותי בדיד וכשיש מספר רב של תצפיות. לא יעיל למשתנה כמותי רציף.

למשל, להלן התפלגות הציונים בכיתה מסוימת:

$\frac{f_i}{n}$	$F_i$	מספר התלמידים – השכיחות-f	הציון X-
$0.08=2/25$	2	2	5
$0.16=4/25$	6	4	6
$0.32=8/25$	14	8	7
$0.2=5/25$	19	5	8
$0.16=4/25$	23	4	9
$0.08=2/25$	25	2	10

שכיחות מצטברת – צבירה של השכיחותות:  $F_i$  - השכיחות המצטברת נותנת כמה תצפיות קטנות או שוות לערך.

שכיחות יחסית (פרופורציה) – השכיחות מחולקת לכמות התצפיות הכללי:  $\frac{f_i}{n}$  - איזה חלק מהתצפיות בקבוצה שוות לערך.

### ג. טבלת שכיחותות במחלקות:

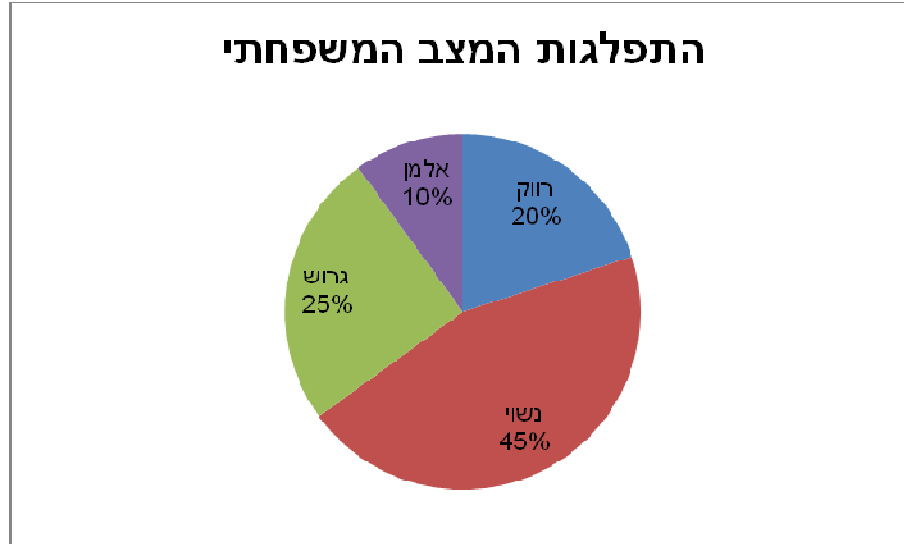
משתמשים שהמשתנה כמותי רציף או כאשר יש מספר ערכים רב במשתנה הבדיד וטבלת שכיחותות תהיה ארוכה מידי.  
למשל, נתנו לקבוצת ילדים לבצע משימה מסוימת ובדקו את התפלגות זמן ביצוע המשימה בדקות.  
להלן ההתפלגות שהתקבלה:

מספר הילדים	זמן בדקות
20	0.5-3.5
18	3.5-9.5
14	9.5-19.5
8	19.5-29.5



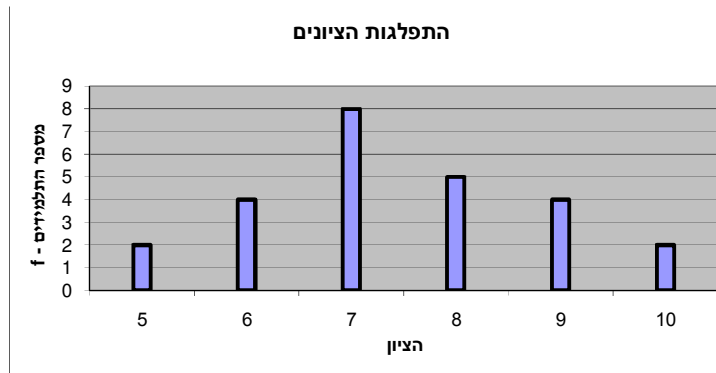
ד. דיאגרמת עוגה :

זהו התיאור הגרפי של משתנה איכותי. בדיאגרמת עוגה כל ערך במשתנה מקבל "נתח" יחסי מהעוגה. הנתח בעוגה פרופורציוני לשכיחות היחסית של ערך המשתנה בנתונים.



ה. דיאגרמת מקלות :

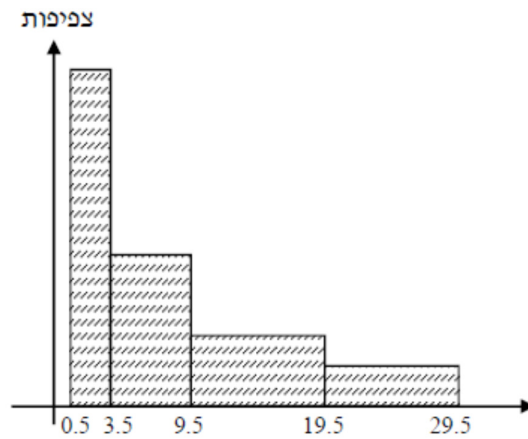
הציר האופקי הוא הציר של המשתנה הציר האנכי של השכיחות – הגובה של המקל מעיד על השכיחות.  
 רלבנטי למשתנה כמותי בדיד. לא נהוג להשתמש בתיאור למשתנה איכותי וכמו כן לא למשתנה כמותי רציף.  
 כמו כן בסולמות מדידה עבור משתנה מסולם סדר.



1. **היסטוגרמה :**

ההיסטוגרמה היא הדרך הגרפית כדי לתאר טבלת שכיחויות במחלקות. רלבנטית למשתנה כמותי רציף. בהיסטוגרמה ציר האופקי הוא הציר של המשתנה וציר האנכי הוא הציר של הצפיפות. הצפיפות מחושבת בכל מחלקה על ידי חלוקת השכיחות ברוחב של כל המחלקה והיא נותנת את מספר התצפיות הממוצע בכל מחלקה ליחידה. אם המחלקות הן שוות ברוחב, ניתן לשרטט את ההיסטוגרמה לפי השכיחות ואין צורך בצפיפות.

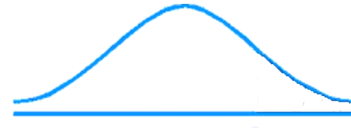
			X		
צפיפות	מצטברת	שכיחות	אמצע	רוחב	
6.6667	20	20	2	3	0.5 - 3.5
3	38	18	6.5	6	3.5 - 9.5
1.4	52	14	14.5	10	9.5 - 19.5
0.8	60	8	24.5	10	19.5 - 29.5



**פוליגון-מצולעון :** אם נחבר את אמצע קצה כל מלבן בקווים ישרים. נותן מראה חזותי לצורה של התפלגות המשתנה.

### צורות התפלגות נפוצות

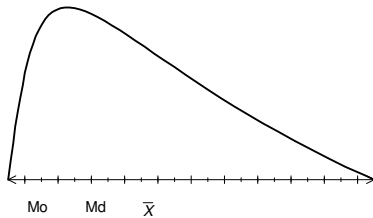
התפלגות סימטרית פעמונית- רוב התצפיות במרכז וככל שנתרחק מהמרכז יהיו פחות תצפיות באופן סימטרי. למשל, ציוני IQ.



ישנן התפלגויות סימטריות שאינן פעמוניות:

התפלגות אסימטרית ימנית (חיובית) – רוב התצפיות מקבלות ערכים נמוכים ויש מיעוט הולך וקטן של תצפיות שמקבלות ערכים גבוהים קיצוניים. למשל, שכר במשק.

#### התפלגות א-סימטרית ימנית או חיובית



התפלגות אסימטרית שמאלית (שלילית) רוב התצפיות מקבלות ערכים גבוהים ויש מיעוט הולך וקטן של תצפיות שמקבלות ערכים נמוכים קיצוניים. למשל, אורך חיים.

#### התפלגות א-סימטרית שמאלית או שלילית



**תרגילים:**

1. בסקר צפייה בטלוויזיה התקבלו התוצאות הבאות: 25 צפו בערוץ הראשון, 25 צפו בערוץ 10, 75 צפו בערוץ השני, 50 צפו באחד מערוצי הכבלים ו- 25 לא צפו בטלוויזיה בזמן הסקר.  
 א. רשמו את טבלת השכיחות ואת השכיחות היחסית.  
 ב. תארו את הנתונים באופן גרפי.

2. להלן נתונים על התפלגות המקצוע המועדף של תלמידי שכבה ו' בבית הספר "מעוף":

מספר התלמידים	המקצוע
44	מתמטיקה
20	תנ"ך
12	אנגלית
26	היסטוריה

- א. מהו המשתנה הנחקר?  
 ב. מהי פרופורציית התלמידים שמעדיפים תנ"ך?

3. להלן התפלגות ההשכלה במקום עבודה מסוים:

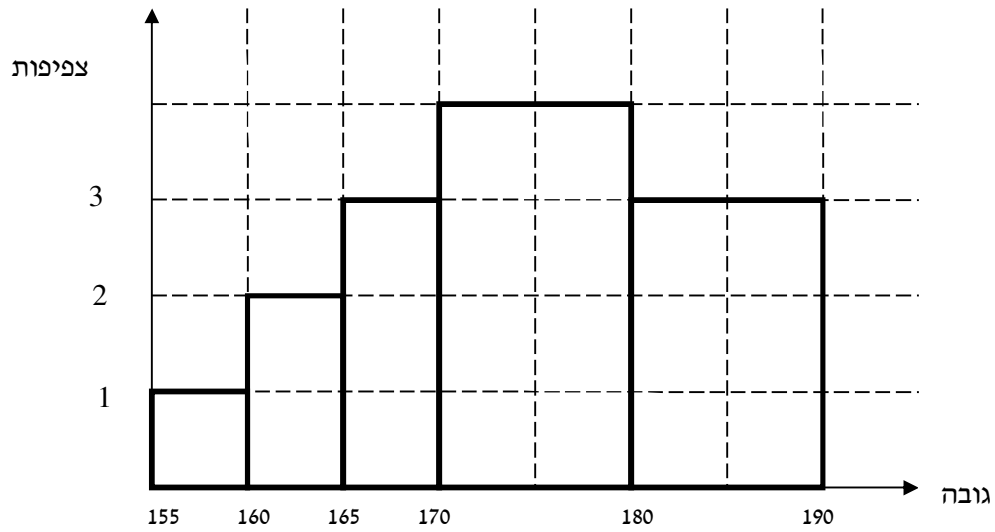
מספר העובדים	השכלה
60	נמוכה
120	תיכונית
20	אקדמאית

- א. מהו המשתנה הנחקר? מאיזה סולם הוא?  
 ב. תארו את הנתונים באופן גרפי.

4. להלן רשימת הציונים של 20 תלמידים שנבחנו במבחן הבנת הנקרא:  
 7, 6, 8, 9, 10, 6, 4, 5, 8, 7, 6, 7, 6, 8, 9, 6, 7, 8, 5, 6

- א. מהו המשתנה? האם הוא בדיד או רציף?  
 ב. תאר את הרשימה בטבלת שכיחויות.  
 ג. הוסף שכיחויות יחסיות לטבלה.  
 ד. תאר את הנתונים באופן גרפי.

5. להלן היסטוגרמה המתארת את התפלגות הגבהים בס"מ של קבוצה מסוימת:



- א. מהו המשתנה הנחקר? האם הוא בדיד או רציף?  
 ב. תאר את הנתונים בטבלת שכיחויות במחלקות.  
 ג. הוסף שכיחות יחסית לטבלה.  
 ד. הוסף את הצפיפות של כל מחלקה לטבלה.  
 ה. מהי צורת ההתפלגות של הגבהים?

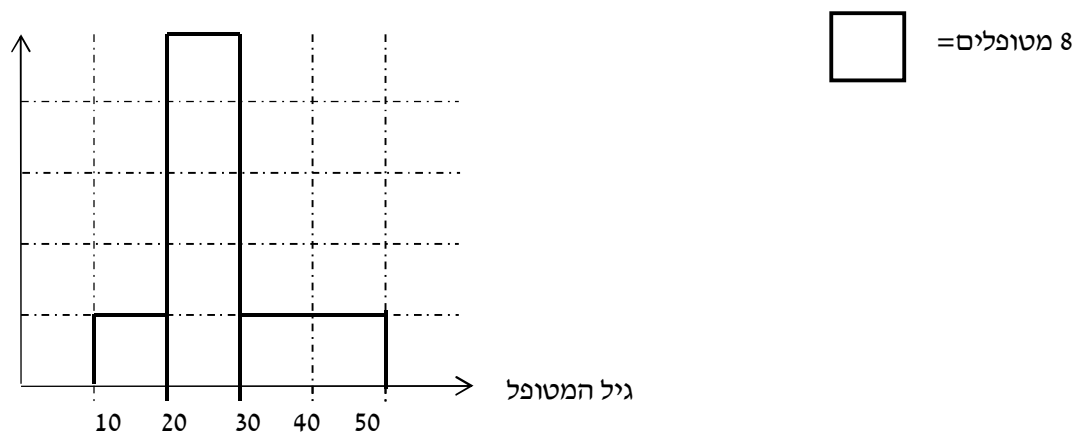
6. להלן התפלגות המשקל של קבוצה מסוימת בק"ג:

מספר מקרים	משקל
10	40-45
20	45-50
30	50-60
20	60-65
10	65-70

- א. תאר את ההתפלגות באופן גרפי.  
 ב. מה ניתן להגיד על צורת ההתפלגות?

7. להלן גיל המטופלים של ד"ר שוורץ בשנים :

קנה מידה :



א. מה המשתנה הנחקר? האם הוא בדיד או רציף?

ב. מהי הקבוצה הנחקרת?

ג. תרגמו את ההסיטוגרמה לטבלת שכיחות.

ד. מהי הפרופורציה של המטופלים של ד"ר שוורץ בגילאים 20-30?

### פרק 3 - סטטיסטיקה תיאורית - גבולות מדומים וגבולות אמתיים

#### רקע:

עבור משתנה רציף נהוג לתאר את הנתונים בטבלת שכיחויות במחלקות. הנתונים שנאספים הם ברמת דיוק מסוימת. לדוגמא משקל של בני אדם או משקל של יהלומים ישקלו ברמת דיוק שונה. **גבולות מדומים:** כאשר גבול עליון של מחלקה אחת שונה מגבול תחתון של המחלקה הבאה אז הגבולות הם גבולות מדומים. כשהגבולות מדומים ההפרש בין גבול תחתון של מחלקה לבין גבול עליון של המחלקה הקודמת יהיה רמת הדיוק. **רמת הדיוק חייבת להיות קבועה** אין אפשרות שחלק מהאנשים נדייק ברמה אחת ואת השאר ברמה אחרת. בגלל שהמשתנה הוא משתנה רציף כשננתח את הנתונים נעבור מגבולות מדומים לגבולות אמתיים. אם הנתונים יינתנו בגבולות מדומים נהפוך אותם תמיד לגבולות אמתיים. כיצד עוברים מגבולות מדומים לגבולות אמתיים? לוקחים את רמת הדיוק ומחלקים אותה ב-2 את התוצאה המתקבלת מוסיפים לגבולות העליונים ומפחיתים מהגבולות התחתונים. אם יתנו נתונים בגבולות מדומים אנחנו מוכרחים לעבור לגבולות אמתיים על מנת להמשיך ולנתח, אך אם הנתונים כבר יינתנו בגבולות אמתיים נשאר אותם כמו שהם.

#### דוגמה: (פתרון בהקלטה)

להלן התפלגות הגבהים בס"מ של תלמידי כיתה ח'. יש להעביר את הנתונים לגבולות אמתיים.

f(x)	X
20	130-139
25	140-149
30	150-159
20	160-169
10	170-189

**תרגילים:**

1. להלן התפלגות של משתנה בהצגה של מחלקות. יש להעביר את הנתונים לגבולות אמתיים:

f(x)	X
542	500-590
32	600-690
154	700-790
254	800-890

2. להלן התפלגות המשקלים בק"ג של קבוצת אנשים מסוימת. יש לרשום את הנתונים בגבולות אמתיים.

משקל בק"ג	מספר אנשים
60-64	18
65-69	24
70-79	52
80-89	19



פרק 4 - סטטיסטיקה תיאורית - סכימה

רקע:

בסטטיסטיקה ישנה צורת רישום מקובלת כדי לרשום סכום של תצפיות:

$$\sum_{i=1}^n X_i$$

נסביר את צורת הרישום על ידי הדוגמה הבאה:

i	$X_i$
1	5
2	0
3	1
4	3
5	2

**תרגילים:**

1. בבניין 5 דירות, לכל דירה רשמו את מספר החדרים שיש בדירה (X) ומספר הנפשות החיות בדירה (Y).

מספר דירה	X	Y
1	2	1
2	3	1
3	2	2
4	4	3
5	3	2

חשבו:

$$\sum_{i=1}^3 X_i$$

$$\sum_{i=1}^5 Y_i$$

$$\sum_{i=1}^4 X_i$$

$$\left(\sum_{i=1}^4 X_i\right)^2$$

$$\sum X_i$$

$$\sum X_i Y_i$$

$$\sum(X_i) \sum(Y_i)$$

2. נתון לוח ערכי המשתנים  $x_i$  ו  $y_i$  כאשר :  $i=1,2,\dots,6$

$i$	1	2	3	4	5	6
$x_i$	3	2	4	-2	1	4
$y_i$	2	0	0	1	-5	2

ונתונים הקבועים :  $a=2$   $b=5$  חשבו את הנוסחאות הבאות :

א.  $\sum_{i=1}^4 y_i$

ב.  $\sum_{i=1}^6 a$

ג.  $\sum_{i=1}^6 x_i y_i$

ד.  $\sum_{i=1}^6 (x_i + y_i)$

ה.  $\sum_{i=1}^6 x_i + a$

3. קבע לכל זהות אם היא נכונה :

א.  $\sum_{i=1}^n bX_i = b \cdot \sum_{i=1}^n X_i$

ב.  $\sum_{i=1}^n a = a \cdot n$

ג.  $(\sum_{i=1}^n X_i)^2 = \sum_{i=1}^n X_i^2$

4. נתון :  $\sum_{i=1}^{10} X_i = 80$  חשב :  $\sum_{i=1}^{10} (X_i - 4)^2$  (פתרון : 1160)

$\sum_{i=1}^{10} X_i^2 = 1640$

## פרק 5 - סטטיסטיקה תיאורית - מדדי מיקום מרכזי

### רקע:

המטרה במדדי המיקום המרכזי למדוד את מרכז ההתפלגות של התצפיות.

### השכיח – MODE

השכיח הוא הערך הנפוץ ביותר בהתפלגות.

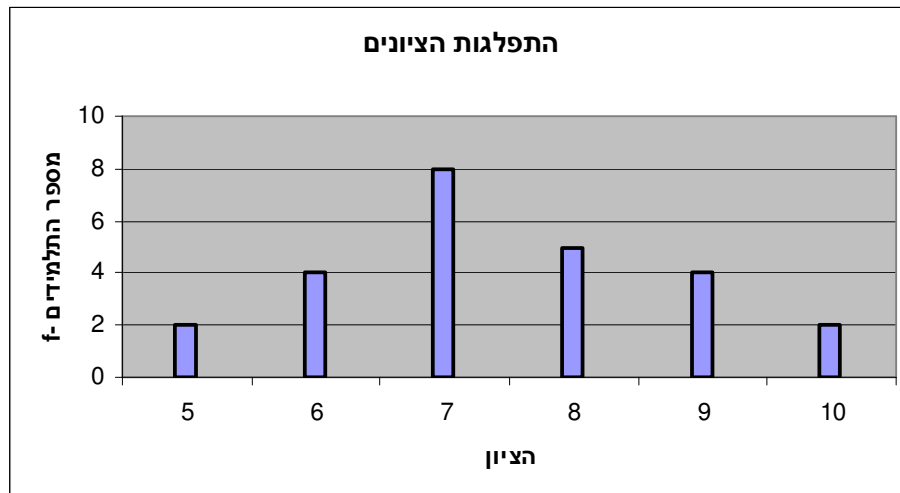
ברשימה : הערך החוזר על עצמו הכי הרבה פעמים .

7 9 4 8 4 10 6

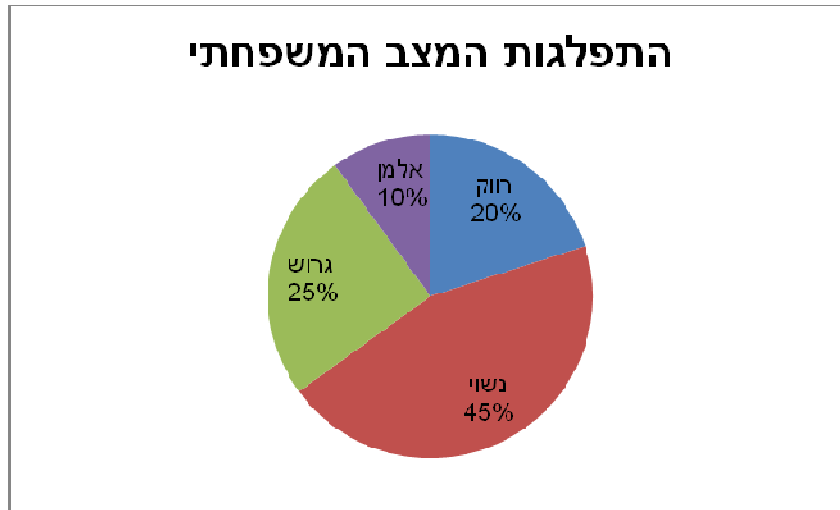
בטבלת שכיחויות בדידה : הערך שהשכיחות שלו היא הגבוהה ביותר.

# תכניות החיסכון	f(x)
0	100
1	75
2	25
3	25
4	25

בדיאגרמת מקלות : שיעור ה-X של המקל הגבוה ביותר.



בעוגה: הערך של הפלח הגדול ביותר.

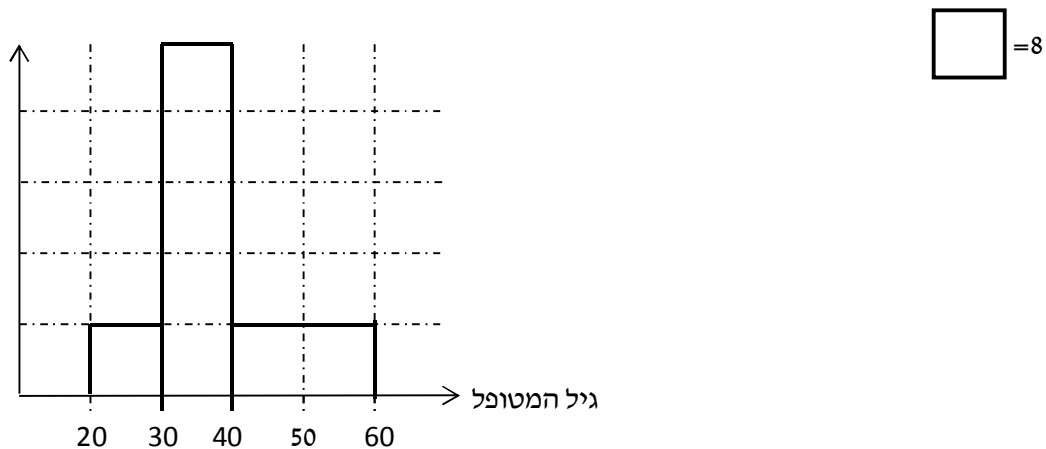


בטבלת שכיחויות במחלקות: אמצע המחלקה עם הצפיפות הגבוהה ביותר. התפלגות הציונים בכיתה.

$f(x)$	$X$
20	0-60
10	60-70
18	70-80
15	80-90
15	90-100

בהיסטוגרמה: שיעור ה- $X$  של אמצע המחלקה הגבוהה ביותר.

להלן גיל המטופלים של דייר שוורץ בשנים:



כללי: יתכן שהתפלגות יותר משכיח אחד. השכיח הוא מדד הרלבנטי לכל סוגי המשתנים.

**MIDRANGE – (טווח)**

הממוצע בין התצפית הגבוהה ביותר לתצפית הנמוכה ביותר.

$$MR = \frac{X_{\min} + X_{\max}}{2}$$

**MEDIAN - החציון**

החציון הוא ערך שמחצית מהתצפיות קטנות או שוות לו ומחצית מהתצפיות גדולות או שוות לו. ברשימה: נסדר את התצפיות בסדר עולה.

אם יש מספר אי זוגי של איברים מקומו של החציון יהיה התצפית שמיקומה:  $\frac{n+1}{2}$

אם יש מספר זוגי של איברים החציון יהיה הממוצע של האיבר ה-  $\frac{n}{2}$  והאיבר ה-  $\frac{n}{2} + 1$

כלומר שיש מספר אי-זוגי של תצפיות החציון יהיה:  $md = X_{\frac{n+1}{2}}$

ושיש מספר זוגי של תצפיות החציון יהיה:  $md = \frac{X_{\frac{n}{2}} + X_{\frac{n}{2}+1}}{2}$

בטבלת שכיחויות בדידה: נעשה תהליך דומה אך נעזר בשכיחות המצטברת. דיאגרמת מקלות: נמיר לטבלת שכיחויות בדידה במטרה למצוא את החציון. בטבלת שכיחויות במחלקות:

שלב א: נימצא את המחלקה החציונית שמיקומה יהיה  $\frac{n}{2}$ .

$$Md = L_0 + \frac{\frac{n}{2} - F(x_{m-1})}{f(x_m)} \cdot (L_1 - L_0)$$

$F(x_{m-1})$  - שכיחות מצטברת של מחלקה אחת לפני המחלקה החציונית.

$f(x_m)$  - השכיחות של המחלקה החציונית.

$L_0$  - גבול התחתון של המחלקה.

$L_1$  - גבול העליון של המחלקה.

היסטוגרמה: החציון הוא הערך על ציר ה-X שמחלק את ההיסטוגרמה לשני חלקים שווים בשטח.

כללי: החציון אינו רלבנטי למשתנה מסולם שמי ולא רלבנטי למשתנה איכותי.

**הממוצע:**

הנו מרכז הכובד של ההתפלגות.

$$\bar{x} = \frac{\sum_{i=1}^n x_i}{n} : \text{ברשימה}$$

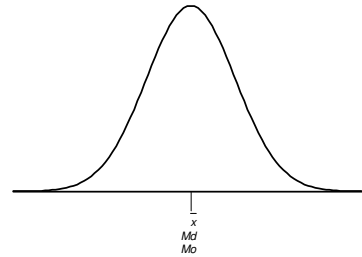
$$\bar{x} = \frac{\sum x \cdot f}{n} : \text{בטבלת שכיחויות}$$

**במחלקות:** נשתמש באותה נוסחה רק נתייחס לאמצע המחלקה בתור ה  $X$ . הממוצע הזה יהיה ממוצע מקורב.

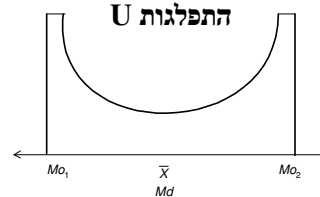
כללי: הממוצע רלבנטי רק למשתנה כמותי.

**מדדי המיקום המרכזי בהתפלגויות המיוחדות:**

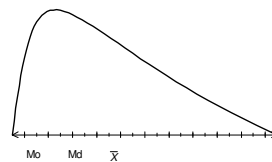
בהתפלגות סימטרית פעמונית כל מדדי המרכז שווים זה לזה:

**התפלגות סימטרית**

בהתפלגות סימטרית השכיח לא חייב להיות במרכז:

**התפלגות U**

בהתפלגות אסימטרית

**התפלגות א-סימטרית  
ימנית או חיובית****התפלגות  
א-סימטרית  
שמאלית או  
שלילית**

**תרגילים:**

1. להלן רשימת הציונים של 20 תלמידים שנבחנו במבחן הבנת הנקרא:  
7, 6, 8, 9, 10, 6, 4, 5, 8, 7, 6, 7, 6, 8, 9, 6, 7, 8, 5, 6  
חשב את החציון, השכיח, והממוצע של הציונים.

2. בדקו את מספר החדרים לדירה בבניין בן 5 דירות והתקבל ממוצע 3.8  
לגבי 4 דירות נמצא מספר חדרים: 4, 3, 4, 5.  
א. כמה חדרים יש בדירה החמישית?  
ב. מהו השכיח ומהו החציון?

3. להלן התפלגות מספר מקלטי הטלויזיה שנספרו עבור כל משפחה בישוב מסוים:

מספר מקלטים	מספר משפחות
0	22
1	28
2	18
3	22
4	10

א. חשב את הממוצע, החציון והשכיח של ההתפלגות.  
ב. הסבר ללא חישוב כיצד כל מדד שחישבת בסעיף א' היה משתנה אם חלק מהמשפחות (לא כולן) שלא היה להם עד היום טלוויזיה היו רוכשים מקלט אחד.

4. להלן התפלגות מספר המכוניות למשפחה בישוב "הגורן"

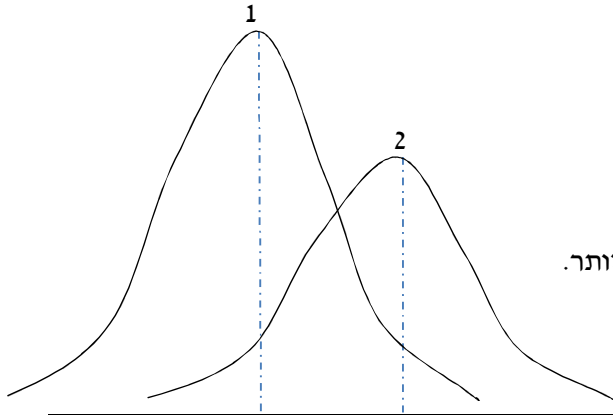
מספר מכוניות למשפחה	שכיחות
5	55
4	140
3	220
2	150
1	65

א. כמה משפחות יש בישוב?  
ב. מה אחוז המשפחות בישוב עם לכל היותר 2 מכוניות?  
ג. חשבו את הממוצע, החציון והשכיח.

הקפידו להסביר לגבי כל סעיף מה משמעות התוצאה שקיבלתם!



5. מורה לימד 2 כיתות, הוא תיאר באותה מערכת צירים את התפלגות הציונים בכל כיתה. בחר בתשובה הנכונה:



א. בכיתה 1 השכיח גבוה יותר מכיתה 2.

ב. בכיתה 2 השכיח גבוה יותר מכיתה 1.

ג. בשתי הכיתות אותו שכיח.

ד. לא ניתן לדעת באיזו כיתה השכיח גדול יותר.

6. ביישוב מסוים בדקו לכל משפחה את מספר הטלוויזיות שיש לה בבית. ביישוב גרות 200 משפחות. בממוצע יש למשפחה 1.5 טלוויזיות.

מספר משפחות	מספר טלוויזיות
28	0
62	1
	2
	3

א. השלימו את הטבלה.

ב. מהו השכיח, אמצע טווח והחציון.

ג. חלק מהמשפחות להן הייתה טלוויזיה אחת בדיוק הוציאו את הטלוויזיה מביתם, כיצד כל מדד ישתנה (יגדל, יקטן או לא ישתנה) הסבירו ללא חישוב.

7. להלן התפלגות המשקל של קבוצה מסוימת בק"ג:

מספר מקרים	משקל
10	40-45
20	45-50
30	50-60
20	60-65
10	65-70

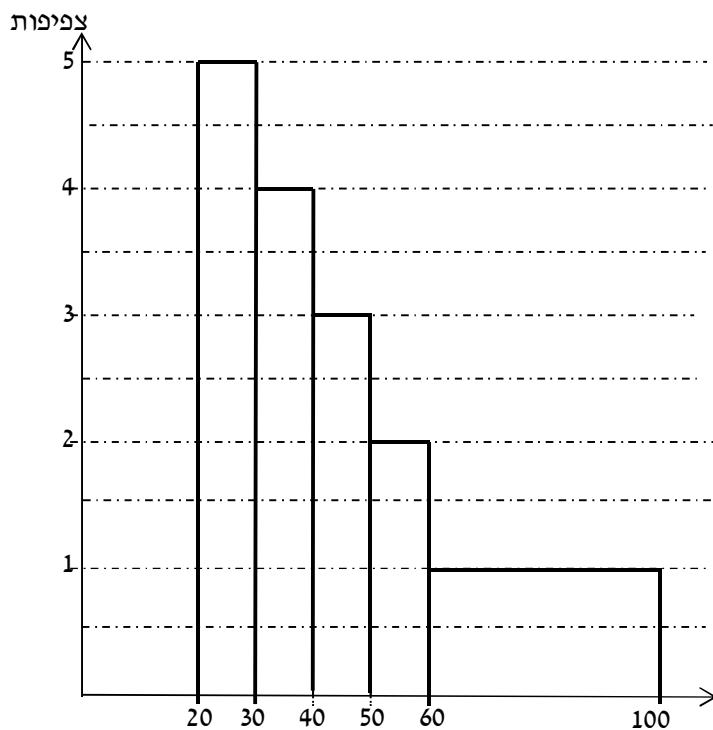
מה הממוצע והחציון של ההתפלגות?

8. להלן התפלגות הגבהים בס"מ בקבוצה מסוימת.

גובה בס"מ	שכיחות
150-160	30
160-170	40
170-175	60
175-180	70
180-190	40

חשב את הממוצע, החציון והשכיח של הגבהים בקבוצה זו.

9. בפקולטה מסוימת בדקו לסטודנטים העובדים בה את השכר לשעת עבודה. להלן התוצאות:



א. מצא את השכיח בהתפלגות.

ב. מצא את החציון בהתפלגות.

ג. הסבירו ללא חישוב האם הממוצע גדול/קטן/שווה לחציון.

ד. הסתבר שיש להוציא מספר תלמידים במחלקה בין 20-30 שקלים כיצד הדבר ישפיע על הממוצע, החציון והשכיח? הסבירו ללא חישוב.

**פתרונות:****שאלה 1:**

החציון: 7

השכיח: 6

הממוצע: 6.9

**שאלה 2:**

א. 3

ב. שכיח: 3,4 חציון: 4

**שאלה 3:**

א. הממוצע: 1.7

החציון: 1.5

השכיח: 1

ב. הממוצע יגדל ויתר המדדים לא ישתנו.

**שאלה 4:**

א. 630

ב. 34.13%

ג. שכיח וחציון: 3

ממוצע: 2.952

**שאלה 5:**

תשובה ב:

**שאלה 6:**

ב חציון: 2 שכיח: 2 אמצע טווח: 1.5

**שאלה 7:**

חציון וממוצע: 55

## פרק 6 - סטטיסטיקה תיאורית - מדדי פיזור : הטווח, השונות וסטיית התקן

### רקע:

**המטרה :** למדוד את הפיזור של הנתונים כלומר כמה הם רחוקים זה מזה ושונים זה מזה.

### הטווחותחום RANGE:

ההפרש בין התצפית הגבוהה ביותר לנמוכה ביותר :  $R = X_{\max} - X_{\min}$

### שונות וסטיית תקן:

השונות היא ממוצע ריבועי הסטיות מהממוצע וסטיית התקן היא שורש של השונות.

$$s_x^2 = \frac{\sum_{i=1}^n (x_i - \bar{x})^2}{n} = \frac{\sum_{i=1}^n x_i^2}{n} - \bar{x}^2 \quad \text{עבור סדרת נתונים}$$

דוגמה : נחשב את השונות של סדרת המספרים הבאה : 5,4,9

$$s_x^2 = \frac{\sum (x - \bar{x})^2 \cdot f}{n} = \frac{\sum x^2 \cdot f}{n} - \bar{x}^2 \quad \text{עבור טבלת שכיחויות}$$

להלן התפלגות הציונים בכיתה מסוימת בה ממוצע הציונים הוא 7.44

$x^2 \cdot f$	השכיחות-f	הציון X-
50	2	5
144	4	6
392	8	7
320	5	8
324	4	9
200	2	10
1430		סה"כ

$$s_x^2 = \frac{\sum x^2 f(x)}{n} - \bar{x}^2 = \frac{1430}{25} - 7.44^2 = 1.8464$$

$$s = \sqrt{s_x^2} = \sqrt{1.8464} = 1.3588$$

כשיש מחלקות נעזר באמצע המחלקה כדי לחשב את השונות.

**תרגילים:**

1. להלן רשימת הציונים של 20 תלמידים שנבחנו במבחן הבנת הנקרא:

7, 6, 8, 9, 10, 6, 4, 5, 8, 7, 6, 7, 6, 8, 9, 6, 7, 8, 5, 6  
 חשבו את השונות, סטיית התקן והטווח של הציונים.

2. להלן התפלגות מספר המכוניות למשפחה ב"הגורן"

מספר מכוניות למשפחה	1	2	3	4	5
שכיחות	65	150	220	140	55

א. חשבו סטיית התקן.

ב. חשבו את הטווח של הנתונים.

הקפידו להסביר לגבי כל סעיף מה משמעות התוצאה שקיבלתם!

3. בחברה העוסקת בטלמרקטינג בדקו עבור כל עובד את מספר שנות הוותק שלו. התקבל שממוצע שנות הוותק הוא 4 שנים וסטיית התקן היא שנתיים.

א. האם הממוצע יגדל/יקטן/לא ישתנה וסטיית התקן תגדל/תקטן/לא תשנה כאשר יתווספו שני עובדים עם וותק של 4 שנים להתפלגות?

ב. האם הממוצע יגדל/יקטן/לא ישתנה וסטיית התקן תגדל/תקטן/לא תשנה כאשר יתווספו שני

עובדים אשר אחד עם וותק של 0 שנים והשני עם וותק של 8 שנים להתפלגות?

4. נתונה רשימה של 5 תצפיות, אך רק עבור 4 מהן נרשמו הסטיות שלהן מהממוצע:

2, 3, 2, -1. חשב את השונות של חמש התצפיות.

5. בשכונה בדקו בכל דירה את מספר החדרים לדירה. בשכונה 200 דירות.

מספר חדרים	פרופורציה
1	0.1
2	0.2
3	0.4
4	0.15
5	

א. מה הממוצע של מספר החדרים לשכונה בדירה?

ב. חשבו את סטיית התקן של מספר החדרים לדירה.

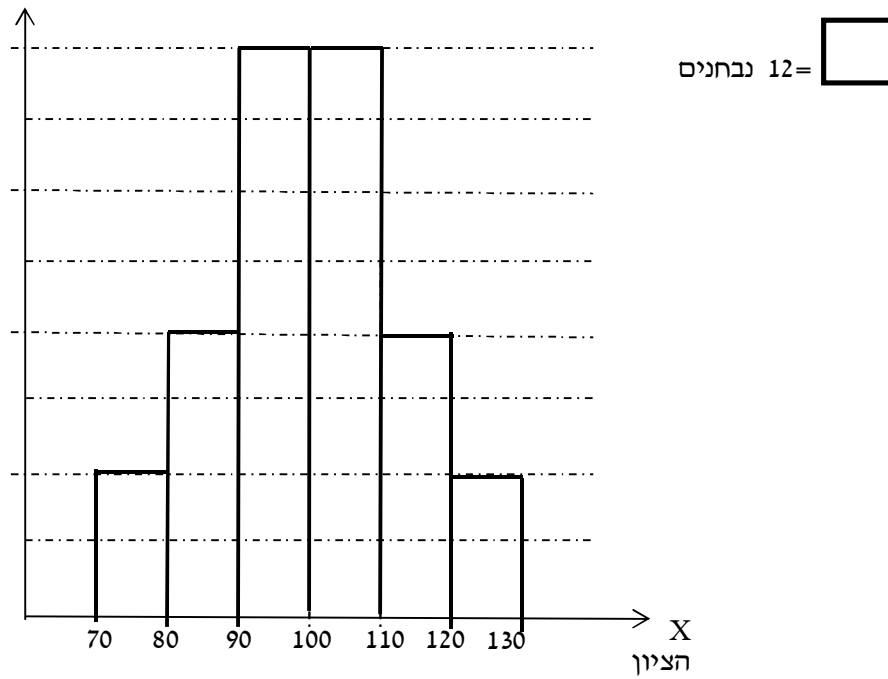
ג. חלק מבעלי הדירות בנות 2 החדרים הפכו את דירתם לדירת חדר. כיצד הדבר ישפיע (יקטין, יגדל, לא ישנה) כל מדד שחישבתם בסעיפים הקודמים.

6. להלן התפלגות המשקל של קבוצה מסוימת בק"ג:

מספר מקרים	משקל
10	40-45
20	45-50
30	50-60
20	60-65
10	65-70

מהי סטיית התקן של התפלגות המשקל?

7. להלן התפלגות הציונים במבחן אינטליגנציה:



- א. מה הממוצע ומה החציון של ההתפלגות?
- ב. חשבו את סטיית התקן של הציונים.
- ג. מסתבר שיש להוסיף 20 תצפיות לכל אחת משתי המחלקות 90-100 ו-100-110. כיצד הדבר ישתנה את כל אחד מהמדדים של הסעיפים הקודמים?

**פתרונות :****שאלה 1:**

השונות : 2.19

סטיית תקן : 1.48

טווח : 6

**שאלה 2:**

א. סטיית תקן: 1.106

ב. טווח 4

**שאלה 3:**

א. ממוצע לא ישתנה, סטיית התקן תקטן.

ב. ממוצע לא ישתנה, סטיית התקן תגדל.

**שאלה 4:**

10.8

**שאלה 5:**

א. 3.05

ב. 1.16

**שאלה 6:**

7.73

**שאלה 7:**

א. 100

ב. 12.96



**פרק 7 - סטטיסטיקה תיאורית - מדדי מיקום יחסי - אחוזונים בטבלת שכיחויות בדידה**

**רקע:**

האחוזון (המאון)  $p$  הוא הערך בנתונים המחלק את הנתונים בצורה כזאת שעד אליו כולל יש  $p\%$  מהנתונים.

מסמנים את האחוזון ה- $p$  ב- $X_p$ .

**חישוב האחוזון מתוך נתונים בטבלת שכיחויות בדידה :**

האחוזון הוא הערך שבו בפעם הראשונה השכיחות היחסית המצטברת (באחוזים) גדולה או שווה ל- $p\%$ .

**דוגמה:** (פתרון בהקלטה)

בסניף בנק 250 לקוחות. ספרו לכל לקוח את מספר תכניות החיסכון שלו :

# תכניות החיסכון	$f(x)$	שכיחות מצטברת	שכיחות יחסית מצטברת
0	100		
1	75		
2	25		
3	25		
4	25		

מצא את האחוזון ה-25.

מצא את הערך ש-20% מהמקרים מעליו.

**תרגילים:**

1. להלן התפלגות של משתנה כלשהו.

$f(x)$	$X$
10	0
40	1
30	2
15	3
5	4

מצא להתפלגות את:  
 האחוזון ה-60.  
 המאון ה-40.  
 העשירון העליון.  
 הטווח בין הרבעונים.

2. להלן התפלגות מספר המכוניות למשפחה בישוב "הגורן"

מספר מכוניות למשפחה	1	2	3	4	5
שכיחות	65	150	220	140	55

חשבו את:  
 א. העשירון התחתון.  
 ב. האחוזון ה-30.  
 ג. הערך ש-20% מהתצפית גדולות ממנו.  
 ד. רבעון עליון.

**פתרונות:**

**שאלה 2**

א. 1

ב. 2

ג. 4

ד. 4

## פרק 8 - סטטיסטיקה תיאורית - מקדם ההשתנות

### רקע:

כאשר מחשבים סטיית תקן למספר קבוצות בעלי ממוצע שונה, השוואת מידת פיזור הנתונים אינה מתייחסת לערך מרכז הנתונים (לממוצע למשל). על מנת לתת מדד פיזור המתחשב בממוצע הנתונים נחשב את **מקדם ההשתנות - Coefficient of Variation** :

$$CV = \frac{S(X)}{\bar{X}}$$

ככל שמקדם ההשתנות נמוך יותר המשתנה מרוכז יותר סביב הממוצע וככל שמקדם ההשתנות גבוהה יותר, מידת הפיזור סביב הממוצע גבוהה יותר.

**תרגילים:**

1. להלן נתונים לגבי ציונים במבחן באנגלית ב-3 כיתות מתוך שכבה י' בתיכון:

כיתה	ממוצע	מס' תלמידים	סטיית תקן
1	76	40	12
2	68	20	15
3	82	30	10

א. חשבו את מקדם ההשתנות בכל כיתה.

ב. מהי הכיתה הכי הטרוגנית?

2. נתונות שתי קבוצות:

הממוצע בקבוצה א 100 והשונות 100.

הממוצע בקבוצה ב 500 והשונות 400.

באיזו קבוצה מידת הפיזור יחסית קטן יותר?

3. במפעל לייצור מצברים לרכב בדקו במשך 40 ימים את התפוקה היומית ( מספר מצברים

במאות) ואת מספר הפועלים שעבדו באותו היום.

להלן טבלה המסכמת את האינפורמציה שנאספה על שני המשתנים:

מספר פועלים	תפוקה	
15	48	ממוצע
2	10	סטיית תקן

לפי קריטריון CV. בחר את התשובה הנכונה.

א. הפיזור באופן יחסי שווה בין התפוקה היומית לכמות הפועלים העובדים ביום.

ב. הפיזור יחסית יותר גדול עבור התפוקה היומית מאשר עבור מספר הפועלים ביום.

ג. הפיזור יחסית יותר גדול עבור מספר הפועלים ביום מאשר עבור התפוקה היומית.

ד. אין מספיק נתונים כדי לחשב את CV.

**פתרונות:**

**שאלה 2:**

קבוצה 2

**שאלה 1:**

ב. כתה ב

**שאלה 3:**

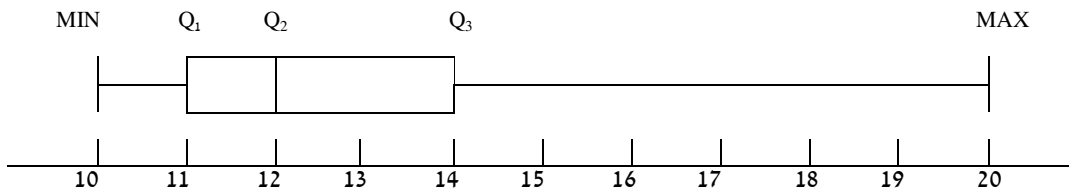
תשובה ב

## פרק 9 - סטטיסטיקה תיאורית - תרשים קופסא - boxplot

### רקע:

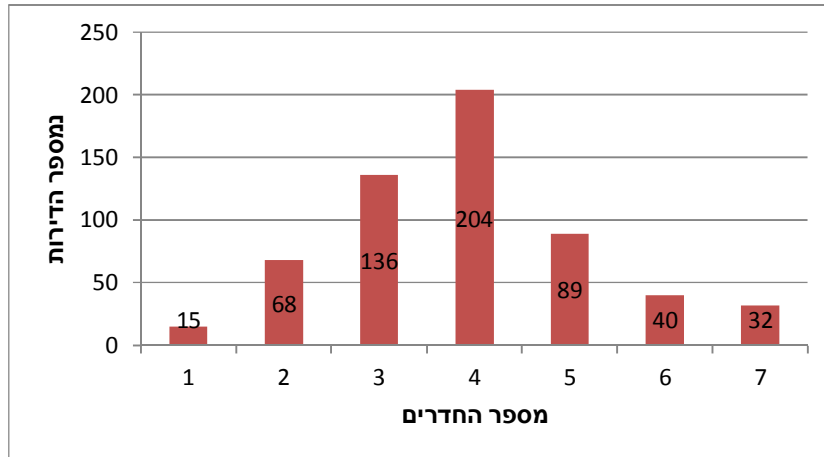
תרשים קופסא הינו תרשים שבעזרתו ניתן לבחון:

1. את המרכז של ההתפלגות על ידי החציון ( $Q_2$ )
2. את הפיזור של הנתונים (הטווח והטווח הבין רבעוני)
3. את צורת ההתפלגות (סימטרית ואסימטרית ימנית או אסימטרית שמאלית)



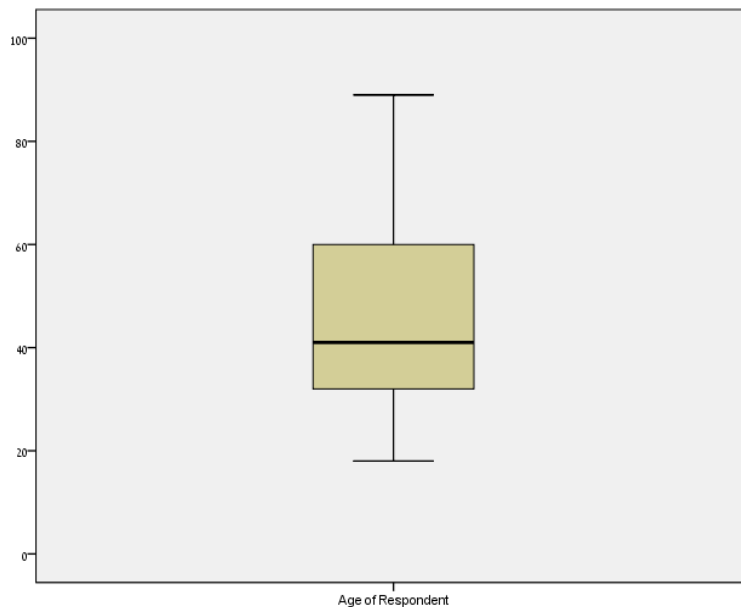
### תרגילים:

1. להלן התפלגות מספר החדרים לדירות שנבנו בשנת 2009 בעיר אשדוד.



- מצא את החציון, הרבעון התחתון והרבעון העליון של ההתפלגות.
- שרטט דיאגרמת קופסא להתפלגות.
- מה ניתן לומר על צורת ההתפלגות?

2. להלן דיאגרמת קופסא המתארת את התפלגות הגיל בשנים באוכלוסייה מסוימת:



- מהו בערך הגיל החציוני באותה אוכלוסייה?
- מה בערך טווח הגילאים?
- מה ניתן להגיד על צורת ההתפלגות?



**פתרונות:****שאלה 1:**

- א. חציון : 4
- רבעון תחתון : 3
- רבעון עליון : 5
- ג. כמעט סימטרית

**שאלה 2:**

- א. חציון : 40
- ב. טווח : 70
- ג. התפלגות אסימטרית ימנית

## פרק 10 - הסקה סטטיסטית - הקדמה

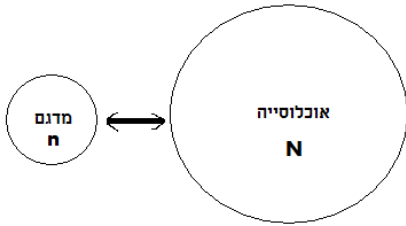
### רקע:

אוכלוסייה – קבוצה שאליה מפנים שאלה מחקרית.

למשל, חברת תרופות שמעוניינת לפתח תרופה למחלת הסוכרת מתעניינת באוכלוסיית חולי הסוכרת בעולם.

מדגם – חלק מתוך האוכלוסייה.

למשל, אם נדגום באקראי 10 אנשים מתוך חולי הסוכרת אז זהו מדגם מתוך אוכלוסיית חולי הסוכרת.



במקרים רבים אין אפשרות לחקור את כל האוכלוסייה כיוון שאין גישה לכולה, היא גדולה מידי, או מוגבלים בזמן ובאמצעים טכניים ולכן מבצעים מדגם במטרה לבצע הסקה סטטיסטית מהמדגם לאוכלוסייה.

הדגימה בקורס תהייה דגימה מקרית הכוונה לדגימה שבה לכל תצפית באוכלוסייה יש את אותו סיכוי להיכלל במדגם.

סטטיסטי – גודל המחושב על המדגם.

פרמטר – גודל המתאר את האוכלוסייה.

הסימונים לפרמטר וסטטיסטי הם שונים

למשל:

פרמטר (אוכלוסייה)	סטטיסטי (מדגם)	
$\mu$	$\bar{X}$	ממוצע
P	$\hat{p}$	פרופורציה (שכיחות יחסית)

פרמטר הוא גודל קבוע גם אם לא יודעים אותו סטטיסטי הוא משתנה ממדגם למדגם ולכן יש לו התפלגות הנקראת התפלגות הדגימה.

**דוגמה (פתרון בהקלטה):**

25% מאזרחי המדינה תומכים בהצעת החוק של חבר כנסת מסוים . הוחלט לדגום 200 אזרחים ומתוכם לבדוק מהו אחוז התומכים בהצעת החוק.

א. מי האוכלוסייה?

ב. מה המשתנה?

ג. מה הפרמטרים?

ד. מהו גודל המדגם?

ה. מהו הסטטיסטי שמתכננים להוציא מהמדגם?

ו. האם הפרמטר או הסטטיסטי הוא משתנה מקרי?

**תרגילים :**

1. מתוך כלל הסטודנטים במכללה שסיימו סטטיסטיקה א נדגמו שני סטודנטים. נתון שממוצע הציונים של כלל הסטודנטים היה 78 עם סטיית תקן של 15.
- א. מי האוכלוסייה?  
 ב. מה המשתנה?  
 ג. מהם הפרמטרים?  
 ד. מהו גודל המדגם?
2. להלן התפלגות מספר מקלטי הטלויזיה למשפחה בישוב "העוגן".  
 נגדיר את  $x$  להיות מספר המקלטים של משפחה אקראית.  
 מתכננים לדגום מאוכלוסייה זו 4 משפחות ולהתבונן בממוצע מספר מקלטי הטלויזיה במדגם.

מספר מקלטים	מספר המשפחות
0	50
1	250
2	350
3	300
4	50
	סך הכול $N = 1000$

- א. מיהי האוכלוסייה ומהו המשתנה הנחקר?  
 ב. מהו הסטטיסטי שיילקח מהמדגם ומה סימונו?
3. נתון כי 20% מהשכירים במדינה הם אקדמאיים. נבחרו באקראי 10 שכירים באותה אוכלוסייה ומתכננים לפרסם את מספר האקדמאיים שנדגמו.
- א. מהי האוכלוסייה?  
 ב. מה המשתנה באוכלוסייה?  
 ג. מהם הפרמטרים?  
 ד. מהו הסטטיסטי?

## פרק 11 - מושגים בסיסיים באמידה

### רקע:

כזכור מהמפגש הקודם פרמטר הוא גודל המתאר את האוכלוסייה או התפלגות מסוימת.

כמו ממוצע הגבהים בקרב מתגייסים לצה"ל- $\mu$ .

כמו פרופורציית התומכים בממשלה בקרב אזרחי המדינה -  $p$ .

בדרך כלל הפרמטרים הם גדלים שאינם ידועים באמת, ולכן מבצעים מדגמים במטרה לאמוד אותם. אין אפשרות לחשב אותם הניסיון הוא בלהעריך כמה הם שווים ככל שניתן.

• נסמן באופן כללי פרמטר באות  $\theta$  ואומד ב- $\hat{\theta}$ . הוא סטטיסטי המחושב על המדגם ובאמצעותו נאמוד את  $\theta$ .

• שגיאת אמידה:  $|\hat{\theta} - \theta|$  - ההפרש בין האומד לאמת(הפרמטר).

### דוגמה: (פתרון בהקלטה)

בכנסת ה-19 קיבלה מפלגת העבודה 15 מנדטים. בערוץ 10 ברגע סגירת הקלפיות העריכו את מספר המנדטים של המפלגה להיות 17 מנדטים וזאת על סמך תוצאות מדגם של הערוץ.

מה הפרמטר בדוגמה זו?

מהי טעות האמידה של ערוץ 10?

- $E(\hat{\theta}) = \theta$  יהיה אומד חסר הטיה ל  $\theta$  אם התוחלת של  $\hat{\theta}$  תהיה שווה ל  $\theta$  :  $E(\hat{\theta}) = \theta$
- טעות התקן של אומד היא סטיית התקן שלו, כלומר :  $\sigma(\hat{\theta}) = S.E$

להלן פרמטרים מרכזיים והאומדים שלהם:

ממוצע האוכלוסייה:  $\mu$

$$\bar{x} = \frac{\sum x}{n} \text{ האומד הנקודתי שלו יהיה: ממוצע המדגם}$$

$E(\bar{x}) = \mu$  לכן  $\bar{x}$  הינו אומר חסר הטיה ל  $\mu$ .

$$\sigma(\bar{x}) = \frac{\sigma}{\sqrt{n}} = SE \text{ כמו כן טעות תקן:}$$

פרופורציה באוכלוסייה:  $p$

$$\hat{p} = \frac{y}{n} \text{ האומד הנקודתי שלו יהיה: פרופורציה במדגם:}$$

$E(\hat{p}) = p$  לכן  $\hat{p}$  הינו אומר חסר הטיה ל  $p$ .

$$\sigma(\hat{p}) = \sqrt{\frac{p \cdot (1-p)}{n}} \text{ כמו כן טעות התקן:}$$

שונות האוכלוסייה:  $\sigma^2$

$$S^2 = \frac{\sum (x_i - \bar{x})^2}{n-1} \text{ האומד הנקודתי שלו יהיה:}$$

$E(S^2) = \sigma^2$  ולכן  $S^2$  הינו אומד חסר הטיה ל  $\sigma^2$ .

$$S^2 = \frac{\sum (x_i - \bar{x})^2}{n-1} = \frac{\sum x_i^2 - n\bar{x}^2}{n-1}$$

הערה: אומד הוא הנוסחה הכללית לאמידת הפרמטר ואומדן הוא הערך הספציפי שהתקבל במדגם מסוים.

**דוגמה: ( פתרון בהקלטה )**

נדגמו 10 משפחות בתל אביב ונבדק עבור כל משפחה מספר הילדים שלה. להלן התוצאות שהתקבלו:

2,1,3,2,1,4,5,2,1,3

אמדו באמצעות אומדים חסרי הטיה את הפרמטרים הבאים:

1. ממוצע מספר הילדים למשפחה בתל אביב.

2. שונות מספר הילדים למשפחה בתל אביב.

3. פרופורציית המשפחות בנות שני ילדים.

**תרגילים:**

1. מתוך 500 טירונים נמצאו 120 בעלי שברי הליכה. נתון שהסיכוי שטירון יהיה עם שבר הליכה הוא 0.25.
- א. מהי האוכלוסייה המוצגת בשאלה? מהם הפרמטרים שלה?
- ב. מהי טעות התקן של האומדן כשהמדגם בגודל 500?
- ג. מהו האומדן לפרמטר?
- ד. מהי טעות האמידה?
2. לפי נתוני היצרן מקרר צורך בממוצע 2400 וואט לשעה עם סטיית תקן של 500 וואט לשעה. במדגם של 25 מקררים של היצרן התקבל ממוצע של 2342 וואט לשעה.
- א. מהי האוכלוסייה המוצגת בשאלה? מהם הפרמטרים שלה?
- ב. מהי טעות התקן של האומדן?
- ג. מהו האומדן לפרמטר?
- ד. מהי טעות האמידה?
3. נדגמו עשרה מתגייסים לצה"ל. גובהם נמדד בס"מ. להלן התוצאות שהתקבלו:
- 175, 168, 184, 192, 171, 180, 177, 187, 168, 177.
- א. מצא אומדן חסר הטיה לגובה הממוצע של מתגייסי צה"ל.
- ב. מצא אומדן חסר הטיה לשונות הגבהים של מתגייסי צה"ל.
- ג. מצא אומדן חסר הטיה לפרופורציות המתגייסים בגובה של לפחות 180 ס"מ.
4. נדגמו 20 שכירים באקראי. עבור כל שכיר נמדד השכר באלפי שקלים. להלן התוצאות שהתקבלו:
- $$\sum_{i=1}^{20} X_i^2 = 1502.2 \quad \sum_{i=1}^{20} X_i = 162$$
- א. אמדו את השכר הממוצע של השכירים במשק.
- ב. אמדו את סטיית התקן של שכר השכירים במשק.



5. במטרה לאמוד את ממוצע האוכלוסייה. דגמו תצפיות בלתי תלויות מהאוכלוסייה וחישובו את הממוצע שלהם. מהי טעות התקן?  
 א. סטיית התקן של האוכלוסייה.  
 ב. סטיית התקן של ממוצע האוכלוסייה.  
 ג. סטיית התקן של המדגם.  
 ד. סטיית התקן של ממוצע המדגם.

6. משקל הממוצע של אוכלוסייה מסוימת הוא 75 ק"ג עם שונות של 25. אם יבחרו כל המדגמים האפשריים בגודל 10 מאוכלוסייה זו סטיית התקן של ממוצעי המדגמים תהיה:

א. 3

ב. 2.5

ג. 1.581

ד. אין מספיק נתונים לדעת.

7. במדגם מקרי, מתי סכום ריבועי הסטיות מהממוצע,  $\sum_{i=1}^n (x_i - \bar{x})^2$ , מחולק ב-  $n-1$ ?

א. כאשר  $n$  קטן.

ב. כאשר תצפיות המדגם אינן בלתי תלויות.

ג. כאשר האוכלוסייה אינה מתפלגת נורמאלית.

ד. כאשר מעוניינים באומדן חסר הטיה לשונות האוכלוסייה ממנה הוצא המדגם.

ה. כאשר מעוניינים לחשב את שונות התפלגות הדגימה של ממוצע המדגם.

8.  $X_1, X_2, \dots, X_{16}$  מדגם מקרי מתוך אוכלוסייה בעלת ממוצע  $\mu$  לא ידוע ושונות

$\sigma^2 = 64$ . טעות התקן של האומדן ל-  $\mu$  היא:

א. 16

ב. 8

ג. 4

ד. 2

9. מהו אומד חסר הטיה?

- א. אומד שערכו שווה לממוצע התפלגות הדגימה שלו.
- ב. אומד שערכו שווה לערך הפרמטר באוכלוסייה.
- ג. אומד שממוצע התפלגות הדגימה שלו שווה לערך הפרמטר באוכלוסייה.
- ד. אומד שהסיכוי שערכו יהיה גבוה מערך הפרמטר באוכלוסייה שווה לסיכוי שיהיה נמוך ממנו.

**פתרונות:****שאלה 3**

א. 177.9

ב. 64.1

ג. 0.4

**שאלה 4**

א. 8.1

ב. 3.16

**שאלה 5**

התשובה היא ד.

**שאלה 6**

התשובה היא ג.

**שאלה 7**

התשובה היא ד.

**שאלה 8**

התשובה היא ד.

**שאלה 9**

התשובה היא ג.

## פרק 12 - רווח סמך לתוחלת (ממוצע האוכלוסייה)

### רווח סמך כששונות האוכלוסייה ידועה

#### רקע:

ממוצע המדגם הוא אומדן לממוצע האוכלוסייה, אך לא באמת ניתן להבין ממנו על גודלו של ממוצע האוכלוסייה. ההסתברות שממוצע המדגם יהיה בדיוק כמו הממוצע האמיתי הוא אפסי. מה שנהוג לעשות כדי לאמוד את ממוצע האוכלוסייה זה לבנות רווח סמך.

נבנה מרווח בטחון שהסיכוי שהפרמטר  $\mu$  ייכלל בתוכו הוא  $1-\alpha$ .

$1-\alpha$ : נקרא רמת בטחון או רמת סמך.

כך ש:  $P(A \leq \mu \leq B) = 1 - \alpha$

A - גבול התחתון של רווח הסמך

B - הגבול העליון של רווח הסמך

$L = B - A$  - אורך רווח הסמך

#### דוגמה: (פתרון בהקלטה)

חוקר דגם 25 חיילים שנבחנו במבחן הפסיכומטרי. הוא בנה רווח סמך לממוצע הציונים במבחן הפסיכומטרי בקרב אוכלוסיית החיילים וקיבל בין 510 ל-590. רווח הסמך נבנה ברמת סמך של 95%.

מהי אוכלוסיית המחקר?

מה המשתנה באוכלוסייה?

מה הפרמטר שהחוקר רצה לאמוד?

מהו רווח הסמך?

מה אורך רווח הסמך?

מהי רמת הביטחון של רווח הסמך?

בפרק זה נרצה לבנות רווח סמך לתוחלת (  $\mu$  ) במקרה ש  $\sigma^2$  (שוונות האוכלוסייה) ידועה

הפרמטר שנרצה לאמוד :  $\mu$

האומד נקודתי :  $\bar{x}$

התנאים לבניית רווח הסמך :

1  $X \sim N$  או  $n \geq 30$

2  $\sigma^2$  (שוונות האוכלוסייה) ידועה

הנוסחה לרווח הסמך :

$$\bar{x} \pm Z_{1-\frac{\alpha}{2}} \cdot \frac{\sigma}{\sqrt{n}}$$

דוגמה : (פתרון בהקלטה)

על פי נתוני היצרן אורך חיי סוללה מתפלג נורמאלית עם סטיית תקן של 1 שעה.

מעוניינים לאמוד את תוחלת חיי סוללה.

נדגמו באקראי 4 סוללות, אורך החיים הממוצע שהתקבל הוא 13.5 שעות.

בנו רווח סמך ברמת סמך של 95% לתוחלת אורך חיי סוללה.

שגיאת האמידה המקסימלית:

$$\varepsilon = Z_{1-\frac{\alpha}{2}} \cdot \frac{\sigma}{\sqrt{n}}$$

$\varepsilon$  -נותן את שגיאת האמידה המקסימלית, דבר שנקרא גם טעות סטטיסטית, טעות דגימה.

דוגמה: (פתרון בהקלטה)

בהמשך לשאלה עם הסוללות. מה ניתן להגיד בביטחון של 95% על שגיאת האמידה?

קשרים מתמטיים ברווח הסמך:

- אורך רווח הסמך הוא פעמיים שגיאת האמידה המקסימלית:  $L = 2\varepsilon$ .
- ממוצע המדגם נופל תמיד באמצע רווח הסמך:  $\bar{X} = \frac{A+B}{2}$
- ככל שמספר התצפיות (n) גבוה יותר, כך יש יותר אינפורמציה ולכן האומדן יותר מדויק, ולכן נקבל רווח סמך יותר קצר.
- ככל שרמת הביטחון  $(1 - \alpha)$  גבוהה יותר כך  $z_{1-\alpha/2}$  יותר גבוה, ורווח הסמך יותר ארוך.

### תרגילים :

1. חוקר התעניין לאמוד את השכר הממוצע במשק. על סמך מדגם הוא קבע שבביטחון של 95% כי השכר הממוצע במשק נע בין 9200 ל-9800.
  - א. מי האוכלוסייה במחקר?
  - ב. מה המשתנה הנחקר?
  - ג. מה הפרמטר שאותו רוצים לאמוד?
  - ד. מה רווח הסמך לפרמטר?
  - ה. מהי רמת הסמך לפרמטר?
  - ו. מה אורך רווח הסמך?
  - ז. מה הסיכוי שטעות הדגימה תעלה על 300 ₪?
  
2. מעוניינים לאמוד את התפוקה היומית הממוצעת של מפעל מסוים ברמת סמך של 95%. במדגם אקראי של 100 ימים התקבלה תפוקה ממוצעת 4950 מוצרים ביום. לצורך פתרון הנח שסטיית התקן האמתית ידועה ושווה 150 מוצרים ביום. בנה את רווח הסמך.
  - א. בנו רווח סמך ברמת סמך של 90% לאורך החיים הממוצע של מכשיר.
  - ב. בנו רווח סמך ברמת סמך של 95% לאורך החיים הממוצע של מכשיר.
  - ג. הסבר כיצד ומדוע השתנה רווח הסמך.
  
3. מעוניינים לאמוד את ממוצע אורך החיים של מכשיר. מנתוני היצרן ידוע שאורך החיים מתפלג נורמאלי עם סטיית תקן של 20 שעות. נדגמו 25 מכשירים ונמצא כי ממוצע אורך החיים שלהם היה 230 שעות.
  - א. בנו רווח סמך ברמת סמך של 90% לאורך החיים הממוצע של מכשיר.
  - ב. בנו רווח סמך ברמת סמך של 95% לאורך החיים הממוצע של מכשיר.
  - ג. הסבר כיצד ומדוע השתנה רווח הסמך.
  
4. דגמו 200 עובדים מהמשק הישראלי. השכר הממוצע שלהם היה 9700 ₪. נניח שסטיית התקן של השכר במשק היא 3000 ₪.
  - א. בנו רווח סמך ברמת סמך של 95% לתוחלת השכר במשק.
  - ב. מה ניתן לומר בביטחון של 95% על הסטייה המרבית בין ממוצע המדגם לתוחלת השכר?
  - ג. מה היה צריך להיות גודל המדגם אם הינו רוצים להקטין את רווח הסמך ב-50%?
  - ד. אם היינו מגדילים את גודל המדגם ובונים רווח סמך באותה רמת סמך האם היה ניתן לטעון בביטחון רב יותר שרווח הסמך מכיל את הפרמטר?
  
5. בנו רווח סמך לממוצע הציונים של מבחן אינטליגנציה. ידוע שסטיית התקן היא 15 והמדגם מתבסס על 100 תצפיות. רווח הסמך שהתקבל הוא (99,105). שחזרו את :
  - א. ממוצע המדגם.
  - ב. שגיאת האמידה המקסימאלית.
  - ג. רמת הסמך.

6. זמן החלמה מאנגינה מתפלג עם סטיית תקן של יומיים. חברת תרופות מעוניינת לחקור אנטיביוטיקה חדשה שהיא פיתחה. במחקר השתתפו 60 אנשים שחלו באנגינה וקיבלו את האנטיביוטיקה החדשה. בממוצע הם החלימו לאחר 4 ימים.
- א. בנו רווח סמך לתוחלת זמן ההחלמה תחת האנטיביוטיקה החדשה ברמת סמך של 90%.
- ב. מה היה קורה לאורך רווח הסמך אם היה תקציב להגדלת גודל המדגם פי 4? הסבירו.
- ג. מה היה קורה לאורך רווח הסמך אם היינו בונים את רווח הסמך ברמת סמך גדולה יותר? הסבירו.
7. חוקר בנה רווח סמך לממוצע וקיבל את רווח הסמך הבא:  $82 < \mu < 92$ .
- נתון שסטיית התקן בהתפלגות שווה ל-10 ושהמדגם מתבסס על 16 תצפיות. התפלגות המשתנה היא נורמאלית.
- א. מהו ממוצע המדגם?
- ב. מהי רמת הסמך של רווח הסמך שנבנה?
- ג. מה הסיכוי ששגיאת האמידה באמידת ממוצע האוכלוסייה תעלה על 5 ?
8. חוקר בנה רווח סמך לתוחלת כאשר השונות בהתפלגות ידועה ברמת סמך של 95%. אם החוקר כעת יבנה על סמך אותם נתונים רווח סמך ברמת סמך קטנה מ-95%, מי מהמשפטים הבאים אינו יהיה נכון.
- א. אורך רווח הסמך החדש יהיה קטן יותר.
- ב. גודל המדגם יהיה כעת קטן יותר.
- ג. המרחק בין ממוצע המדגם לקצות רווח הסמך יהיו קטנים יותר ברווח הסמך החדש.
- ד. רמת הביטחון לבנות רווח הסמך החדש תהיה קטנה יותר.
9. חוקר בנה רווח סמך ל- $\mu$  וקיבל  $48 < \mu < 54$  מה נכון בהכרח:
- א.  $\mu = 51$
- ב.  $\bar{X} = 6$
- ג.  $\bar{X} = 51$
- ד. אורך רווח הסמך הינו 3.
10. איזה מהגורמים הבאים אינו משפיע על גודלו של רווח בר סמך, כאשר שונות האוכלוסייה ידועה? (בחר בתשובה הנכונה)
- א. רמת הביטחון.
- ב. סטיית התקן באוכלוסייה.
- ג. מספר המשתתפים.
- ד. סטיית התקן במדגם.



11. חוקר בנה רווח סמך לממוצע וקיבל את רווח הסמך הבא:  $63 < \mu < 83$ . נתון שסטיית התקן בהתפלגות הייתה ידועה לו ושהמדגם התבסס על 40 תצפיות. א. אם החוקר היה רוצה לבנות רווח סמך באורך 10. כמה תצפיות עליו היה לדגום? ב. רווח הסמך שנבנה על ידי החוקר היה ברמת סמך של 95%. בנה את רווח הסמך שהיה מתקבל ברמת סמך של 98%.

12. נתון משתנה מקרי רציף מתפלג אחיד:  $X_i \sim U(\mu - 0.5, \mu + 0.5)$ . נרצה לאמוד את  $\mu$ . מצאו רווח סמך ל- $\mu$  ברמת-בטחון של 0.95 אם במדגם של 45 תצפיות התקבל:  $\bar{x} = 74$ .

$$(\text{Var}(X_i) = \frac{(b-a)^2}{12} : \text{תזכורת על השונות בהתפלגות אחידה רציפה})$$

**פתרונות :****שאלה 2**

$$4920.6 < \mu < 4979.4$$

**שאלה 3**

$$223.42 < \mu < 236.58 \text{ א.}$$

$$222.16 < \mu < 237.84 \text{ ב.}$$

**שאלה 5**

$$102 \text{ א.}$$

$$3 \text{ ב.}$$

$$0.9544 \text{ ג.}$$

**שאלה 6**

$$3.48 < \mu < 4.52 \text{ א.}$$

$$2 \text{ ב. יקטן פי 2}$$

$$\text{ג. גדל}$$

**שאלה 7**

$$87 \text{ א.}$$

$$0.9544 \text{ ב.}$$

**שאלה 8**

התשובה היא : ב

**שאלה 9**

התשובה היא : ג

**שאלה 10**

התשובה היא : ד

**קביעת גודל מדגם באמידת תוחלת עם שונות אוכלוסייה ידועה**

**רקע:**

אם מעוניינים לאמוד את ממוצע האוכלוסייה כאשר סטיית התקן של האוכלוסייה ידועה:  $\sigma$   
ברמת סמך של  $1 - \alpha$  ושגיאת אמידה שלא תעלה על  $\varepsilon$  מסוים, נציב בנוסחה הבאה:

$$n \geq \left( \frac{z_{1-\frac{\alpha}{2}} \cdot \sigma}{\varepsilon} \right)^2$$

כדי להציב בנוסחה צריך שהמשתנה הנחקר יתפלג נורמלית או שהמדגם ייצא בגודל של לפחות 30 תצפיות.

**דוגמה:** (פתרון בהקלטה)

חברת תעופה מעוניינת לאמוד את תוחלת משקל המטען של נוסע. נניח שמשקל מטען של נוסע מתפלג נורמאלית עם סטיית תקן של 2 ק"ג. כמה נוסעים יש לדגום אם מעוניינים שבביטחון של 98% הסטייה המרבית בין ממוצע המדגם לממוצע האמיתי לא יעלה על 0.5 ק"ג? (תשובה: 87)

**תרגילים:**

1. משתנה מקרי מתפלג נורמאלית עם סטיית תקן ידועה 12. מה צריך להיות גודל המדגם כדי לבנות רווח סמך ברמת סמך של 98% שאורכו לא יעלה על 2?
2. מעוניינים לאמוד את הדופק הממוצע של מתגייסים לצבא. מעוניינים שבביטחון של 95% שגיאת האמידה המרבית תהיה 0.5. נניח שהדופק מתפלג נורמאלית על סטיית תקן של 3 פעימות לדקה.  
 א. כמה מתגייסים יש לדגום?  
 ב. אם ניקח מדגם הגדול פי 4 מהמדגם של סעיף א ונאמוד את הממוצע באותה רמת סמך כיצד הדבר ישפיע על שגיאת האמידה?
3. יהי  $X$  משתנה מקרי עם ממוצע  $\mu$  וסטיית תקן  $\sigma$ . חוקר רוצה לבנות רווח בר סמך ל  $\mu$  ברמת ביטחון של 0.95 כך שהאורך של הרווח יהיה  $0.5\sigma$ . מהו גודל המדגם הנדרש?

**פתרונות :****שאלה 1**

780

**שאלה 2**

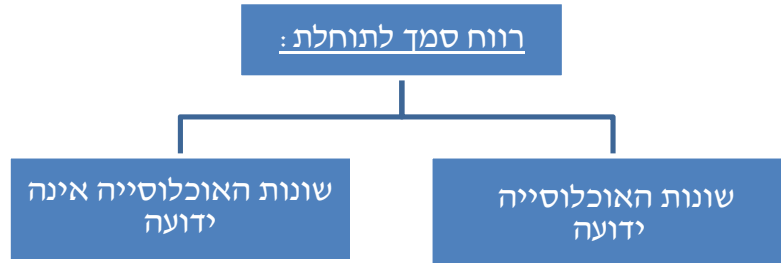
א. 139

ב. הדבר יקטין את  $\varepsilon$  פי 2.**שאלה 3** $n = 62$

## רווח סמך לתוחלת (ממוצע האוכלוסייה) כששונות האוכלוסייה אינה ידועה

רקע:

בבואנו לבנות רווח סמך לתוחלת אנו צריכים להתמקד בשני המצבים הבאים:



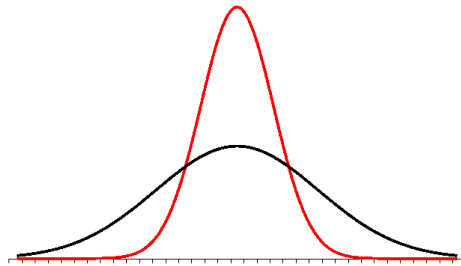
בפרק זה נעסוק במקרה ששונות האוכלוסייה ( $\sigma^2$ ) אינה ידועה לנו. מקרה יותר פרקטי.

התנאי:  $X \sim N$  או שהמדגם גדול

$$\bar{X} \pm t_{1-\alpha/2}^{(n-1)} \cdot \frac{S}{\sqrt{n}} \quad \text{רווח סמך:}$$

$$S^2 = \frac{\sum_{i=1}^n (X_i - \bar{X})^2}{n-1} = \frac{\sum_{i=1}^n X_i^2 - n\bar{X}^2}{n-1} \quad \text{האומד לשונות:}$$

התפלגות T:



הינה התפלגות סימטרית פעמונית שהתוחלת שלה היא 0. ההתפלגות דומה להתפלגות Z רק שהיא יותר רחבה ולכן הערכים שלה יהיו יותר גבוהים. התפלגות T תלויה במושג שנקרא דרגות חופש. דרגות החופש הן  $df=n-1$ . ככל שדרגות החופש עולות ההתפלגות הופכת להיות יותר גבוהה וצרה. כשדרגות החופש שואפות לאינסוף התפלגות T שואפת להיות כמו התפלגות Z.

**דוגמה :** (פתרון בהקלטה)

הזמן שלוקח לפתור שאלה מסוימת בחשבון מתפלג אצל תלמידי כיתה ח' נורמאלית.  
במטרה לאמוד את תוחלת זמן הפתרון נדגמו 4 תלמידים בכיתה ח' . להלן התוצאות שהתקבלו

בדקות : 4.7, 5.2, 4.6, 5.3.

בנו רווח סמך ברמת סמך של 95% למוצע זמן הפתרון לשאלה בקרב תלמידי כיתה ח'.

**פתרון :**

$$4.39 < \mu < 5.51$$

### תרגילים:

1. מחקר מעוניין לדעת כיצד תרופה מסוימת משפיעה על קצב פעימות הלב. ל-5 אנשים שנטלו את התרופה מדדו את הדופק והתקבל מספר פעימות לדקה: 84, 88, 84, 79, 89. הערה: לצורך פתרון הנח שקצב פעימות הלב מתפלג נורמאלית בקירוב.
  - א. בנו רווח סמך ברמת סמך של 95% לתוחלת הדופק של נוטלי התרופה הנ"ל.
  - ב. נתון שהדופק הממוצע ללא לקיחת התרופה הינו 70. לאור זאת, האם בביטחון של 95% התרופה משפיעה על הדופק?
  - ג. בהמשך לסעיף א, אם היינו בונים את רווח הסמך ברמת ביטחון של 99% כיצד הדבר היה משפיע על רווח הסמך?
2. במדגם שנעשה על 25 מתגייסים לצבא האמריקאי התקבל כי: גובה ממוצע של חייל הינו 178 ס"מ עם סטיית תקן  $S=13$  ס"מ. בנו רווח סמך ברמת סמך של 90% לתוחלת גובה המתגייסים לצבא האמריקאי. מה יש להניח לצורך פתרון?
3. אדם מעוניין לאמוד את זמן הנסיעה הממוצע שלו לעבודה. לצורך כך הוא דוגם 5 ימים שזמן הנסיעה בהם בדקות הוא: 27, 34, 32, 40, 30.
  - א. ברמת ביטחון של 95% אמוד את זמן הנסיעה הממוצע. מהי ההנחה הדרושה לצורך פתרון?
  - ב. איך גודל רווח הסמך היה משתנה אם היו דוגמים עוד ימים?
4. ציוני מבחן אינטליגנציה מתפלגים נורמאלית. נדגמו 25 מבחנים והתקבל ממוצע ציונים 102 וסטיית תקן מדגמית 13.
  - א. בנו רווח סמך לממוצע הציונים באוכלוסייה ברמת ביטחון של 95%.
  - ב. חזרו על סעיף א' אם סטיית התקן הינה סטיית התקן האמתית של כלל הנבחנים.
  - ג. הסבירו את ההבדלים בין שני הסעיפים הנ"ל.
5. נשקלו 60 תינוקות אשר נולדו בשבוע ה-40 של ההיריון. המשקל נמדד בקילוגרמים. להלן התוצאות שהתקבלו:  $\sum_{i=1}^{60} X_i = 195$ ,  $\sum_{i=1}^{60} X_i^2 = 643.19$ . בנו רווח סמך ברמת סמך של 95% לתוחלת משקל תינוק ביום היוולדו.
6. נדגמו 120 אנשים אקראיים מעל גיל 50. עבור כל אדם נבדק מספר שנות השכלתו.
  - א. להלן התוצאות שהתקבלו:  $\bar{x} = 13.8$ ,  $S = 2$ .
  - ב. בנו רווח סמך ברמת סמך של 96% לממוצע ההשכלה של אזרחים מעל גיל 50.



7. שני סטטיסטיקאים בנו רווח בר-סמך לאותו פרמטר  $\mu$ . לכל אחד מהסטטיסטיקאים מדגם אחר, אך באותו גודל 10. שניהם קבעו אותה רמת סמך.

סטטיסטיקאי א : הניח  $\sigma = 20$

סטטיסטיקאי ב : חישב לפי המדגם וקיבל  $S = 20$

למי משני הסטטיסטיקאים יהיה רווח סמך ארוך יותר? (בחר בתשובה הנכונה)

א. סטטיסטיקאי א

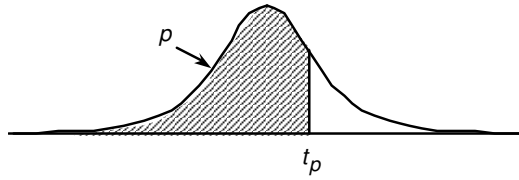
ב. סטטיסטיקאי ב

ג. אותו אורך רווח סמך לשני הסטטיסטיקאים.

ד. תלוי בתוצאות המדגם של כל סטטיסטיקאי.

8. נתון ש :  $X \sim N(\mu, \sigma^2)$  ביצעו מדגם בגודל 16 וקיבלו סטיית תקן מדגמית 10. אורך רווח

הסמך שהתקבל הוא : 8.765. מהי רמת הביטחון של רווח הסמך?



P

דרגות חופש	0.75	0.90	0.95	0.975	0.99	0.995	0.9995
1	1.000	3.078	6.314	12.709	31.821	63.657	636.619
2	0.816	1.886	2.920	4.303	6.965	9.925	31.598
3	0.765	1.638	2.353	3.182	4.541	5.841	12.941
4	0.741	1.533	2.132	2.776	3.747	4.604	8.610
5	0.727	1.476	2.015	2.571	3.365	4.032	6.859
6	0.718	1.440	1.943	2.447	3.143	3.707	5.959
7	0.711	1.415	1.895	2.365	2.998	3.499	5.405
8	0.706	1.397	1.860	2.306	2.896	3.355	5.041
9	0.703	1.383	1.833	2.262	2.821	3.250	4.781
10	0.700	1.372	1.812	2.228	2.764	3.169	4.587
11	0.697	1.363	1.796	2.201	2.718	3.106	4.437
12	0.695	1.356	1.782	2.179	2.681	3.055	4.318
13	0.694	1.350	1.771	2.160	2.650	3.012	4.221
14	0.692	1.345	1.761	2.145	2.624	2.977	4.140
15	0.691	1.341	1.753	2.131	2.602	2.947	4.073
16	0.690	1.337	1.746	2.120	2.583	2.921	4.015
17	0.689	1.333	1.740	2.110	2.567	2.898	3.965
18	0.688	1.330	1.734	2.101	2.552	2.878	3.922
19	0.688	1.328	1.729	2.093	2.539	2.861	3.883
20	0.687	1.325	1.725	2.086	2.528	2.845	3.850
21	0.686	1.323	1.721	2.080	2.518	2.831	3.819
22	0.686	1.321	1.717	2.074	2.508	2.819	3.792
23	0.685	1.319	1.714	2.069	2.500	2.807	3.767
24	0.685	1.318	1.711	2.064	2.492	2.797	3.745
25	0.684	1.316	1.708	2.060	2.485	2.787	3.725
26	0.684	1.315	1.706	2.056	2.479	2.779	3.707
27	0.684	1.314	1.703	2.052	2.473	2.771	3.690
28	0.683	1.313	1.701	2.048	2.467	2.763	3.674
29	0.683	1.311	1.699	2.045	2.462	2.756	3.659
30	0.683	1.310	1.697	2.042	2.457	2.750	3.646
40	0.681	1.303	1.684	2.021	2.423	2.704	3.551
60	0.679	1.296	1.671	2.000	2.390	2.660	3.460
120	0.677	1.289	1.658	1.980	2.358	2.617	3.373
$\infty$	0.674	1.282	1.645	1.960	2.326	2.576	3.291

**פתרונות:****שאלה 1**

$$79.88 < \mu < 89.72 \quad \text{א.}$$

**שאלה 4**

$$96.63 < \mu < 107.37 \quad \text{א.}$$

$$96.90 < \mu < 107.10 \quad \text{ב.}$$

**שאלה 5**

$$3.149 < \mu < 3.351$$

**שאלה 8**

90%

## פרק 13 - רווח סמך לפרופורציה

### רקע:

מטרה: לאמוד את P – פרופורציה באוכלוסייה.

האומד הנקודתי:  $\hat{p} = \frac{y}{n}$  (Y – מספר ההצלחות שבמדגם)

רווח הסמך ל P:  $\hat{p} \pm Z_{1-\frac{\alpha}{2}} \sqrt{\frac{\hat{p}(1-\hat{p})}{n}}$

התנאי לבנות את רווח הסמך הינו מדגם של לפחות 30 תצפיות (לעיתים נותנים תנאי של מספר הצלחות ומספר כשלונות לפחות 5 או לפחות 10)

האומד לטעות התקון:  $\sqrt{\frac{\hat{p}(1-\hat{p})}{n}}$

מתקיים ש:  $\hat{p} = \frac{A+B}{2}$   $L = 2\varepsilon$

דוגמה: (פתרון בהקלטה)

1. במטרה לאמוד את אחוז המובטלים במשק נדגמו 200 אזרחים. מתוכם התקבל ש 24 היו מובטלים.

א. בנו רווח סמך לאחוז המובטלים באוכלוסייה ברמת סמך של 95%.

ב. מהו האומד לטעות התקון?

### פתרון:

א.  $7.5\% < p < 16.5\%$

ב. 2.29%

### תרגילים:

1. נדגמו 200 דירות בעיר חיפה. 48 מתוכן נמצאו כבעלות ממ"ד.
  - א. בנו רווח סמך ברמת סמך של 95% לאחוז הדירות בחיפה עם ממ"ד.
  - ב. על סמך סעיף א' מה ניתן לומר על שגיאת האמידה המקסימאלית?
  - ג. בהנחה ובחיפה 80 אלף דירות, בנו רווח סמך ברמת סמך של 95% למספר הדירות בחיפה עם ממ"ד בפועל.
  
2. במדגם של 300 אנשי היי-טק התקבל ש-180 מהם אקדמאים.
  - א. בנו רווח סמך לפרופורציית אקדמאים ברמת סמך של 95% (בקרב אנשי היי-טק).
  - ב. כיצד רווח הסמך של סעיף א' היה משתנה אם היינו מקטינים את רמת הסמך?
  - ג. כיצד רווח הסמך היה משתנה אם הינו מגדילים את גודל המדגם?
  
3. במדגם של 400 נהגים התקבל רווח סמך לפרופורציית הנהגים החדשים:  $0.08 < p < 0.18$ .
  - א. כמה נהגים במדגם היו נהגים חדשים?
  - ב. מהי רמת הסמך של רווח הסמך שנבנה?
  
4. במסגרת מערכת הבחירות בארה"ב נשאלו 840 אנשים עבור איזה מועמד יצביעו.
  - א. 510 אנשים ענו כי יצביעו בעד ברק אובמה. בסקר פורסם שתתכן סטייה של  $\pm 3\%$  מתוצאות האמת.
  - ב. באיזו רמת ביטחון הסקר השתמש?
  
5. במדגם של 300 נשים בגילאי 40-35 נמצא ש-140 היו נשואות, 80 היו גרושות, 60 רווקות והיתר אלמנות.
  - א. מצאו רווח סמך ברמה של 90% לאחוז הגרושות באוכלוסייה הנחקרת.
  - ב. מצאו רווח סמך ברמה של 99% לסיכוי שבאוכלוסייה הנחקרת תמצא אישה לא נשואה?
  
6. ביצעו מדגם באוכלוסייה. שיעור ההצלחות במדגם היה 10% ורווח הסמך ניבנה ברמת סמך של 95%. אורכו הינו 8.3156.
  - א. מהו גודל המדגם שנלקח?

**פתרונות:****שאלה 3**

א. 52

ב. 0.997

**שאלה 5**א.  $22.5\% < p < 30.9\%$ ב.  $45.91\% < p < 60.72\%$ **שאלה 6**

200

### קביעת גודל מדגם באמידת פרופורציה

#### רקע:

בפרק זה נדון איך קובעים גודל מדגם שבאים לאמוד פרופורציה באוכלוסייה מסוימת:

החוקר קובע מראש את רמת הסמך הרצויה:  $1 - \alpha$ .

החוקר קובע מראש את הטעות הסטטיסטית המרבית שבה הוא מעוניין:  $\varepsilon$  (או את אורך רווח הסמך).

$L = 2\varepsilon$  - אורך רווח הסמך.

$\varepsilon$  - טעות אמידה מרבית: המרחק המקסימאלי (הסטייה) בין הפרמטר ( $p$ ) לאומד ( $\hat{p}$ ).

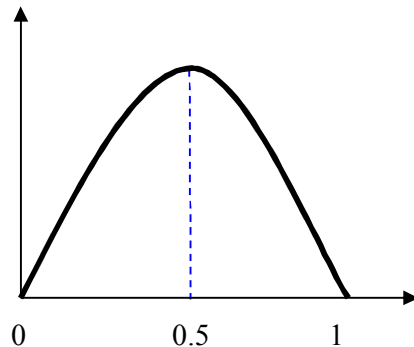
$$\varepsilon = z_{1-\alpha/2} \cdot \sqrt{\frac{\hat{p}(1-\hat{p})}{n}}$$

ויתעניין לדעת מהו גודל המדגם הרצוי לשם כך.

$$n \geq \left( \frac{2 \cdot z_{1-\alpha/2} \cdot \sqrt{\hat{p}(1-\hat{p})}}{L} \right)^2 \quad \text{נקבל ש:}$$

הבעיה שאין לנו יודעים את  $\hat{p}$ .

נתבונן בביטוי  $\hat{p}(1-\hat{p})$ :



כיוון שאין לנו ידע מוקדם על  $\hat{p}$  נציב את המקרה השמרני ביותר שממקסם את הביטוי עבור

$$\hat{p} = 0.5$$

$$n \geq \left( \frac{2 \cdot z_{1-\alpha/2} \cdot \sqrt{0.5 \cdot 0.5}}{L} \right)^2 \Rightarrow n \geq \left( \frac{z_{1-\alpha/2}}{L} \right)^2$$

אך אם תהיה לנו אינפורמציה מוקדמת על הפרופורציה נציב את הערך הקרוב ביותר ל-0.5.  
האפשרי.

**דוגמה:** ( פתרון בהקלטה)

מעוניינים לאמוד את שיעור האבטלה במשק. האמידה צריכה להתבצע ברמת סמך של 90% ועם שגיאת אמידה שלא תעלה על 4%.  
א. מהו גודל המדגם המינימאלי שיש לקחת?  
ב. חזור לסעיף א' אם ידוע שהאבטלה לא אמורה לעלות על 20%.

**פתרון:**

א. 423

ב. 271



### תרגילים:

1. הממשלה אומדת מדי חודש את אחוז התמיכה בה. מהו גודל המדגם אשר יש לקחת אם דורשים שהאומדן לא יסטה מהאחוז האמיתי באוכלוסייה ביותר מ-3%, וזאת בביטחון של 95%?
2. משרד התקשורת מעוניין לדעת מה שיעור בתי האב עם אינטרנט.
  - א. כמה בתי אב יש לדגום אם מעוניינים שבביטחון של 90% אורך רווח הסמך לא יעלה על 8%? ב. חזרו על סעיף א. אם ידעו שלפני חמש שנים ל-80% מבתי האב היה אינטרנט וכיום יש להניח שיש ליותר אינטרנט.
3. ערוץ טלוויזיה מעוניין לאמוד את הרייטינג של הערוץ בפריים טיים. המטרה שבביטחון של 95% הסטייה המרבית בין האומד לרייטינג האמיתי לא תעלה על 4%.
  - א. כמה מכשירי PEOPLE METER יש להתקין לצורך האמידה?
  - ב. לפי הערכה מוקדמת הרייטינג של הערוץ לא יכול לעלות על 20%. בהנחה ומכשיר כזה עולה 500 ₪ ליחידה מה החיסכון הכספי מאינפורמציה זאת?
4. השאלות הבאות מתייחסות לסעיף 4 :
  - א. כמה אזרחים יש לדגום כדי לאמוד את אחוז התמיכה בממשלה עם אורך רווח הסמך שלא עולה על 9% ברמת סמך של 90%?
  - ב. בהנחה ובוצע מדגם שאת גודלו חישוביתם בסעיף א והתקבל שאחוז התמיכה בממשלה במדגם הנו 42%. בנו רווח סמך לאחוז התמיכה בממשלה ברמת סמך של 95%.
    - ג. על סמך סעיף ב'. האם תקבל את הטענה שמיעוט האוכלוסייה תומך הממשלה?
5. משרד הבריאות מתכנן לבצע מדגם שמטרתו לבדוק את הסיכוי לחלות בשפעת עם לקיחת חיסון
  - נגד שפעת. הוא מעוניין שבסיכוי של 98% טעות האמידה לא תעלה על 3%.
    - א. כמה מחוסנים יש לדגום?
    - ב. משרד הבריאות ביצע את המדגם שאת גודלו חישובית בסעיף הקודם וקיבל ש 15% מבין אלה שקיבלו חיסון נגד שפעת בכל זאת חלו במשך החורף בשפעת. בנו ברמת סמך של 98% את הסיכוי לחלות בחורף בשפעת עם לקיחת חיסון נגד שפעת.
    - ג. בהמשך לסעיף הקודם. מהי טעות האמידה המרבית בביטחון של 98%? מדוע הוא קטן מ-3%?

**פתרונות:**

**שאלה 1**

1068

**שאלה 3**

א. 601

ב. 108000 ₪.

## פרק 14 - רווח סמך להפרש פרופורציות

### רקע:

המטרה: לאמוד את  $p_1 - p_2$ : הפרש פרופורציות בין שתי אוכלוסיות שונות.

האומד הנקודתי:  $\hat{p}_1 - \hat{p}_2$

התנאי לבניית רווח הסמך: כל מדגם מעל 30 או לבדוק שמספר ההצלחות ומספר הכישלונות בכל מדגם לפחות 5 בכל מדגם (יש כאלה שבודקים לפחות 10).

רווח סמך:

$$(\hat{p}_1 - \hat{p}_2) \pm Z_{1-\frac{\alpha}{2}} \sqrt{\frac{\hat{p}_1(1-\hat{p}_1)}{n_1} + \frac{\hat{p}_2(1-\hat{p}_2)}{n_2}}$$

רק שאפס נופל בתחומי רווח הסמך להפרש הפרופורציה נאמר שלא ניתן לקבוע שקיים הבדל מובהק בין הפרופורציות באוכלוסיות.

דוגמה: (פתרון בהקלטה)

במטרה להשוות בין שתי תרופות נדגמו 200 איש שלקחו תרופה x. מתוכם 180 טענו שהתרופה עזרה להם. כמו כן נלקחו 300 איש שלקחו את תרופה y. מתוכם 150 טענו שהתרופה עזרה להם. בנו רווח סמך להפרש אחוזי ההצלחה של התרופות ברמת סמך של 95%. מה ניתן לומר על סמך רווח הסמך על ההבדלים בין התרופות?

פתרון:

(33%, 47%)

**תרגילים:**

1. מתוך 150 נשים שנדגמו באקראי 30% תמכו בהצעת חוק מסוימת. מתוך 200 גברים שנדגמו באקראי 25% תמכו בהצעת החוק.
  - א. בנו רווח סמך לפער בין אחוזי התמיכה של הנשים לעומת הגברים ברמת סמך של 96%.
  - ב. בנו רווח סמך ברמת סמך של 95% לאחוז התמיכה בהצעת החוק.
  
2. במחקר רפואי השתתפו 200 אנשים הסובלים מכאבים כרוניים. הם חולקו באקראי ל-2 קבוצות שוות בגודלן.
  - קבוצה 1 קיבלה את תרופה A וקבוצה שנייה קיבלה את תרופה B.
  - בקרב לוקחי תרופה A 90 טענו שמצבם השתפר. בקרב לוקחי תרופה B 70 טענו שמצבם השתפר.
  - א. בנו רווח סמך ברמת סמך של 95% להפרש בין שיעורי ההצלחה של שתי התרופות.
  - ב. האם על סמך סעיף א ניתן לקבוע שקיים הבדל בין התרופות מבחינת שיעורי ההצלחה?
  
3. נדגמו 200 משפחות מגוש דן. ל-70% מתוכן מכשיר DVD בבית.
  - נדגמו 300 משפחות מאזור הצפון ל-65% מתוכן מכשיר DVD בבית.
  - א. בנו רווח סמך ברמת סמך של 98% לפרופורציות המשפחות בגוש דן עם DVD בבית.
  - ב. בנו רווח סמך ברמת סמך של 95% להפרש בין פרופורציות המשפחות בגוש דן עם DVD לבין פרופורציות המשפחות בצפון עם DVD.

**פתרונות:****שאלה 2**

$$0.093 < P_A - P_B < 0.307 \quad \text{א.}$$

**שאלה 3**

$$0.625 < p < 0.7754 \quad \text{א.}$$

## פרק 15 - רווח סמך להפרש תוחלות ממדגמים בלתי תלויים

### כששונות האוכלוסייה ידועות

#### רקע:

מטרה: לאמוד את פער התוחלות:  $\mu_1 - \mu_2$ , כלומר ההבדלים של הממוצעים בין שתי האוכלוסיות.

האומד נקודתי:  $\bar{x}_1 - \bar{x}_2$

התנאים לבניית רווח הסמך:

1.  $\sigma_1^2, \sigma_2^2$  ידועות.

2.  $X_1, X_2 \sim N$  או  $n_1, n_2 > 30$

3. שני מדגמים בלתי תלויים.

#### רווח סמך:

$$(\bar{x}_1 - \bar{x}_2) \pm Z_{1-\frac{\alpha}{2}} \sqrt{\frac{\sigma_1^2}{n_1} + \frac{\sigma_2^2}{n_2}}$$

אם הערך אפס נופל בגבולות רווח הסמך נגיד שבביטחון של  $1 - \alpha$  לא קיים הבדל בין התוחלות.

#### דוגמה: (פתרון בהקלטה)

נדגמו 100 תושבים מאזור a והמשכורת הממוצעת הייתה שם 9200 ₪.

כמו כן נדגמו 120 תושבים מאזור b וממוצע המשכורות שהתקבל שם 8700 ₪.

לצורך פתרון נניח שסטיית התקן של המשכורות באוכלוסיית שני האזורים היא 1800 ₪.

אמדו ברמת סמך של 90% את הפרש השכר הממוצע בין אזור a לאזור b.

## תרגילים:

1. מעוניינים לבדוק האם קיים הבדל בין ממוצע ציוני הפסיכומטרי של חיילים לממוצע ציוני הפסיכומטרי של תלמידי תיכון. ידוע שציוני הפסיכומטרי מתפלגים נורמאלית עם סטיית תקן 100. במדגם של 16 נבחנים חיילים התקבל ממוצע 543. במדגם של 20 תלמידי תיכון התקבל ממוצע 508. בנו רווח סמך לפער תוחלות הציונים בין חיילים לתלמידי תיכון ברמת סמך של 90%. מה ניתן להסיק מרווח סמך זה?
  
2. ציוני I.Q. מתוכננים כך שיתפלגו נורמאלית עם סטיית תקן של 15. במדגם של 20 נבחנים ישראלים התקבל ממוצע ציונים 104. במדגם של 23 נבחנים אמריקאיים התקבל ממוצע ציונים 99.
  - א. בנו רווח סמך ברמת סמך של 95% לפער בין ישראל לארה"ב בממוצע הציונים במבחן ה-IQ.
  - ב. האם קיים הבדל בין ישראלים לאמריקאים מבחינת ממוצע הציונים?
  
3. חברה להנדסת בניין מעוניינת להשוות ברמת הקשיות של שני סוגי ברגים. ידוע שרמת הקשיות של ברגים מתפלגת נורמלית עם סטיית תקן של 4 יחידות. במדגם של 15 ברגים מסוג א' התקבל רמת קשיות ממוצעת של 28 יחידות ובמדגם של 12 ברגים מסוג ב' התקבל רמת קשיות ממוצעת של 25. עבור אילו רמות בטחון יקבע שאין הבדל בין שני סוגי הברגים מבחינת ממוצע רמת הקשיות שלהם?

**פתרונות :**

**שאלה 1**

(-20,90)

**שאלה 3:**

רמות בטחון הגבוהות מ: 0.9476



**כששונויות האוכלוסייה אינן ידועות אך שוות והמדגמים בלתי תלויים**

**רקע:**

מטרה: לאמוד את פער התוחלות:  $\mu_1 - \mu_2$ , כלומר ההבדלים של הממוצעים בין שתי האוכלוסיות.

האומד נקודתי:  $\bar{x}_1 - \bar{x}_2$

התנאים לבניית רווח הסמך:

$$1. \sigma_1^2 = \sigma_2^2$$

$$2. X_1, X_2 \sim N$$

3. מדגמים בלתי תלויים.

השונויות המשוקללת: כיוון שאנו מניחים שבין שתי האוכלוסיות השונויות שוות אנו אומדים את השונויות הזו על ידי שקלול שתי השונויות של שני המדגמים על ידי הנוסחה הבאה:

$$S_p^2 = \frac{(n_1 - 1)S_1^2 + (n_2 - 1)S_2^2}{n_1 + n_2 - 2}$$

דרגות החופש:  $d.f = n_1 + n_2 - 2$

רווח סמך:

$$(\bar{x}_1 - \bar{x}_2) \pm t_{1-\frac{\alpha}{2}}^{n_1+n_2-2} \cdot \sqrt{\frac{S_p^2}{n_1} + \frac{S_p^2}{n_2}}$$

אם הערך אפס נופל בגבולות רווח הסמך נגיד שבביטחון של  $1 - \alpha$  לא קיים הבדל בין התוחלות.

**דוגמה:** (פתרון בהקלטה)

מחקר מעוניין לבדוק האם קיים הבדל בין תל אביב לבאר שבע מבחינת ההכנסה הממוצעת של אקדמאים. להלן תוצאות המדגם שנעשה:

באר שבע	תל אביב	
10	20	מספר האקדמאים
9500	11,000	ממוצע הכנסות של אקדמאים
250	200	סטיית התקן של הכנסות אקדמאים

בנו רווח סמך ברמת ביטחון של 90% להפרש תוחלות ההכנסה בשני האזורים. הניחו שהשכר מתפלג נורמלית עם אותה שונות בכל אחד מהאזורים. פתרון : (1357,1643)

**תרגילים:**

1. נדגמו 15 ישראלים ו-15 אמריקאים.

כל הנדגמים נגשו למבחן IQ. להלן תוצאות המדגם:

ארה"ב	ישראל	המדינה
15	15	גודל המדגם
1470	1560	סכום הציונים
147,560	165,390	סכום ריבועי הציונים

מצאו רווח סמך ברמת סמך של 95% לסטייה בין ממוצע הציונים בישראל לממוצע הציונים בארה"ב. רשמו את כל ההנחות הדרושות לצורך פתרון התרגיל.

2. להלן 4 תצפיות על משתנה  $X$  שמתפלג  $N(\mu_x, \sigma^2)$  ומשתנה  $Y$  שמתפלג  $N(\mu_y, \sigma^2)$ .

X	22	20	21	25
Y	18	25	17	12

חשבו רווח סמך ל-  $\mu_y - \mu_x$  ברמת הסמך 90%, בהנחה ששני המדגמים בלתי תלויים.

## פרק 16 - רווח סמך לתוחלת ההפרש במדגם מזווג

### רקע:

מדגם מזווג: מדגם אחד שבו יש  $n$  צמדים.

כל תצפית במדגם תנפק זוג ערכים:  $X$  ו- $Y$ .

ניצור משתנה חדש:

$$D = x - y$$

הפרמטר שנרצה לאמוד:  $\mu_D$

התנאים לבניית רווח הסמך:

- $x, y \sim N$

- המדגם מזווג

נוסחת רווח הסמך:

$$\bar{D} \pm t_{1-\frac{\alpha}{2}}^{n-1} \frac{S_D}{\sqrt{n}}$$

כאשר דרגות החופש:  $d.f = n - 1$

**דוגמה:** (פתרון בהקלטה)

מעוניינים לבדוק האם יש הבדל בין מהירות הריצות של שתי תוכנות מחשב.  
לקחו 5 קבצים אקראיים והריצו אותם בשתי התוכנות:

5	4	3	2	1	הקובץ
38	46	49	48	25	הזמן בתוכנה הראשונה
48	40	42	46	27	הזמן בתוכנה השנייה

הניחו כי זמני הריצות מתפלגים נורמלית.  
מצאו רווח סמך של 95% להפרש תוחלת הזמן בין שתי התוכנות.

**תרגילים:**

1. נדגמו 5 סטודנטים שסיימו את הקורס סטטיסטיקה ב'. להלן הציונים בסמסטר א' ו- ב' :

סמסטר א	סמסטר ב
74	80
68	84
90	87
75	76
82	100

ניח שהציונים מתפלגים נורמאלית.

- בנו רווח סמך ברמת סמך של 95% לתוחלת פער הציונים בין סמסטר א לבין סמסטר ב.
- האם על סמך רווח הסמך קיים הבדל בין הסמסטרים מבחינת תוחלת הציונים?
- מה צריך לשנות בנתונים כדי שהמדגמים יהיו בלתי תלויים?

2. במטרה לבדוק האם קיים הבדל בין קווי זהב לבזק מבחינת ממוצע המחירים לשיחות בינ"ל. נגדמו באקראי 7 מדינות ועבור כל מדינה נבדקה עלות דקת שיחה. להלן התוצאות:

קווי זהב-Y	בזק-X	המדינה
1.4	1.5	ארה"ב
2	2.1	קנדה
1.9	2.2	הולנד
3.1	3	פולין
3.3	3.5	מצרים
3.2	3.2	סין
4.2	4.2	יפן

בהנחה והמחירים מתפלגים נורמלית עבור כל חברה בנו רווח סמך ברמת סמך של 90% לתוחלת הפרש המחירים של שתי החברות.

## פרק 17 - רווח סמך לשונות וסטיית תקן

### רקע:

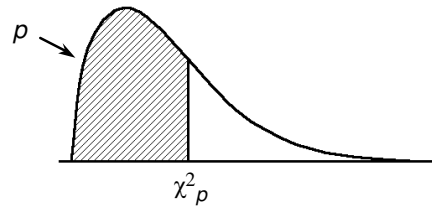
בפרק זה נדון על בניית רווח סמך לשונות האוכלוסייה.

התנאי לבניית רווח הסמך: המשתנה הנחקר מתפלג נורמלית, למרות שנהוג לא לדרוש את התנאי הזה אם המדגם מספיק גדול.

רווח הסמך יתבסס על התפלגות הנקראת חי בריבוע.

התפלגות זו היא התפלגות אסימטרית חיובית המתחילה מהערך אפס ותלויה בדרגות חופש.

דרגות החופש במקרה זה יהיו:  $n-1$



$$\text{רווח הסמך לשונות: } \frac{(n-1)S^2}{\chi^2_{1-\alpha/2, n-1}} \leq \sigma^2 \leq \frac{(n-1)S^2}{\chi^2_{\alpha/2, n-1}}$$

$$\text{כאשר } S^2 = \frac{\sum_{i=1}^n (X_i - \bar{X})^2}{n-1} = \frac{\sum_{i=1}^n X_i^2 - n \cdot \bar{X}^2}{n-1} \text{ אומד לשונות הלא-ידועה.}$$

אם נרצה לבנות רווח סמך לסטיית תקן אז נוציא שורש לרווח סמך לשונות.

### דוגמה: (פתרון בהקלטה)

זמן התגובה מתפלג נורמלית. במטרה לאמוד את שונות זמן התגובה נדגמו 4 תצפיות. להלן התוצאות בשניות: 3, 4.6, 5.2, 4.7. בנו רווח סמך, ברמת סמך של 95% לשונות זמן התגובה באוכלוסייה.

### פתרון:

$$0.039 < \sigma^2 < 1.708$$

**תרגילים :**

1. חמישה מטופלים קבלו תרופה מסוימת. בדקו לכל מטופל את זמני התגובה שלו. להלן הזמנים שהתקבלו בדקות: 18,17,21,26,28.  
בהנחה וזמני התגובה מתפלגים נורמאלית, בנו רווח סמך ברמת סמך של 95% לשונות זמן התגובה.
2. נדגמו 20 ימים אקראיים מחודשי יולי-אוגוסט ונמדדה בהם הטמפי' במעלות צלזיוס בת"א. במדגם התקבל טמפי' ממוצעת 30.8 וסטיית תקן מדגמית 1.1. בהנחה והטמפי' מתפלגת נורמאלית:  
א. בנו רווח סמך לתוחלת הטמפי' בחודשים אלה בת"א ברמת סמך של 95%.  
ב. בנו רווח סמך לסטיית התקן של הטמפי' בחודשים אלה בת"א ברמת סמך של 95%.
3. ציוני IQ בארה"ב מתפלגים נורמאלית עם ממוצע 100 וסטיית תקן 5. נבחנו 20 נבחנים ישראלים במבחן ה-IQ. להלן התוצאות שהתקבלו:

$$\sum_{i=1}^{20} X_i = 2080$$

$$\sum_{i=1}^{20} X_i^2 = 218,220$$

- נניח שגם בישראל הציונים מתפלגים נורמאלית.
- א. מצאו אומדנים לממוצע הציונים בישראל ולשונות הציונים בישראל באמצעות אומדנים חסרי הטיה.
- ב. אמדו ברמת ביטחון של 95% את תוחלת הציונים של נבחנים בישראל.
- ג. אמדו ברמת סמך של 90% את סטיית התקן של הציונים של נבחנים ישראלים.
- ד. על סמך הסעיפים הקודמים, האם בישראל ממוצע הציונים וסטיית התקן של הציונים שונה מבארה"ב? הסבירו.



4. באוכלוסייה מסוימת נדגמו 10 תצפיות והתקבלו התוצאות הבאות:

$$\sum_{i=1}^{10} X_i = 750$$

$$\sum_{i=1}^{10} (X_i - \bar{X})^2 = 900$$

נתון ש  $X_i \sim N(\mu, \sigma^2)$

א. בנו רווח סמך ל-  $\mu$  ברמת סמך של 95%.

ב. בנו רווח סמך ל-  $\sigma^2$  ברמת סמך של 95%.

**פתרונות :****שאלה 2**

א.  $30.285 < \mu < 31.315$

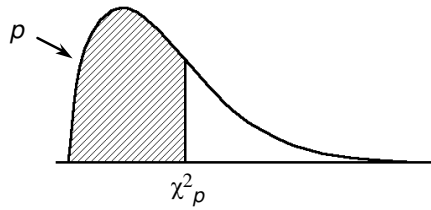
ב.  $0.837 < \sigma < 1.607$

**תשובה 3**

א. לממוצע 104, לשונות 100.

ב.  $99.32 < \mu < 108.68$

ג.  $7.94 < \sigma < 13.7$

טבלת התפלגות חי-בריבוע – ערכי החלוקה  $\chi^2_p$ 

p

df	.005	.01	.025	.05	.10	.25	.50	.75	.90	.95	.975	.99	.995
1	0.004393	0.0157	0.03982	0.07393	0.158	0.102	0.455	1.32	2.71	3.84	5.02	6.63	7.88
2	0.0100	0.0201	0.0506	0.103	0.211	0.575	1.39	2.77	4.61	5.99	7.38	9.21	10.6
3	0.0717	0.115	0.216	0.352	0.584	1.21	2.37	4.11	6.25	7.81	9.35	11.3	12.8
4	0.207	0.297	0.484	0.711	1.06	1.92	3.36	5.39	7.78	9.49	11.1	13.3	14.9
5	0.412	0.554	0.831	1.15	1.61	2.67	4.35	6.63	9.24	11.1	12.8	15.1	16.7
6	0.676	0.872	1.24	1.64	2.20	3.45	5.35	7.84	10.6	12.6	14.4	16.8	18.5
7	0.989	1.24	1.69	2.17	2.83	4.25	6.35	9.04	12.0	14.1	16.0	18.5	20.3
8	1.34	1.65	2.18	2.73	3.49	5.07	7.34	10.2	13.4	15.5	17.5	20.1	22.0
9	1.73	2.09	2.70	3.33	4.17	5.90	8.34	11.4	14.7	16.9	19.0	21.7	23.6
10	2.16	2.56	3.25	3.94	4.87	6.74	9.34	12.5	16.0	18.3	20.5	23.2	25.2
11	2.60	3.05	3.82	4.57	5.58	7.58	10.3	13.7	17.3	19.7	21.9	24.7	26.8
12	3.07	3.57	4.40	5.23	6.30	8.44	11.3	14.8	18.5	21.0	23.3	26.2	28.3
13	3.57	4.11	5.01	5.89	7.04	9.30	12.3	16.0	19.8	22.4	24.7	27.7	29.8
14	4.07	4.66	5.63	6.57	7.79	10.2	13.3	17.1	21.1	23.7	26.1	29.1	31.3
15	4.60	5.23	6.26	7.26	8.55	11.0	14.3	18.2	22.3	25.0	27.5	30.6	32.8
16	5.14	5.81	6.91	7.96	9.31	11.9	15.3	19.4	23.5	26.3	28.8	32.0	34.3
17	5.70	6.41	7.56	8.67	10.1	12.8	16.3	20.5	24.8	27.6	30.2	33.4	35.7
18	6.26	7.01	8.23	9.39	10.9	13.7	17.3	21.6	26.0	28.9	31.5	34.8	37.2
19	6.84	7.63	8.91	10.1	11.7	14.6	18.3	22.7	27.2	30.1	32.9	36.2	38.6
20	7.43	8.26	9.59	10.9	12.4	15.5	19.3	23.8	28.4	31.4	34.2	37.6	40.0
21	8.03	8.90	10.3	11.6	13.2	16.3	20.3	24.9	29.6	32.7	35.5	38.9	41.4
22	8.64	9.54	11.0	12.3	14.0	17.2	21.3	26.0	30.8	33.9	36.8	40.3	42.8
23	9.26	10.2	11.7	13.1	14.8	18.1	22.3	27.1	32.0	35.2	38.1	41.6	44.2
24	9.89	10.9	12.4	13.8	15.7	19.0	23.3	28.2	33.2	36.4	39.4	43.0	45.6
25	10.5	11.5	13.1	14.6	16.5	19.9	24.3	29.3	34.4	37.7	40.6	44.3	46.9
26	11.2	12.2	13.8	15.4	17.3	20.8	25.3	30.4	35.6	38.9	41.9	45.6	48.3
27	11.8	12.9	14.6	16.2	18.1	21.7	26.3	31.5	36.7	40.1	43.2	47.0	49.6
28	12.5	13.6	15.3	16.9	18.9	22.7	27.3	32.6	37.9	41.3	44.5	48.3	51.0
29	13.1	14.3	16.0	17.7	19.8	23.6	28.3	33.7	39.1	42.6	45.7	49.6	52.3
30	13.8	15.0	16.8	18.5	20.6	24.5	29.3	34.8	40.3	43.8	47.0	50.9	53.7

## פרק 18 - תרגול מסכם ברווחי סמך

1. מהירות הגלישה באינטרנט במקום מסוים מתפלגת נורמאלית . בדקו את מהירות הגלישה ב- 30 זמנים אקראיים. מהירות הגלישה נמדדה ב-Mbps . מהירות מתחת ל- 10 Mbps מוגדרת על ידי החברה כנמוכה.
- התוצאות שהתקבלו במדגם : ממוצע היה 87 עם סטיית תקן 17 ו-12 פעמים המהירות הייתה נמוכה. בנו רווחי סמך ברמת סמך של 95% לפרמטרים הבאים :
- א. תוחלת מהירות הגלישה.
- ב. סטיית תקן של מהירות הגלישה.
- ג. הסיכוי שמהירות הגלישה תהיה נמוכה.

2. 200 אנשים נשאלו כמה פעמים ביום הם שותים כוס קפה. להלן התפלגות התשובות :

5	4	3	2	1	0	מספר פעמים
10	20	22	28	34	86	מספר אנשים

- א. תנו רווח סמך לממוצע מספר כוסות הקפה שאנשים נוהגים לשתות ביום .  $\alpha = 0.05$
- ב. אדם השותה לפחות 4 כוסות קפה ביום נקרא "מכור לקפה". בנו רווח סמך לאחוז "המכורים לקפה"  $\alpha = 0.1$
3. חוקר בנה רווח סמך לאחוז האנשים שהתקררו לפחות פעם אחת בשנה. רווח הסמך שהתקבל הוא  $81 < p < 91$  רווח הסמך הני"ל התבסס על מדגם של 500 איש.
- א. כמה אנשים במדגם טענו שכלל לא התקררו השנה?
- ב. באיזו רמת סמך נבנה רווח הסמך?
- ג. בנו רווח סמך לאחוז האנשים שהתקררו לפחות פעם אחת השנה ברמת סמך של 95% על סמך תוצאות המדגם.

4. ציוני IQ בארה"ב מתפלגים נורמאלית עם תוחלת 100. במדגם של 20 ישראלים שנבחנו במבחן

$$\sum_{i=1}^{20} x_i = 2040$$

ה-IQ התקבלו התוצאות הבאות:

$$\sum_{i=1}^{20} x_i^2 = 210740$$

א. אמדו ברמת ביטחון של 90% את ממוצע ציוני בחינת ה-IQ בישראל – מהי ההנחה

הדרושה

לפתרון?

ב. על סמך רווח הסמך של סעיף א האם תקבלו את הטענה שבישראל ממוצע הציונים שונה

מארה"ב?

ג. מה היה קורה לרווח הסמך אם הינו מגדילים את רמת הסמך שלו?

5. להלן תוצאות מדגם שבדק עבור כל משפחה האם יש לה בבית מכשיר טאבלט.

אזור מגורים	גוש דן	שאר הארץ
גודל המדגם	200	240
מספר משפחות בעלי טאבלט	160	168

א. בנו רווח סמך להבדל בין אחוז המשפחות עם טאבלט בגוש דן ואחוז המשפחות בעלי

טאבלט בשאר

חלקי הארץ. ברמת סמך של 98%.

ב. בנו רווח סמך לפרופורצית משפחות בעלות טאבלט בכלל הארץ ברמת סמך של 95%.

6. הגובה של מתגייסים לצה"ל מתפלג נורמלית במדגם של 25 מתגייסים התקבלו התוצאות

הבאות:

$$\bar{x} = 176.2cm$$

$$\sum (x_i - \bar{x})^2 = 2832cm^2$$

א. אמדו את הגובה הממוצע של המתגייסים ברמת סמך של 98%.

ב. אמדו ברמת סמך של 90% את סטיית התקן של הגובה של מתגייסים של צה"ל.

7. בנק מתלבט האם לפתוח סניף באזור A או באזור B. לצורך פתרון נניח שסטית התקן של המשכורת באזור A היא 1200 ובאזור B 1500. הבנק דגם 50 אנשים מאזור A, המשכורת הממוצעת שהתקבלה במדגם היא 6,800 ₪. כמו כן נדגמו 40 אנשים מאזור B, המשכורת הממוצעת שהתקבלה במדגם היא 6,600 ₪.
- א. בנו רווח סמך ברמת סמך של 95% להפרש הממוצעים של המשכורות בשני האזורים. האם על סמך רווח הסמך ניתן להמליץ לבנק היכן לפתוח את הסניף. אם כן, היכן?
- ב. בנו רווח סמך לתוחלת המשכורת באזור A ברמת סמך של 95%.

8. להלן מדגם של שכר הדירה בשייח של 5 דירות שלושה חדרים בשכונת בבלי בתל אביב :

7500	6500	7000	7500	8000	שנת 2012
7700	6800	7800	8200	8000	שנת 2013

- בנו רווח סמך ברמת סמך של 95% לתוחלת עליית שכר הדירה משנת 2012 לשנת 2013 בשכונת בבלי. ניתן להניח ששכר הדירה בשכונה מתפלג נורמלית.

**פתרונות:****שאלה 1**

א.  $80.65 \leq \mu \leq 93.35$

ב.  $13.5 \leq \sigma \leq 22.9$

ג.  $0.225 \leq p \leq 0.575$

**שאלה 2**

א.  $1.21 \leq \mu \leq 1.65$

ב.  $10.85\% \leq p \leq 19.15\%$

**שאלה 3**

א. 70

ב. 99.88%

ג.  $83\% \leq p \leq 89\%$

**שאלה 4**

א.  $97.4 \leq \mu \leq 106.6$

ב. לא

ג. יגדל

**שאלה 5**

א.  $0.5\% < p_1 - p_2 < 19.5\%$

ב.  $0.704 \leq p \leq 0.768$

**שאלה 6**

א.  $170.8 \leq \mu \leq 181.6$

ב.  $8.8 \leq \sigma \leq 14.3$

**שאלה 7**

$$\text{א. } -372 \leq \mu_A - \mu_B \leq 772$$

$$\text{ב. } 6467 \leq \mu \leq 7133$$

**שאלה 8**

$$-21 \leq \mu_{2013} - \mu_{2012} \leq 821$$



## פרק 19 - בדיקת השערות כללית

### רקע:

תהליך של בדיקת השערות הוא תהליך מאד נפוץ בעולם הסטטיסטיקה. בתהליך זה ישנן שתי השערות שנבדקות :

השערת האפס המסומנת ב-  $H_0$

והשערה אלטרנטיבית ( השערת המחקר ) המסומנת ב-  $H_1$ .

בדרך כלל השערת האפס מסמנת את אשר היה מקובל עד עכשיו , את השגרה הנורמה ואילו ההשערה האלטרנטיבית את החדשנות בעצם ההשערה האלטרנטיבית מדברת על הסיבה שהמחקר נעשה .

למשל ,

ישנה תרופה קיימת למחלה A אשר גורמת ל – 10% מהמשתמשים בה לתופעות לוואי . חברת תרופות טוענת שפיתחה תרופה שיעילה באותה מידה , אך מקטינה את הסיכוי לתופעות הלוואי. לכן יש לבצע מחקר שעל סמך תוצאותיו ננסה להכריע איזה השערה נקבל :

$H_0$  : התרופה החדשה הנה קונבנציונאלית וגורמת ל-10% תופעות לוואי.

$H_1$  : התרופה החדשה מקטינה את אחוז הסובלים מתופעות לוואי מתחת ל -10%.

בתהליך של בדיקת השערות יוצרים כלל שניקרא כלל הכרעה :

הכלל יוצר אזור שניקרא אזור דחייה ( דחייה של השערת האפס כלומר קבלה של האלטרנטיבה) ואזור קבלה ( קבלה של השערת האפס ודחייה של האלטרנטיבה). כלל ההכרעה מתבסס על איזשהו סטטיסטי .

בתהליך יש ללכת לתוצאות המדגם ולבדוק האם התוצאות נופלות באזור הדחייה או הקבלה וכך להגיע למסקנה – המסקנה היא בעירבון מוגבל כיוון שהיא תלויה בכלל ההכרעה ובתוצאות המדגם. נשנה את כלל ההכרעה אנחנו יכולים לקבל מסקנה אחרת . נבצע מדגם חדש אנחנו עלולים לקבל תוצאה אחרת.

לכן יתכנו טעויות במסקנות שלנו :

		הכרעה	
		H0	H1
מציאות	H0	אין טעות	טעות מסוג 1
	H1	טעות מסוג 2	אין טעות

הגדרת הטעויות :

טעות מסוג ראשון- להכריע לדחות את  $H_0$  למרות שבמציאות  $H_0$  נכונה.

טעות מסוג שני- להכריע לקבל את  $H_0$  למרות שבמציאות  $H_1$  נכונה.

מה הן הטעויות האפשריות במחקר של התרופות? ( בהקלטה )

נגדיר את ההסתברויות הבאות :

הסיכוי לבצע טעות מסוג 1 ( רמת מובהקות )

$$\alpha = P(H_0 \text{ לדחות} | H_0 \text{ נכונה}) = P_{H_0}(H_0 \text{ לדחות})$$

הסיכוי לבצע טעות מסוג 2 :

$$\beta = P(H_0 \text{ לקבל} | H_1 \text{ נכונה}) = P_{H_1}(H_0 \text{ לקבל})$$

רמת בטחון :

$$(1-\alpha) = P(H_0 \text{ לקבל} | H_0 \text{ נכונה}) = P_{H_0}(H_0 \text{ לקבל})$$

עוצמה :

$$\pi = (1-\beta) = P(H_1 \text{ לדחות} | H_1 \text{ נכונה}) = P_{H_1}(H_1 \text{ לדחות})$$

דוגמה : ( פתרון בהקלטה )

בכד יש 10 כדורים. יתכן ש- 5 מהם לבנים והיתר שחורים (כד א- השערת האפס) או ש- 7 מהם לבנים והיתר שחורים (כד ב- השערה אלטרנטיבית).

כדי להחליט איזה מהכדים ברשותנו, הוחלט להוציא כדור ולהשתמש בכלל ההחלטה הבא : אם הכדור שהוצא הוא לבן שזהו כד ב' ( $H_1$ ).

א. חשבו את רמת המובהקות ואת רמת הביטחון של המבחן המוצע.

ב. חשבו את הסיכוי לטעות מסוג שני והעוצמה של המבחן המוצע.

**תרגילים:**

1. אדם חשוד בביצוע פשע. מהן הטעויות האפשריות בהכרעת הדין?
2. ילד קנה שקית סוכריות אטומה שבה ציפה ל-10 סוכריות תות ו-5 לימון. ישנה שקית אחרת אותה הוא לא רצה בה 6 סוכריות תות ו-9 לימון. הוא החליט להוציא באקראי סוכרייה אם היא תהיה לימון הוא יחזיר את השקית לחנות. מה הסיכויים לכל סוג של טעות בהכרעתו?

3. יהי  $X$  מספר שלם הנבחר באקראי מבין המספרים השלמים. הסיכוי ש- $X$  יקבל ערך

$$k = 1, 2, \dots, n \text{ עבור } p(X = k) = \frac{1}{n}$$

נתונות ההשערות הבאות לגבי התפלגות של  $X$ :

$$H_0 : n = 4$$

$$H_1 : n = 6$$

כמו כן נתון כלל ההכרעה הבא: נדחה את השערת האפס אם  $X > 3$ .  
חשבו את הסיכוי לטעות מסוג ראשון וטעות מסוג שני ואת העוצמה?

4. איכות של מוצר מסווגת ל-4 רמות איכות: מצוין, טוב, בינוני וירוד. להלן התפלגות טיב המוצר בשני מפעלים:

מפעל	מצוין	טוב	בינוני	ירוד
"היוצר"	0.6	0.2	0.2	0
"שמשון"	0.1	0.2	0.3	0.4

בוחרים ממשלוח מוצר באקראי, אך לא יודעים מאיזה מפעל המשלוח הגיע. על סמך בדיקת האיכות מנסים להכריע האם מדובר במפעל "היוצר" (השערת האפס) או במפעל "שמשון" (השערה אלטרנטיבית).

- א. להלן כלל החלטה: אם מדובר במוצר שטיבו "טוב" נכריע שהמוצר בא ממפעל "שמשון", מהן ההסתברויות לסוגי הטעויות השונים?
- ב. להלן כלל החלטה: אם מדובר במוצר שטיבו "בינוני" או גרוע מכך נכריע שהמוצר בא ממפעל "שמשון", מה מהן ההסתברויות לסוגי הטעויות השונים?
- ג. איזה כלל החלטה עדיף? נמק!

5. במטרה לבדוק האם מטבע תקין הטילו אותו 8 פעמים. הוחלט שאם מספר העצים יהיה בין 1 ל 7 כולל יוחלט שהמטבע תקין, אחרת נחליט שהמטבע מזויף.
- א. רשמו את השערות המחקר.
- ב. מה ההסתברות לטעות מסוג ראשון?
- ג. מהי עצמת המבחן אם במציאות אכן המטבע אינו תקין כי הסיכוי לעץ בו הוא 20%.

6. להלן השערות:

$$H_0 : X \sim t(5) \quad (\text{התפלגות } t \text{ עם 5 דרגות חופש})$$

$$H_1 : X \sim Z \quad (\text{התפלגות נורמאלית סטנדרטית})$$

כלל החלטה: נדחה את השערת האפס אם  $X$  גדול מ-2.015.

- א. מהי רמת המובהקות של כלל החלטה?
- ב. מהי העוצמה של כלל החלטה?

7. במפעל מסוים נפלטים לאוויר חומרים רעילים. במצב שיגרה העוצמה הממוצעת של החומר הרעיל אמורה להיות 6,000 יחידות עם סטיית תקן 900. במצב חירום העוצמה הממוצעת היא 7,000 עם סטיית תקן 900. במפעל מערכת התראה נתמכת על ידי 9 חיישנים. אם ממוצע העוצמה של החומר הרעיל לפי תשעת החיישנים עולה על 6600 יחידות מופעלת מערכת ההתראה. נתון שעוצמת הזיהום מתפלגת נורמאלית.
- א. מה הסיכוי להתראת שווא? (באיזה סוג טעות מדובר)?
- ב. מה הסיכוי שבמצב חירום מערכת ההתראה לא תפעל? (באיזה סוג טעות מדובר)?
- ג. מה ההסתברות שאם המצב הוא מצב חירום מערכת ההתראה תפעל? (איך קוראים להסתברות זו)?
- ד. בסעיפים הבאים נשנה בכל סעיף נתון מסוים. כל סעיף עומד בפני עצמו, כיצד השינוי ישנה את הסיכוי לטעות מסוג ראשון ושני?
1. המפעל יקנה עוד 4 חיישנים.
  2. מצב חרום מוגדר כעת בתוחלת של 7500 יחידות.
  3. מערכת ההתראה תופעל אם ממוצע של תשעת החיישנים יהיה מעל 6700.

8. במטרה לבדוק האם במקום עבודה מסוים פרופורציית הבנים נמוכה מפרופורציית הבנות נדגמו באקראי 10 עובדים. הוחלט שאם מספר הבנים במדגם יהיה לכל היותר 2 תתקבל הטענה שפרופורציית הבנים נמוכה מפרופורציית הבנות.
- א. מה רמת המובהקות של כלל ההכרעה הנ"ל?
- ב. מהי העוצמה בהנחה ובחברה 30% בנים?

9. זמן ההשפעה של משכך הכאבים "אופטלנוס" מתפלג נורמאלית עם תוחלת של 40 דקות וסטיית תקן של 12 דקות.

חברת התרופות המייצרת את התרופה מנסה לשפר את התרופה כך שתוחלת הזמן עד להשפעה תתקצר. לצורך כך, דגמו 25 מטופלים שיקבלו את התרופה "אופטלנוס פורטה", ממוצע זמן התגובה של המטופלים היה 34.5 דקות. חברת התרופות החליטה מראש שאם ממוצע הזמן עד להשפעה יהיה נמוך מ-35 דקות, היא תמשיך בתהליך שיווק "אופטלנוס פורטה".

א. מהי רמת המובהקות של המבחן המוצע?

ב. על סמך תוצאות המדגם. מהי המסקנה ומהי הטעות האפשרית במסקנה?

ג. מהי עצמת המבחן המוצע אם במציאות התרופה "אופטלנוס פורטה" מפחיתה את התוחלת לכדי 32 דקות?

ד. כיצד תשתנה התשובה לסעיף ג' אם החברה הייתה מחליטה שהיא תמשיך בתהליך שיווק התרופה החדשה כאשר ממוצע המדגם יהיה נמוך מ-36 דקות?

10. ציוני פסיכומטרי מתפלגים נורמלית עם סטיית תקן 120.

מכון טוען שלימודים אצלו מעלים את ממוצע הציונים ביותר מ-30 נקודות. נלקחו 20 שלמדו במכון ו-20 שניגשו לבחינה בלמידה עצמית. הוחלט במשרד פרסום לקבל את טענת המכון רק אם במדגם ממוצע הציונים של אלה שלמדו במכון יהיה גבוהה בלפחות 50 נקודות מאלה שלא היו.

א. מהי רמת המובהקות של המחקר?

ב. מה הסיכוי לעשות טעות מסוג שני II בהנחה שהמכון מעלה את ממוצע הציונים ב-60 נקודות?

ג. כיצד התשובות לסעיף א' או ב' היו משתנות אם מסתבר שסטיית התקן בציוני הפסיכומטרי הינה 100. הסבירו ללא חישוב.

11. קו ייצור נחשב תקין אם יש בו לכל היותר 4% פגומים, ונחשב שאינו תקין אחרת. מנהל האיכות דוגם בכל יום מקו הייצור 500 מוצרים. אם במדגם יהיה לפחות 30 מוצרים פגומים יפסיקו באותו היום את קו הייצור.

א. מה ההסתברות להפסיק את קו הייצור כשהוא תקין. איך קוראים להסתברות זאת?  
 ב. מה ההסתברות להמשיך ביום מסוים את קו הייצור למרות שאינו תקין כי היו 8% פגומים בקו הייצור. איך קוראים להסתברות זאת?

12. מעוניינים לבדוק האם בפקולטה מסוימת ישנה העדפה לגברים. הוחלט לדגום 200 מתקבלים ועל סמך מספר הבנים לקבוע אם טענת המחקר מתקבלת.  
 חוקר א' קבע רמת מובהקות של 5% וחוקר ב' החליט לקבל את טענת המחקר אם במדגם יהיו לפחות 120 בנים. למי מבין החוקרים רמת מובהקות גדולה יותר?

**פתרונות:****שאלה 2**

$$\beta = \frac{2}{5} \quad \alpha = \frac{1}{3}$$

**שאלה 3**

$$\beta = 0.5 \quad \alpha = 0.25$$

**שאלה 4**

$$\beta = 0.8 \quad \alpha = 0.2 \quad \text{א.}$$

$$\beta = 0.3 \quad \alpha = 0.2 \quad \text{ב.}$$

ג. כלל ב'

**שאלה 5**

ב. 0.00781

ג. 0.1678

**שאלה 6**

א. 0.05

ב. 0.022

**שאלה 7**

א. 0.0228

ב. 0.0918

ג. 0.9082

**שאלה 8**

א. 0.055

ב. 0.383

**שאלה 10**

א. 0.2981

ב. 0.3974

ג. קטן

**שאלה 11**

א. 0.0113

ב. 0.0495

שאלה 12

חוקר א

## פרק 20 - בדיקת השערות על פרמטרים

### הקדמה

#### רקע:

תהליך של בדיקת השערות הוא תהליך מאד נפוץ בעולם הסטטיסטיקה. בבדיקת השערות על פרמטרים נעבוד לפי השלבים הבאים:

**שלב א:** נזהה את הפרמטר הנחקר.

**שלב ב:** נרשום את השערות המחקר.

**השערת האפס** המסומנות ב-  $H_0$

בדרך כלל השערת האפס מסמלת את אשר היה מקובל עד עכשיו, את השגרה הנורמה.

**השערה אלטרנטיבית** ( השערת המחקר ) המסומנת ב-  $H_1$ .

ההשערה האלטרנטיבית מסמלת את החדשנות בעצם ההשערה האלטרנטיבית מדברת על הסיבה שהמחקר נעשה היא שאלת המחקר.

**שלב ג:** נבדוק האם התנאים לביצוע התהליך מתקיימים ונניח הנחות במידת הצורך.

**שלב ד:** נרשום את כלל ההכרעה.

בתהליך של בדיקת השערות יוצרים כלל שניקרא **כלל הכרעה**:

הכלל יוצר אזור שניקרא **אזור דחייה** ( דחייה של השערת האפס כלומר קבלה של האלטרנטיבה )  
**ואזור קבלה** ( קבלה של השערת האפס ודחייה של האלטרנטיבה ). כלל ההכרעה מתבסס על איזשהו סטטיסטי.

אזור הדחייה מוכתב על ידי סיכון שלוקח החוקר מראש שניקרא רמת מובהקות ומסומן ב-  $\alpha$ .

#### שלב ה:

בתהליך יש ללכת לתוצאות המדגם ולחשב את הסטטיסטי המתאים ולבדוק האם התוצאות נופלות באזור הדחייה או הקבלה.

#### שלב ו:

להסיק מסקנה בהתאם לתוצאות המדגם.

**דוגמה:** ( פתרון בהקלטה )



משרד הבריאות פרסם שמשקל ממוצע של תינוקות ביום היוולדם בישראל 3300 גר'. משרד הבריאות רוצה לחקור את הטענה שנשים מעשנות בזמן ההיריון יולדות תינוקות במשקל נמוך מהממוצע. במחקר השתתפו 20 נשים מעשנות בהריון. להלן תוצאות המדגם שבדק את המשקל של התינוקות בעת הלידה:

$$n = 20$$

$$\bar{X} = 3120$$

$$S = 280$$

א. מהי אוכלוסיית המחקר?

ב. מה המשתנה הנחקר?

ג. מה הפרמטר הנחקר?

ד. מהן השערות המחקר?

**תרגילים:**

1. ממוצע הציונים בבחינת הבגרות באנגלית הנו 72 עם סטיית תקן 15 נקודות. מורה טוען שפיתח שיטת לימוד חדשה שתעלה את ממוצע הציונים. משרד החינוך החליט לתת למורה 36 תלמידים אקראיים. ממוצע הציונים של אותם תלמידים לאחר שלמדו בשיטתו היה 75.5.

- א. מהי אוכלוסיית המחקר?
- ב. מה המשתנה הנחקר?
- ג. מה הפרמטר הנחקר?
- ד. מהן השערות המחקר?

2. לפי הצהרת היצרן של חברת משקאות מסוימת נפח הנוזל בבקבוק מתפלג נורמלית עם תוחלת 500 סמ"ק וסטיית תקן 20 סמ"ק. אגודת הצרכנים מתלוננת על הפחתת נפח המשקה בבקבוק מהכמות המוצהרת. במדגם שעשתה אגודת הצרכנים התקבל נפח ממוצע של 492 סמ"ק במדגם בגודל 25.

- א. מהי אוכלוסיית המחקר?
- ב. מה המשתנה הנחקר?
- ג. מה הפרמטר הנחקר?
- ד. מהן השערות המחקר?

3. במשך שנים אחוז המועמדים שהתקבל לפקולטה למשפטים היה 25%. השנה מתוך מדגם של 120 מועמדים התקבלו 22. מחקר מעוניין לבדוק האם השנה מקשים על הקבלה לפקולטה למשפטים.

- א. מהי אוכלוסיית המחקר?
- ב. מה המשתנה הנחקר?
- ג. מה הפרמטר הנחקר?
- ד. מהן השערות המחקר?

4. בחודש ינואר השנה פורסם שאחוז האבטלה במשק הוא 8% במדגם עכשווי התקבל שמתוך 200 אנשים 6.5% מובטלים. רוצים לבדוק ברמת מובהקות של 5% האם כיום אחוז האבטלה הוא כמו בתחילת השנה.

- א. מהי אוכלוסיית המחקר?
- ב. מה המשתנה הנחקר?
- ג. מה הפרמטר הנחקר?
- ד. מהן השערות המחקר?

### טעויות בבדיקת השערות

#### רקע:

בתהליך של בדיקת השערות יוצרים כלל שניקרא כלל הכרעה :

הכלל יוצר אזור שניקרא אזור דחייה ( דחייה של השערת האפס כלומר קבלה של האלטרנטיבה) ואזור קבלה ( קבלה של השערת האפס ודחייה של האלטרנטיבה). כלל ההכרעה מתבסס על איזשהו סטטיסטי .

בתהליך יש ללכת לתוצאות המדגם ולבדוק האם התוצאות נופלות באזור הדחייה או הקבלה וכך להגיע למסקנה – המסקנה היא בעירבון מוגבל כיוון שהיא תלויה בכלל ההכרעה ובתוצאות המדגם. נשנה את כלל ההכרעה אנחנו יכולים לקבל מסקנה אחרת . נבצע מדגם חדש אנחנו עלולים לקבל תוצאה אחרת.

לכן יתכנו טעויות במסקנות שלנו :

		הכרעה	
		H0	H1
מציאות	H0	אין טעות	טעות מסוג 1
	H1	טעות מסוג 2	אין טעות

#### הגדרת הטעויות:

טעות מסוג ראשון- להכריע לדחות את  $H_0$  למרות שבמציאות  $H_0$  נכונה.

טעות מסוג שני- להכריע לקבל את  $H_0$  למרות שבמציאות  $H_1$  נכונה.

דוגמה: (פתרון בהקלטה)

אדם חשוד בביצוע עבירה ונתבע בבית המשפט. אילו סוגי טעויות אפשריות בהכרעת הדין?




**תרגילים:**

1. לפי הצהרת היצרן של חברת משקאות מסוימת נפח הנוזל בבקבוק מתפלג נורמלית עם תוחלת 500 סמ"ק וסטיית תקן 20 סמ"ק. אגודת הצרכנים מתלוננת על הפחתת נפח המשקה בבקבוק מהכמות המוצהרת. במדגם שעשתה אגודת הצרכנים התקבל נפח ממוצע של 492 סמ"ק במדגם בגודל 25. בסופו של דבר הוחלט להכריע לטובת חברת המשקאות.
- א. רשמו את השערות המחקר.
- ב. מה מסקנת המחקר?
- ג. איזו סוג טעות יתכן וביצעו במחקר?
2. במחקר על פרמטר מסוים הוחלט בסופו של דבר לדחות את השערת האפס.
- א. האם ניתן לדעת אם בוצע טעות במחקר?
- ב. מה סוג הטעות האפשרית?
3. לפי נתוני משרד הפנים בשנת 1980 למשפחה ממוצעת היה 2.3 ילדים למשפחה עם סטיית תקן 0.4. ישנה טענה שכיום ממוצע מספר הילדים במשפחה קטן יותר. לצורך כך הוחלט לדגום 121 משפחות. במדגם התקבל ממוצע 2.17 ילדים למשפחה. על סמך תוצאות המדגם נקבע שלא ניתן לקבוע שבאופן מובהק תוחלת מספר הילדים למשפחה קטנה כיום.
- א. מהי אוכלוסיית המחקר?
- ב. מה המשתנה הנחקר?
- ג. מה הפרמטר הנחקר?
- ד. מה השערות המחקר?
- ה. מה מסקנת המחקר?
- ו. מהי סוג הטעות האפשרית במחקר?

## פרק 21 - בדיקת השערות על תוחלת (ממוצע)

### כאשר שונות האוכלוסיה ידועה

#### רקע:

$H_0 : \mu = \mu_0$ $H_1 : \mu > \mu_0$	$H_0 : \mu = \mu_0$ $H_1 : \mu < \mu_0$	$H_0 : \mu = \mu_0$ $H_1 : \mu \neq \mu_0$	<b>השערת האפס :</b> <b>השערה אלטרנטיבה:</b>
1. $\sigma$ ידועה 2. $X \sim N$ או מדגם מספיק גדול			<b>תנאים:</b>
$Z_{\bar{x}} > Z_{1-\alpha}$  $Z_{1-\alpha}$ דוחים את $H_0$ - ■	$Z_{\bar{x}} < -Z_{1-\alpha}$  $-Z_{1-\alpha}$ דוחים את $H_0$ - ■	$Z_{\bar{x}} < -Z_{1-\frac{\alpha}{2}}$ או $Z_{\bar{x}} > Z_{1-\frac{\alpha}{2}}$  $-Z_{1-\frac{\alpha}{2}}$ $Z_{1-\frac{\alpha}{2}}$ דוחים את $H_0$ - ■	<b>כלל ההכרעה:</b> אזור הדחייה של $H_0$ :

#### סטטיסטי המבחן :

$$Z_{\bar{x}} = \frac{\bar{X} - \mu_0}{\frac{\sigma}{\sqrt{n}}}$$

חלופה אחרת לכלל הכרעה:

$\bar{X} > \mu_0 + Z_{1-\alpha} \cdot \frac{\sigma}{\sqrt{n}}$	$\bar{X} < \mu_0 - Z_{1-\alpha} \cdot \frac{\sigma}{\sqrt{n}}$	$\bar{X} > \mu_0 + Z_{1-\alpha/2} \cdot \frac{\sigma}{\sqrt{n}}$ או $\bar{X} < \mu_0 - Z_{1-\alpha/2} \cdot \frac{\sigma}{\sqrt{n}}$	<b>נדחה <math>H_0</math> אם מתקיים:</b>
--	--	--	---

**דוגמה :** (פתרון בהקלטה)

יבול העגבניות מתפלג נורמלית עם תוחלת של 10 טון לדונם וסטיית תקן של 2.5 טון לדונם בעונה. משערים ששיטת זיבול חדשה תעלה את תוחלת היבול לעונה מבלי לשנות את סטיית התקן. נדגמו 4 חלקות שזובלו בשיטה החדשה. היבול הממוצע שהתקבל היה 12.5 טון לדונם. בדוק את ההשערה ברמת מובהקות של 1%.

**תרגילים:**

1. ממוצע הציונים בבחינת הבגרות באנגלית הנו 72 עם סטיית תקן 15 נקודות. מורה טוען שפיתח שיטת לימוד חדשה שתעלה את ממוצע הציונים. משרד החינוך החליט לתת למורה 36 תלמידים אקראיים. ממוצע הציונים של אותם תלמידים לאחר שלמדו בשיטתו היה 75.5. בהנחה שגם בשיטתו סטיית התקן תהייה 15 מה מסקנתכם ברמת מובהקות של 5%?
2. לפי הצהרת היצרן של חברת משקאות מסוימת נפח הנוזל בבקבוק מתפלג נורמלית עם תוחלת 500 ס"מ<sup>3</sup> וסטיית תקן 20 ס"מ<sup>3</sup>. אגודת הצרכנים מתלוננת על הפחתת נפח המשקה בבקבוק מהכמות המוצהרת. במדגם שעשתה אגודת הצרכנים התקבל נפח ממוצע של 492 ס"מ<sup>3</sup> במדגם בגודל 25.
  - א. מה מסקנתכם ברמת מובהקות של 2.5%?
  - ב. האם ניתן לדעת מה תהיה המסקנה עבור רמת מובהקות הגבוהה מ-5%?
3. מהנדס האיכות מעוניין לבדוק אם מכונה מכוילת (מאופסת). המכונה כוונה לחתוך מוטות באורך 50 ס"מ. לפי נתוני היצרן סטיית התקן בחיתוך המוטות היא 0.5 ס"מ. במדגם של 50 מוטות התקבל ממוצע אורך המוט 50.93 ס"מ. מה מסקנתכם ברמת מובהקות של 5%?
4. המשקל הממוצע של הספורטאים בתחום ספורט מסוים הוא 90 ק"ג, עם סטיית תקן 8 ק"ג. לפי דעת מומחים בתחום יש צורך בהורדת המשקל ובשימוש בדיאטה מסוימת שצריכה להביא להורדת המשקל. לשם בדיקת יעילות הדיאטה נלקח מדגם מקרי של 50 ספורטאים ובתום שנה של שימוש בדיאטה התברר שהמשקל הממוצע במדגם זה היה 84 ק"ג. יש לבדוק בר"מ של 10%, האם הדיאטה גורמת להורדת המשקל.
5. לפי מפרט נתון, על עובי בורג להיות 4 מ"מ עם סטיית תקן של 0.2 מ"מ. במדגם של 25 ברגים העובי הממוצע היה 4.07 מ"מ. קבעו ברמת מובהקות 0.05, האם עובי הברגים מתאים למפרט. הניחו כי עובי של בורג מתפלג נורמלית וסטיית התקן של עובי בורג היא אכן 0.2 מ"מ.

6. במחקר נמצא שתוצאה היא מובהקת ברמת מובהקות של 5% מה תמיד נכון? בחר בתשובה הנכונה.
- הגדלת רמת המובהקות לא תשתנה את מסקנת המחקר.
  - הגדלת רמת המובהקות תשנה את מסקנת המחקר.
  - הקטנת רמת המובהקות לא תשנה את מסקנת המחקר.
  - הקטנת רמת המובהקות תשנה את מסקנת המחקר.
7. חוקר ערך מבחן דו צדדי ברמת מובהקות של  $\alpha$  והחליט לדחות את השערת האפס.
- אם החוקר היה עורך מבחן צדדי ברמת מובהקות של  $\frac{\alpha}{2}$  אזי בהכרח: (בחר בתשובה הנכונה)
- השערת האפס הייתה נדחית.
  - השערת האפס הייתה לא נדחית.
  - לא ניתן לדעת מה תהיה מסקנתו במקרה זה.
8. שני סטטיסטיקאים בדקו השערות  $H_0: \mu = \mu_0$  כנגד  $H_1: \mu > \mu_0$  עבור שונות ידועה ובאותה רמת מובהקות. שני החוקרים קבלו אותו ממוצע במדגם אך לחוקר א' היה מדגם בגודל 100 ולחוקר ב' מדגם בגודל 200.
- אם חוקר א' החליט לדחות את  $H_0$ , מה יחליט חוקר ב'? נמקו.
  - אם חוקר א' יחליט לא לדחות את  $H_0$ , מה יחליט חוקר ב'? נמקו.



**פתרונות :****שאלה 1:**

נקבל  $H_0$

**שאלה 2:**

נדחה  $H_0$

**שאלה 3:**

נדחה  $H_0$

**שאלה 4:**

נדחה  $H_0$

**שאלה 5:**

נקבל  $H_0$

**שאלה 6:**

ב

**שאלה 7:**

ג

**שאלה 8:**

א. אותה מסקנה

ב. לא ניתן לדעת.

**סיכוי לטעויות ועוצמה כאשר שונות האוכלוסייה ידועה**

**רקע:**

		הכרעה	
		H0	H1
מציאות	H0	אין טעות	טעות מסוג 1
	H1	טעות מסוג 2	אין טעות

נגדיר את ההסתברויות הבאות:

**הסיכוי לבצע טעות מסוג 1 (רמת מובהקות)**

$$\alpha = P(H_0 \text{ לדחות} | H_0 \text{ נכונה}) = P_{H_0}(H_0 \text{ לדחות})$$

**הסיכוי לבצע טעות מסוג 2:**

$$\beta = P(H_0 \text{ לקבל} | H_1 \text{ נכונה}) = P_{H_1}(H_0 \text{ לקבל})$$

**רמת בטחון:**

$$(1-\alpha) = P(H_0 \text{ לקבל} | H_0 \text{ נכונה}) = P_{H_0}(H_0 \text{ לקבל})$$

**עוצמה:**

$$\pi = (1-\beta) = P(H_1 \text{ לדחות} | H_1 \text{ נכונה}) = P_{H_1}(H_0 \text{ לדחות})$$

התהליך לחישוב סיכוי לטעות מסוג שני:

$H_0 : \mu = \mu_0$ $H_1 : \mu > \mu_0$	$H_0 : \mu = \mu_0$ $H_1 : \mu < \mu_0$	$H_0 : \mu = \mu_0$ $H_1 : \mu \neq \mu_0$	<b>השערת האפס :</b> <b>השערה אלטרנטיבה :</b>
3. $\sigma$ ידועה 4. $X \sim N$ או מדגם מספיק גדול			<b>תנאים :</b>
$\bar{X} > \mu_0 + Z_{1-\alpha} \cdot \frac{\sigma}{\sqrt{n}}$	$\bar{X} < \mu_0 - Z_{1-\alpha} \cdot \frac{\sigma}{\sqrt{n}}$	$\bar{X} > \mu_0 + Z_{1-\alpha/2} \cdot \frac{\sigma}{\sqrt{n}}$ או $\bar{X} < \mu_0 - Z_{1-\alpha/2} \cdot \frac{\sigma}{\sqrt{n}}$	<b>כלל ההכרעה :</b> אזור הדחייה של $H_0$ :
$P_{H_1} (\bar{X} < \mu_0 + Z_{1-\alpha} \cdot \frac{\sigma}{\sqrt{n}})$	$P_{H_1} (\bar{X} > \mu_0 - Z_{1-\alpha} \cdot \frac{\sigma}{\sqrt{n}})$	$P_{H_1} (\mu_0 - Z_{1-\alpha/2} \cdot \frac{\sigma}{\sqrt{n}} < \bar{X} < \mu_0 + Z_{1-\alpha/2} \cdot \frac{\sigma}{\sqrt{n}})$	<b>חישוב <math>\beta</math> :</b>

התפלגות ממוצע המדגם :  $\bar{X} \sim N(\mu, \frac{\sigma^2}{n})$

$$Z = \frac{\bar{x} - \mu}{\sigma / \sqrt{n}} \quad \text{התקנון}$$

**דוגמה :** (פתרון בהקלטה)

בתחילת השנה חשבון הטלפון הסלולארי הממוצע לאדם היה 200 ₪ עם סטיית תקן של 80 ₪ לחודש. בעקבות כניסתן של חברות טלפון סלולארית חדשות מעוניינים לבדוק האם כיום ממוצע חשבון הטלפון הסלולארי פחת. לצורך בדיקה דגמו באקראי 36 אנשים וחשבון הטלפון הסלולארי שלהם היה 150 ₪ בממוצע לחודש.

א. רשמו את השערות המחקר ובנו כלל הכרעה במונחי חשבון ממוצע מדגמי ברמת מובהקות של 5%.

ב. מה מסקנתכם? איזה סוג טעות אפשרית במסקנה?

ג. נניח שבמציאות כיום החשבון הממוצע הוא 160 ₪. מה הסיכוי לבצע טעות מסוג שני?

ד. אם נקטין את רמת המובהקות מסעיף א', כיצד הדבר ישפיע על התשובה מסעיף ג'?

**תרגילים:**

1. נתון ש  $X \sim N(\mu, \sigma^2 = 1)$  להלן השערות של חוקר לגבי הפרמטר  $\mu$  :
- $$H_0 : \mu = 5$$
- $$H_1 : \mu = 7$$
- מעוניינים ליצור כלל הכרעה המתבסס על הסמך תצפית בודדת כך שרמת המובהקות תהיה 5%.
- א. עבור אילו ערכים של  $X$  שידגם נדחית השערת  $H_0$  ?
- ב. מה הסיכוי לבצע טעות מסוג שני?
- ג. אם במדגם התקבל ש  $X = 6.9$  מה תהיה המסקנה ומה הטעות האפשרית?
2. לפי נתוני משרד הפנים בשנת 1980 למשפחה ממוצעת היה 2.3 ילדים למשפחה עם סטיית תקן 0.4. מעוניינים לבדוק אם כיום ממוצע מספר הילדים למשפחה קטן יותר. לצורך כך הוחלט לדגום 121 משפחות. במדגם התקבל ממוצע 2.17 ילדים למשפחה.
- א. רשמו כלל הכרעה במונחי ממוצע מדגם קריטי ברמת מובהקות של 5%.
- ב. בהמשך לסעיף א מה תהיה המסקנה ומהי הטעות האפשרית במסקנה?
- ג. אם באמת ממוצע מספר הילדים במשפחה פחת לכדי 2.1 מהי העצמה של הכלל מסעיף א?
3. להלן נתונים על תהליך של בדיקת השערות על תוחלת:
- $$H_0 : \mu = 200$$
- $$H_1 : \mu \neq 200$$
- $$\sigma = 30$$
- $$n = 225$$
- א. רשום כלל הכרעה במונחי ממוצע מדגם קריטי וברמת מובהקות של 10%.
- ב. בהמשך לסעיף א מהי העצמה אם התוחלת שווה ל-195?
- ג. הסבר ללא חישוב איך העצמה תשתנה אם רמת המובהקות תהייה 5%?

4. מפעל לייצור צינורות מייצר צינור שקוטרו מתפלג נורמלית עם תוחלת של 50 מ"מ וסטית תקן של 6 מ"מ. במחלקת ביקורת האיכות דוגמים בכל יום 81 צינורות ומודדים את קוטרם, בכדי לבדוק, בעזרת מבחן סטטיסטי, האם מכונת הייצור מכיילת כנדרש או שקוטר הצינורות קטן מהדרוש.
- א. רשום את ההשערות ואת כלל ההכרעה ברמת מובהקות של 5%.
- ב. אם ביום כלשהו מכונת הייצור התקלקלה והיא מייצרת את הצינורות בקוטר שתוחלתו 48 מ"מ בלבד (סטית התקן לא השתנתה), מה ההסתברות שהתקלה לא תתגלה בביקורת האיכות? כיצד נקראת הסתברות זו?
- ג. הסבר ללא חישוב כיצד התשובה לסעיף ב תשתנה אם רמת המובהקות תגדל.
- ד. הסבר ללא חישוב כיצד התשובה לסעיף ב תשתנה אם התוחלת האמיתית היא 47 ולא 48 מ"מ.

5. להלן השערות של מחקר

$$H_0 : \mu = 50$$

$$H_1 : \mu = 58$$

- מעוניינים לדגום 100 תצפיות. ידוע שסטית התקן של ההתפלגות הינה 20.
- א. בנו כלל הכרעה שהסיכוי לטעות מסוג שני בו הוא 10%. מהי רמת המובהקות?
- ב. כיצד הייתה משתנה רמת המובהקות אם (כל סעיף בפני עצמו) ?
1. סטיית התקן הייתה יותר גדולה.
  2. הסיכוי לטעות מסוג שני גדול יותר.

השאלות שלהלן הן שאלות רב בררתיות. בחר בכל שאלה את התשובה הנכונה ביותר:

6. אם חוקר החליט להגדיל את רמת המובהקות במחקר שלו אזי:
- א. הסיכוי לטעות מסוג ראשון גדל.
  - ב. העוצמה של המבחן גדלה.
  - ג. הסיכוי לטעות מסוג שני גדל.
  - ד. תשובות א ו-ב נכונות.
7. חוקר ביצע מחקר ובו עשה טעות מסוג שני לכן:
- א. השערת האפס נכונה.
  - ב. השערת האפס נדחתה.
  - ג. השערת האפס לא נדחתה.
  - ד. אף אחת מהתשובות לא נכונה בהכרח.

8. מה המצב הרצוי לחוקר המבצע בדיקת השערה :

$1 - \beta$	$\alpha$
גדולה	א. גדולה
קטנה	ב. גדולה
גדולה	ג. קטנה
קטנה	ד. קטנה

9. נערך שינוי בכלל ההחלטה של בדיקת השערה מסוימת ובעקבותיו אזור דחיית

$H_0$  קטן. כל שאר הגורמים נשארו ללא שינוי. כתוצאה מכך :

א. הן  $\alpha$ , והן  $(1 - \beta)$ , יקטנו.

ב.  $\alpha$  יישאר ללא שינוי ואילו  $(1 - \beta)$  יגדל.

ג.  $\alpha$  יגדל ואילו  $(1 - \beta)$  יקטן.

ד. הן  $\alpha$  והן  $(1 - \beta)$  יגדלו.

10. ידוע כי לחץ דם תקין באוכלוסייה הוא 120. רופא מניח שלחץ הדם בקרב

עיתונאים גבוה יותר מהממוצע באוכלוסייה. הוא לקח מדגם של 60 עיתונאים

וקיבל ממוצע 137.

על סמך המדגם, הוא בודק טענתו ברמת מובהקות 0.02 ומסיק שלחץ הדם בקרב

העיתונאים אינו גבוה יותר. מה הטעות האפשרית שהרופא עושה ?

א. טעות מסוג ראשון.

ב. טעות מסוג שני.

ג. טעות מסוג שלישי.

ד. אין טעות במסקנתו.

**פתרונות :****שאלה 1:**

א. מעל 6.645

ב. 0.3632

**שאלה 2:**א. נדחה  $H_0$  אם  $\bar{X} < 2.24$ ב. נדחה  $H_0$ 

ג. 1

**שאלה 3:**א. נדחה  $H_0$  אם  $\bar{X} > 203.29$  או  $\bar{X} < 196.71$ 

ב. 0.8051

ג. תקטן.

**שאלה 4:**א. נדחה  $H_0$  אם  $\bar{X} < 48.9$ 

ב. 0.0885

ג. תקטן.

ד. תקטן.

**שאלה 6:**

ד

**שאלה 7:**

ג

**שאלה 8:**

ג

**שאלה 9:**

א

**שאלה 10:**

ב



## קביעת גודל מדגם כששונות האוכלוסייה ידועה

**רקע:**

$$\begin{aligned} H_0 : \mu &= \mu_0 \\ H_1 : \mu &= \mu_1 \end{aligned} \quad \text{השערות המחקר הן :}$$

סטיית התקן של האוכלוסייה ידועה  $\sigma$  ומעוניינים לבצע מחקר שרמת המובהקות לא תעלה על  $\alpha$  והסיכוי לטעות מסוג שני לא יעלה על  $\beta$ .

הנוסחה הבאה נותנת את גודל המדגם הרצוי :

$$n \geq \left( \frac{(Z_{1-\alpha} + Z_{1-\beta}) \times \sigma}{\mu_0 - \mu_1} \right)^2$$

**דוגמה:** (פתרון בהקלטה)

משרד החינוך מפעיל בגן חובה שיטת חינוך שפותחה בשנת 1995. לפי שיטת חינוך זו תוחלת הציון במבחן אוצר מילים לגיל הרך הוא 70. אנשי חינוך החליטו לבדוק שיטת חינוך שפותחה בהולנד הנותנת שם תוחלת ציון אוצר מילים של 80.

נניח שציוני מבחן זה מתפלגים נורמאלית עם  $\sigma = 17$ .

כדי לבדוק האם גם בישראל הפעלת שיטת החינוך ההולנדית תעבוד בגנים, רוצים לבנות מחקר ברמת מובהקות של 5%. כמו כן, מעוניינים שאם בהפעלת השיטה ההולנדית תוחלת הציונים תעלה לכדי 80, המחקר יגלה זאת בסיכוי של 90%. כמה ילדי גן חובה דרושים למחקר?

**תרגילים:**

1. במבחן אינטליגנציה הציונים מתפלגים נורמאלית עם סטיית תקן 8 וממוצע 100. פסיכולוג מעוניין לבדוק את הטענה שבאוכלוסיות במצב סוציו אקונומי נמוך תוחלת הציונים היא 95. אם מעוניינים לגלות את הטענה בהסתברות של לפחות 99% כשרמת המובהקות היא 5% מהו גודל המדגם הדרוש?

2. משרד התקשורת טוענים שאדם מדבר בממוצע 180 דקות בחודש בטלפון הסלולרי. חברות הטלפון הסלולרי טוענות שאינפורמציה זו אינה נכונה ואדם מדבר בממוצע פחות : כ-160 דקות. לצורך פתרון נניח שסטיית התקן של זמן השיחה החודשי ידוע ושווה ל-60 דקות. כמה אנשים יש לדגום כך שאם טענת משרד התקשורת נכונה נדחה אותה בסיכוי של 5% (איך קוראים להסתברות זאת?) כמו כן אם טענת חברות הטלפון הסלולרית נכונה המחקר יגלה זאת בסיכוי של 90% (איך קוראים להסתברות זאת?)

$$H_0 : \mu = \mu_0$$

$$H_1 : \mu = \mu_1$$

3. השערות המחקר הן :

כמו כן נתון שהמשתנה מתפלג נורמלית עם סטיית התקן ידועה  $\sigma$  מעוניינים לבצע מחקר שרמת המובהקות לא תעלה על  $\alpha$  והסיכוי לטעות מסוג שני לא יעלה על  $\beta$ .

הוכח שגודל המדגם הרצוי לכך יהיה :

$$n \geq \left( \frac{(Z_{1-\alpha} + Z_{1-\beta}) \times \sigma}{\mu_0 - \mu_1} \right)^2$$

**פתרונות :**

**שאלה 1:**

41

**שאלה 2 :**

78

**שאלה 3:**

הוכחה

## מובהקות התוצאה ( p-value ) בבדיקת השערות על תוחלת עם שונות ידועה

### רקע:

דרך נוספת להגיע להכרעות שלא דרך כלל הכרעה, היא דרך חישוב מובהקות התוצאה :  
 באמצעות תוצאות המדגם מחשבים את מובהקות התוצאה שמסומן ב-  $p_v$  .  
 את רמת המובהקות החוקר קובע מראש לעומת זאת, את מובהקות התוצאה החוקר יוכל לחשב רק אחרי שיהיו לו את התוצאות.  
 המסקנה של המחקר תקבע לפי העיקרון הבא :

$$\text{אם } p_v \leq \alpha \text{ דוחים את } H_0$$

מובהקות התוצאה זה הסיכוי לקבלת תוצאות המדגם וקיצוני מתוצאות אלה בהנחת השערת האפס.

$$p_v = P_{H_0} \text{ (לקבל את תוצאות המדגם וקיצוני)}$$

אם ההשערה היא דו צדדית :

$$p_v = 2 P_{H_0} \text{ (לקבל את תוצאות המדגם וקיצוני)}$$

מובהקות התוצאה היא גם האלפא המינימלית לדחיית השערת האפס.

שערת האפס : שערה אלטרנטיבה :		תנאים :		p-value
$H_0 : \mu = \mu_0$ $H_1 : \mu > \mu_0$	$H_0 : \mu = \mu_0$ $H_1 : \mu < \mu_0$	$H_0 : \mu = \mu_0$ $H_1 : \mu \neq \mu_0$	5. $\sigma$ ידועה 6. $X \sim N$ או מדגם מספיק גדול	
$P_{H_0}(\bar{X} \geq \bar{x})$	$P_{H_0}(\bar{X} \leq \bar{x})$	אם $2 \cdot P_{H_0}(\bar{X} \geq \bar{x}) \leftarrow \bar{x} > \mu_0$ אם $2 \cdot P_{H_0}(\bar{X} \leq \bar{x}) \leftarrow \bar{x} < \mu_0$		

כאשר בהנחת השערת האפס :  $\bar{X} \sim N(\mu_0, \frac{\sigma^2}{n})$

$$Z_{\bar{x}} = \frac{\bar{x} - \mu_0}{\frac{\sigma}{\sqrt{n}}}$$

**דוגמה:** (פתרון בהקלטה)

המשקל הממוצע של מתגייסים לצבא לפני 20 שנה היה 65 ק"ג. מחקר מעוניין לבדוק האם כיום המשקל הממוצע של מתגייסים גבוה יותר. נניח שמשקל המתגייסים מתפלג נורמאלית עם סטיית תקן של 12 ק"ג. במדגם של 16 מתגייסים התקבל משקל ממוצע של 71 ק"ג.

א. מהי מובהקות התוצאה?

ב. מה המסקנה אם רמת המובהקות היא 5% ואם רמת המובהקות היא 1%?

**תרגילים:**

1. לפניך השערות של מחקר :

$$H_0 : \mu = 70$$

$$H_1 : \mu > 70$$

המשתנה הנחקר מתפלג נורמלית עם סטיית תקן 20. במדגם מאותה אוכלוסייה התקבלו התוצאות הבאות:

$$n = 100$$

$$\bar{x} = 74$$

מהי מובהקות התוצאה?

2. השכר הממוצע במשק בשנת 2012 היה 8800 ₪ עם סטיית תקן 2000. במדגם שנעשה אתמול על 100 עובדים התקבל שכר ממוצע 9500 ₪. מטרת המחקר היא לבדוק האם כיום חלה עליה בשכר. עבור אילו רמות מובהקות שיבחר החוקר יוחלט שחלה עליה בשכר הממוצע במשק?

3. אדם חושד שחברת ממתקים לא עומדת בהתחייבויותיה, ומשקלו של חטיף מסוים אותו הוא קונה מדי בוקר נמוך מ – 100 גרם. חברת הממתקים טוענת מצידה שהיא אכן עומדת בהתחייבויותיה. ידוע כי סטית התקן של משקל החטיף היא 12 גרם. האדם מתכוון לשקול 100 חפיסות חטיפים ולאחר מכן להגיע להחלטה. לאחר הבדיקה הוא קיבל משקל הממוצע של 98.5 גרם.

א. רשמו את השערות המחקר.

ב. מהי רמת המובהקות המינימלית עבורה דוחים את השערת האפס?

ג. מהי רמת המובהקות המקסימלית עבורה נקבל את השערת האפס?

ד. מה המסקנה ברמת מובהקות של 5%?

4. מכונה לחיתוך מוטות במפעל חותכת מוטות באורך שמתפלג נורמלית עם תוחלת אליה כוונה המכונה וסטיית תקן 2 ס"מ. ביום מסוים כוונה המכונה לחתוך מוטות באורך 80 ס"מ. אחראי האיכות מעוניין לבדוק האם המכונה מכוילת. לצורך כך נדגמו מקו הייצור 16 מוטות שנחתכו אורכן הממוצע היה 81.7 ס"מ.

א. מהי רמת המובהקות המינימלית עבורה נכריע שהמכונה לא מכוילת?

ב. אם נוסיף עוד תצפית שערכה יהיה 82 ס"מ, כיצד הדבר ישפיע על התשובה של הסעיף הקודם?

ג. הכרע ברמת מובהקות של 5% האם המכונה מכוילת.

5. אם מקבלים בחישובים אלפא מינימלית (P value) קטנה מאוד, סביר להניח כי החוקר ידחה את השערת האפס בקלות. נכון? לא נכון? נמק.
6. בבדיקת השערות התקבל שה-  $p\text{-value}=0.02$ .  
 מה תהיה מסקנת חוקר המשתמש ברמת מובהקות 1%? בחר בתשובה הנכונה.  
 א. יקבל את השערת האפס בכל מקרה.  
 ב. ידחה את השערת האפס מקרה.  
 ג. ידחה את השערת האפס רק אם המבחן הנו דו צדדי.  
 ד. לא ניתן לדעת כי אין מספיק נתונים.
7. מובהקות התוצאה (PV) היא גם : ( בחר בתשובה הנכונה )  
 א. רמת המובהקות המינימאלית לדחות השערת האפס.  
 ב. רמת המובהקות המקסימאלית לדחיית השערת האפס.  
 ג. רמת המובהקות שנקבעת מראש על ידי החוקר טרם קיבל את תוצאות המחקר.  
 ד. רמת המובהקות המינימאלית לאי דחיית השערת האפס.
8. בבדיקת השערות מסוימת התקבל  $p\text{ value}=0.0254$  לכן (בחר בתשובה הנכונה):  
 א. ברמת מובהקות של 0.01 אך לא של 0.05 נדחה את  $H_0$ .  
 ב. ברמת מובהקות של 0.01 ושל 0.05 לא נדחה את  $H_0$ .  
 ג. ברמת מובהקות של 0.05 אך לא של 0.01 נדחה את  $H_0$ .  
 ד. ברמת מובהקות של 0.01 ושל 0.05 נדחה את  $H_0$ .

**פתרונות :****שאלה 1:**

0.0228

**שאלה 2:**

עבור כל רמת מובהקות סבירה.

**שאלה 3:**

ב. 0.1056

ג. 0.1056

ד. נכריע שיש עמידה בהתחייבות של החברה.

**שאלה 4:**

א. 0.0006

ב. יקטן.

ג. נכריע שאין כיוול.

**שאלה 5:**

נכון

**שאלה 6:**

תשובה: א

**שאלה 7:**

תשובה: א




**שאלה 8:**

תשובה: ג



**בדיקת השערות על תוחלת (ממוצע) כאשר שונות האוכלוסייה אינה ידועה**

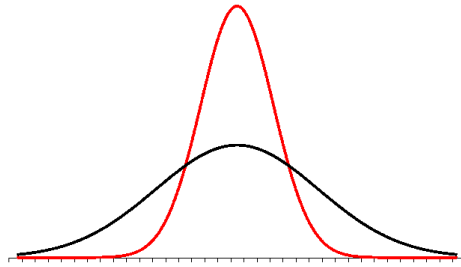
**רקע:**

$H_0: \mu = \mu_0$ $H_1: \mu > \mu_0$	$H_0: \mu = \mu_0$ $H_1: \mu < \mu_0$	$H_0: \mu = \mu_0$ $H_1: \mu \neq \mu_0$	השערת האפס : השערה אלטרנטיבה:
7. $\sigma$ אינה ידועה			תנאים:
8. $X \sim N$ או מדגם מספיק גדול			
$t_{\bar{x}} > t_{1-\alpha}^{(n-1)}$  $t_{1-\alpha, n-1}$ - דוחים את $H_0$	$t_{\bar{x}} < -t_{1-\alpha}^{(n-1)}$  $-t_{1-\alpha, n-1}$ - דוחים את $H_0$	$t_{\bar{x}} < -t_{\frac{\alpha}{2}}^{(n-1)}$ או $t_{\bar{x}} > t_{\frac{\alpha}{2}}^{(n-1)}$  $-t_{\frac{\alpha}{2}, n-1}$ $t_{\frac{\alpha}{2}, n-1}$ - דוחים את $H_0$	כלל ההכרעה: אזור הדחייה של $H_0$ :
$\bar{X} > \mu_0 + t_{1-\alpha}^{n-1} \cdot \frac{S}{\sqrt{n}}$	$\bar{X} < \mu_0 - t_{1-\alpha}^{n-1} \cdot \frac{S}{\sqrt{n}}$	$\bar{X} > \mu_0 + t_{\frac{\alpha}{2}}^{n-1} \cdot \frac{S}{\sqrt{n}}$ או $\bar{X} < \mu_0 - t_{\frac{\alpha}{2}}^{n-1} \cdot \frac{S}{\sqrt{n}}$	חלופה לכלל הכרעה : נדחה $H_0$ אם מתקיים:

סטטיסטי המבחן :

$$t_{\bar{x}} = \frac{\bar{x} - \mu_0}{\frac{S}{\sqrt{n}}}$$

$$S^2 = \frac{\sum_{i=1}^n (X_i - \bar{X})^2}{n-1} = \frac{\sum_{i=1}^n X_i^2 - n\bar{X}^2}{n-1}$$

**התפלגות T:**

הינה התפלגות סימטרית פעמונית שהתוחלת שלה היא 0. ההתפלגות דומה להתפלגות Z רק שהיא יותר רחבה ולכן הערכים שלה יהיו יותר גבוהים. התפלגות T תלויה במושג שנקרא דרגות חופש. דרגות החופש הן  $df=n-1$ . ככל שדרגות החופש עלות ההתפלגות הופכת להיות יותר גבוהה וצרה. כשדרגות החופש שואפות לאינסוף התפלגות T שואפת להיות כמו התפלגות Z.

**דוגמה:** (פתרון בהקלטה)

מפעל קיבל הזמנה לייצור משטחים בעובי של 0.1 ס"מ.  
 כדי לבדוק האם המפעל עומד בדרישה נדגמו 10 משטחים ונמצא שהעובי הממוצע הוא 0.104 עם אומדן לסטיית תקן 0.002 ס"מ.  
 א. מהן השערות המחקר?  
 ב. מה ההנחה הדרושה לצורך פתרון?  
 ג. בדוק ברמת מובהקות של 5%.

**תרגילים:**

1. משך זמן ההחלמה בלקיחת אנטיביוטיקה מסוימת הוא 120 שעות בממוצע עם סטיית תקן לא ידועה. מעוניינים לבדוק האם אנטיביוטיקה אחרת מקטינה את משך זמן ההחלמה. במדגם של 5 חולים שלקחו את האנטיביוטיקה האחרת התקבלו זמני ההחלמה הבאים: 90, 95, 100, 80, 125 שעות. מה מסקנתכם ברמת מובהקות של 5%. מהי ההנחה הדרושה לצורך הפתרון?

2. משרד הבריאות פרסם שמשקל ממוצע של תינוקות ביום היוולדם בישראל 3300 גר'. משרד הבריאות רוצה לחקור את הטענה שנשים מעשנות בזמן ההיריון יולדות תינוקות במשקל נמוך מהממוצע. במחקר השתתפו 20 נשים מעשנות בהריון. להלן תוצאות המדגם שבדק את המשקל של התינוקות בעת הלידה:

$$n = 20$$

$$\bar{x} = 3120$$

$$S = 280$$

מה מסקנתכם ברמת מובהקות של 5% מה יש להניח לצורך פתרון?

3. ציוני מבחן אינטליגנציה מתפלגים נורמלית. בארה"ב ממוצע הציונים הוא 100. במדגם שנעשה על 23 נבחנים ישראלים, התקבל ממוצע ציונים 104.5 וסטיית התקן המדגמית 16. האם בישראל ממוצע הציונים שונה מבארה"ב? הסיקו ברמת מובהקות של 5%.

4. באוכלוסייה מסוימת נדגמו 10 תצפיות והתקבלו התוצאות הבאות:

$$\sum_{i=1}^{10} X_i = 750$$

$$\sum_{i=1}^{10} (X_i - \bar{X})^2 = 900$$

נתון שההתפלגות היא נורמלית.

בדוק ברמת מובהקות של 5% האם התוחלת של ההתפלגות שונה מ-80.

5. ליאור ורוני העלו את אותן השערות על ממוצע האוכלוסייה. כמו כן הם התבססו על אותן תוצאות של מדגם.

ליאור השתמש בטבלה של התפלגות  $Z$ .

רוני השתמשה בטבלה של התפלגות  $t$ .

מה נוכל לומר בנוגע להחלטת המחקר שלהם? בחר בתשובה הנכונה.

א. אם ליאור ידחה את השערת האפס אז גם בהכרח רוני.

ב. אם רוני תדחה את השערת האפס אז גם בהכרח ליאור.

ג. שני החוקרים בהכרח יגיעו לאותה מסקנה.

ד. לא ניתן לדעת על היחס בין דחיית השערת האפס של שני החוקרים.

6. נתון ש  $X \sim N(\mu, \sigma^2)$  כמו כן נתונות ההשערות הבאות :

$$H_0 : \mu = \mu_0$$

$$H_0 : \mu < \mu_0$$

חוקר בדק את ההשערות הללו על סמך מדגם שכלל 10 תצפיות.  $\sigma^2$  לא הייתה ידועה לחוקר.

החוקר החליט לדחות את השערת האפס ברמת מובהקות של 5% לאחר מכן כדי לחזק את

קביעתו הוא דגם עוד 5 תצפיות ושקלל את תוצאות אלה גם למדגם כך שכלל עכשיו 15

תצפיות.

בחר בתשובה הנכונה :

א. כעת בברור הוא ידחה את השערת האפס.

ב. כעת הוא דווקא יקבל את השערת האפס.

ג. כעת לא ניתן לדעת מה תהיה מסקנתו.

**פתרונות:****שאלה 1:** $H_0$  נדחה**שאלה 2:** $H_0$  נדחה**שאלה 3:** $H_0$  נקבל**שאלה 4:** $H_0$  נקבל**שאלה 5:**

התשובה היא : ב

**שאלה 6:**

התשובה היא : ג

## מובהקות התוצאה ( p-value ) כאשר שונות האוכלוסייה לא ידועה

### רקע:

נזכיר שהמסקנה של המחקר תקבע לפי העיקרון הבא :

אם  $p_v \leq \alpha$  דוחים את  $H_0$

מובהקות התוצאה זה הסיכוי לקבלת תוצאות המדגם וקיצוני מתוצאות אלה בהנחת השערת האפס.

$$p_v = P_{H_0} \text{ (לקבל את תוצאות המדגם וקיצוני)}$$

אם ההשערה היא דו צדדית :

$$p_v = 2 P_{H_0} \text{ (לקבל את תוצאות המדגם וקיצוני)}$$

מובהקות התוצאה היא גם האלפא המינימלית לדחיית השערת האפס.

$H_0 : \mu = \mu_0$ $H_1 : \mu > \mu_0$	$H_0 : \mu = \mu_0$ $H_1 : \mu < \mu_0$	$H_0 : \mu = \mu_0$ $H_1 : \mu \neq \mu_0$	השערת האפס : השערה אלטרנטיבה :
9. $\sigma$ אינה ידועה 10. $X \sim N$ או מדגם מספיק גדול			תנאים :
$P_{H_0}(\bar{X} \geq \bar{x})$	$P_{H_0}(\bar{X} \leq \bar{x})$	אם $2 \cdot P_{H_0}(\bar{X} \geq \bar{x}) \leftarrow \bar{x} > \mu_0$ אם $2 \cdot P_{H_0}(\bar{X} \leq \bar{x}) \leftarrow \bar{x} < \mu_0$	p-value

$$t_{\bar{x}} = \frac{\bar{x} - \mu_0}{\frac{S}{\sqrt{n}}}$$

$$S^2 = \frac{\sum_{i=1}^n (X_i - \bar{X})^2}{n-1} = \frac{\sum_{i=1}^n X_i^2 - n\bar{X}^2}{n-1}$$

$$d.f = n - 1$$

**דוגמה :** (פתרון בהקלטה)

- ממוצע זמן הנסיעה של אדם לעבודה הינו 40 דקות. הוא מעוניין לבדוק דרך חלופית שאמורה להיות יותר מהירה. לצורך כך הוא דוגם 5 ימים שבהם הוא נוסע בדרך החלופית. זמני הנסיעה שקיבל בדקות הם : 27,34,32,40,30 . הנח שזמן הנסיעה מתפלג נורמלית.
- א. רשום את השערות המחקר.
- ב. מצא חסמים למובהקות התוצאה.
- ג. מה המסקנה ברמת מובהקות של 5% ?

**תרגילים :**

1. קו ייצור אריזות סוכר נארזות כך שהמשקל הממוצע של אריזות הסוכר צריך להיות אחד קילוגרם. בכל יום דוגמים מקו הייצור 5 אריזות במטרה לבדוק האם קו הייצור תקין. בבדיקה דגמו 5 אריזות סוכר ולהלן משקלן בגרמים :
- $$1008, 1024, 996, 1005, 997$$
- א. רשמו את השערות המחקר.  
 ב. מהי מובהקות התוצאה? הצג חסמים.  
 ג. מה המסקנה ברמת מובהקות של 5%?
2. חוקר בדק את הטענה כי פועלים העובדים במשמרת לילה איטיים יותר מפועלים העובדים ביום. ידוע כי משך הזמן הממוצע הדרוש לייצר מוצר מסוים ביום הוא 6 שעות. במדגם מיקרי של 25 פועלים שעבדו במשמרת לילה נמצא כי הזמן הממוצע לייצר אותו מוצר הוא 7 שעות עם סטית תקן של 3 שעות.  
 מהי ה- $\alpha$  המינימלית שלפיה ניתן להחליט שאכן העובדים במשמרת לילה איטיים יותר ?
3. הגובה של מתגייסים לצה"ל מתפלג נורמלית . במדגם של 25 מתגייסים מדדו את הגבהים שלהם בס"מ והתקבלו התוצאות הבאות :
- $$\bar{x} = 176.2$$
- $$\sum (x_i - \bar{x})^2 = 2832$$
- מטרת המחקר היא לבדוק האם תוחלת הגבהים של המתגייסים גבוה מ-174 ס"מ באופן מובהק. מהי בקרוב מובהקות התוצאה ועל פיה מה תהיה המסקנה ברמת מובהקות של 6% ?



**פתרונות :**

**שאלה 3:**

נקבל  $H_0$

## הקשר בין רווח סמך לבדיקת השערות על תוחלת

### רקע:

ניתן לבצע בדיקת השערות דו צדדית ברמת מובהקות  $\alpha$  על  $\mu$ :

$$H_0 : \mu = \mu_0$$

$$H_1 : \mu \neq \mu_0$$

על ידי בניית רווח סמך ברמת סמך של  $1 - \alpha$  ל  $\mu$ :

אם  $\mu_0$  נופל ברווח  $\leftarrow$  נקבל את  $H_0$

אם  $\mu_0$  לא נופל ברווח  $\leftarrow$  נדחה את  $H_0$

### דוגמה: (פתרון בהקלטה)

חוקר ביצע בדיקת השערות לתוחלת. להלן השערותיו:

$$H_0 : \mu = 80$$

$$H_1 : \mu \neq 80$$

$$\alpha = 5\%$$

החוקר בנה רווח סמך ברמה של 90% וקיבל:  $79 < \mu < 84$ .

האם אפשר לדעת מה מסקנתו, ואם כן מהי?

**תרגילים :**

1. חוקר רצה לבדוק את ההשערות הבאות :

$$H_0 : \mu = 90$$

$$H_1 : \mu \neq 90$$

החוקר בנה רווח סמך לתוחלת ברמת סמך של 95% וקיבל את רווח הסמך הבא : (87,97).  
אם החוקר מעוניין לבצע בדיקת השערות ברמת מובהקות של 1% האם ניתן להגיע למסקנה ע"ס רווח הסמך? נמקו.

2. חוקר מעוניין לבדוק השפעת דיאטה חדשה על רמת הסוכר בדם. ידוע כי מספר מיליגרם הסוכר בסמ"ק דם הוא משתנה מקרי שמתפלג נורמלית עם סטיית תקן 10.4 מ"ג. נלקח מדגם של 60 נבדקים שניזונו מדיאטה זו. נמצא כי ממוצע מספר המיליגרם סוכר היה 115.5 מ"ג לסמ"ק.

א. בנה רווח סמך ברמת סמך 95% לתוחלת רמת הסוכר בדם אצל הניזונים מדיאטה זו.  
ב. ידוע שתוחלת רמת הסוכר בדם באוכלוסיה היא 90 מ"ג לסמ"ק. האם לדעתך ניתן להסיק על סמך תוצאת סעיף א שהדיאטה משפיעה על רמת הסוכר בדם? הסבר.

3. יצרן אנטיביוטיקה רושם על גבי התרופות שכמות הפנצלין היא 200 מ"ג לקפסולה. משרד הבריאות ביצע מדגם של 8 קפסולות אקראיות מקו הייצור ומצא שבממוצע יש 196 מ"ג פנצלין לקפסולה עם סטיית תקן מדגמית של 5 מ"ג. בהנחה וכמות הפנצלין בקפסולה מתפלגת נורמלית.  
א. בנה רווח סמך ברמת סמך של 95% לממוצע כמות הפנצלין לקפסולה המיוצרת על ידי יצרן האנטיביוטיקה.  
ב. בדוק ברמת מובהקות של 5% האם יש אמת באינפורמציה המסופקת על ידי היצרן.

**פתרונות :****שאלה 1:**

1. נקבל השערת  $H_0$

**שאלה 2:**

א.  $112.87 \leq \mu \leq 118.13$

ב. נכריע שהדיאטה משפיעה על תוחלת רמת הסוכר בדם.

**שאלה 3:**

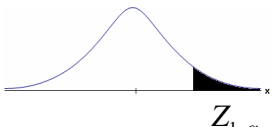
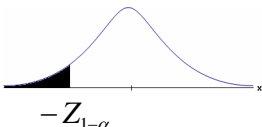
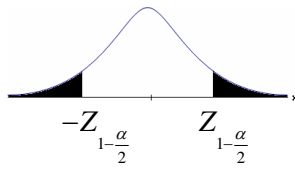
א.  $191.8 \leq \mu \leq 200.2$

ב. נכריע שיש אמת בפרסום.

## פרק 22 - בדיקת השערות על פרופורציה

### התהליך

**רקע:**

$H_0 : p = p_0$ $H_1 : p > p_0$	$H_0 : p = p_0$ $H_1 : p < p_0$	$H_0 : p = p_0$ $H_1 : p \neq p_0$	<b>השערת האפס :</b> <b>השערה אלטרנטיבית:</b>
$np_0 \geq 5 \ \& \ n(1-p_0) \geq 5$			<b>תנאים:</b>
$Z_{\hat{p}} > Z_{1-\alpha}$  $Z_{1-\alpha}$ <b>דוחים את <math>H_0</math> -</b>	$Z_{\hat{p}} < -Z_{1-\alpha}$  $-Z_{1-\alpha}$ <b>דוחים את <math>H_0</math> -</b>	או $Z_{\hat{p}} < -Z_{1-\frac{\alpha}{2}}$ $Z_{\hat{p}} > Z_{1-\frac{\alpha}{2}}$  $-Z_{1-\frac{\alpha}{2}}$ $Z_{1-\frac{\alpha}{2}}$ <b>דוחים את <math>H_0</math> -</b>	<b>כלל ההכרעה:</b> אזור הדחייה של :

**סטטיסטי המבחן :**

$$Z_{\hat{p}} = \frac{\hat{p} - p_0}{\sqrt{\frac{p_0(1-p_0)}{n}}}$$

**חלופה אחרת לכלל הכרעה:**

$\hat{p} > p_0 + Z_{1-\alpha} \cdot \sqrt{\frac{p_0(1-p_0)}{n}}$	$\hat{p} < p_0 - Z_{1-\alpha} \cdot \sqrt{\frac{p_0(1-p_0)}{n}}$	$\hat{p} > p_0 + Z_{1-\alpha/2} \cdot \sqrt{\frac{p_0(1-p_0)}{n}}$ או $\hat{p} < p_0 - Z_{1-\alpha/2} \cdot \sqrt{\frac{p_0(1-p_0)}{n}}$	<b>כלל</b> <b>ההכרעה:</b> אזור הדחייה של $H_0$
--	--	--	--

**דוגמה:** (פתרון בהקלטה)

בחודש ינואר השנה פורסם שאחוז האבטלה במשק הוא 8% במדגם עכשווי התקבל שמתוך 200 אנשים 6.5% מובטלים. בדקו ברמת מובהקות של 5% האם כיום אחוז האבטלה הוא כמו בתחילת השנה.

**תרגילים:**

1. במשך שנים אחוז המועמדים שהתקבל לפקולטה מסוימת היה 25%. השנה מתוך מדגם של 120 מועמדים התקבלו 22. ברמת מובהקות של 5% האם השנה הקשו על תנאי הקבלה?
2. במדגם של 300 אזרחים 57% מתנגדים להצעת חוק מסוימת. לאור נתונים אלה האם רוב האזרחים מתנגדים להצעת החוק? בדקו ברמת מובהקות של 10%.
3. הטילו מטבע 50 פעמים וקיבלו 28 פעמים עץ. האם המטבע הוגן ברמת מובהקות של 5%?
4. קפיטריה במכללה מסוימת מעריכה כי אחוז הסטודנטים שקונים קפה בקפיטריה הינו 20%. נערך סקר אשר כלל 200 סטודנטים. התברר כי 33 מהם רוכשים קפה בקפיטריה. מטרת הסקר הייתה לבדוק את אמיתות הערכה של הקפיטריה.  
 א. רשמו את ההשערות.  
 ב. בדוק את ההשערות ברמת מובהקות של 10%.  
 ג. מה תהיה המסקנה אם נקטין את רמת המובהקות?
5. חבר כנסת רוצה להעביר חוק. לצורך כך הוא דוגם 400 אזרחים במטרה לבדוק האם רוב האזרחים תומכים בחוק. במדגם התקבל ש-276 אזרחים תומכים בחוק.  
 א. מה מסקנתכם ברמת מובהקות של 5%?  
 ב. האם ניתן לדעת מה תהיה המסקנה אם רמת המובהקות תהיה גדולה יותר? הסבירו.
6. שני חוקרים בדקו את ההשערות הבאות:
- $$H_0 : p = p_0$$
- $$H_1 : p > p_0$$
- חוקר א השתמש ברמת מובהקות  $\alpha_1$  וחוקר ב ברמת מובהקות  $\alpha_2$  החוקר הראשון דחה את  $H_0$  ואילו החוקר השני קיבל את  $H_0$ . שניהם התבססו על אותם תוצאות של מדגם. בחר בתשובה הנכונה:
- א.  $\alpha_1 = \alpha_2$
- ב.  $\alpha_1 > \alpha_2$
- ג.  $\alpha_1 < \alpha_2$
- ד. המצב המתואר לא אפשרי.

**פתרונות :****שאלה 1:**

נדחה  $H_0$

**שאלה 2:**

נדחה  $H_0$

**שאלה 3:**

נקבל  $H_0$

**שאלה 4:**

ב. נקבל  $H_0$

ג. המסקנה לא תשתנה.

**שאלה 5:**

א. נדחה  $H_0$

ב. המסקנה לא תשתנה.

**שאלה 6:**

התשובה היא : ג.



סיכוי לטעויות ועוצמהרקע:

		הכרעה	
		H0	H1
מציאות	H0	אין טעות	טעות מסוג 1
	H1	טעות מסוג 2	אין טעות

נגדיר את ההסתברויות הבאות:הסיכוי לבצע טעות מסוג 1 (רמת מובהקות):

$$\alpha = P(H_0 \text{ לדחות} | H_0 \text{ נכונה}) = P_{H_0}(H_0 \text{ לדחות})$$

הסיכוי לבצע טעות מסוג 2:

$$\beta = P(H_0 \text{ לקבל} | H_1 \text{ נכונה}) = P_{H_1}(H_0 \text{ לקבל})$$

רמת בטחון:

$$(1-\alpha) = P(H_0 \text{ לקבל} | H_0 \text{ נכונה}) = P_{H_0}(H_0 \text{ לקבל})$$

עוצמה:

$$\pi = (1-\beta) = P(H_1 \text{ נכונה} | H_0 \text{ לדחות}) = P_{H_1}(H_0 \text{ לדחות})$$

**התהליך לחישוב סיכוי לטעות מסוג שני:**

$H_0 : p = p_0$ $H_1 : p > p_0$	$H_0 : p = p_0$ $H_1 : p < p_0$	$H_0 : p = p_0$ $H_1 : p \neq p_0$	<b>השערת האפס :</b> <b>השערה</b> <b>אלטרנטיבית:</b>
$np_0 \geq 5 \ \& \ n(1-p_0) \geq 5$			<b>תנאים:</b>
$\hat{p} > p_0 + Z_{1-\alpha} \cdot \sqrt{\frac{p_0(1-p_0)}{n}}$	$\hat{p} < p_0 - Z_{1-\alpha} \cdot \sqrt{\frac{p_0(1-p_0)}{n}}$	$\hat{p} > p_0 + Z_{1-\alpha/2} \cdot \sqrt{\frac{p_0(1-p_0)}{n}}$ או $\hat{p} < p_0 - Z_{1-\alpha/2} \cdot \sqrt{\frac{p_0(1-p_0)}{n}}$	<b>כלל הכרעה:</b> <b>אזור הדחייה של</b> $H_0$
$P_{H_1}(\hat{p} < p_0 + Z_{1-\alpha} \cdot \sqrt{\frac{p_0(1-p_0)}{n}})$	$P_{H_1}(\hat{p} > p_0 - Z_{1-\alpha} \cdot \sqrt{\frac{p_0(1-p_0)}{n}})$	$P_{H_1}(p_0 - Z_{1-\alpha/2} \cdot \sqrt{\frac{p_0(1-p_0)}{n}} < \hat{p} < p_0 + Z_{1-\alpha/2} \cdot \sqrt{\frac{p_0(1-p_0)}{n}})$	<b>חישוב <math>\beta</math> :</b>

$$\hat{P} \sim N(p, \frac{p(1-p)}{n}) \quad \text{כאשר}$$

$$Z_{\hat{p}} = \frac{\hat{p} - p}{\sqrt{\frac{p(1-p)}{n}}} \quad \text{והתקנון}$$

**דוגמה:** (פתרון בהקלטה)

רופאי שיניים טוענים שיותר ממוחצית האוכלוסייה הבוגרת בארץ אינם מבקרים אצל רופא שיניים באופן קבוע, כנדרש. כדי לבדוק טענה זו, נערך סקר בקרב 150 אנשים בוגרים.

א. רשמו את ההשערות וכלל הכרעה ברמת מובהקות של 10%.

ב. מהי עוצמת המבחן אם מסתבר ש 60% מהאוכלוסייה אינם מבקרים אצל רופא שיניים באופן קבוע.

### תרגילים:

1. משרד הבריאות פרסם ש 10% מתושבי המדינה סובלים ממחלת האסטמה. מחקר דורש לבדוק האם בחיפה, בגלל זיהום האוויר, שיעור הסובלים מאסטמה גבוה יותר. לצורך המחקר נבדקו 260 מתושבי חיפה.
  - א. רשמו את השערות המחקר, וצרו מבחן ברמת מובהקות של 5% לבדיקתן.
  - ב. מהי עצמת המבחן של סעיף א' בהנחה ובחיפה 16% מהתושבים סובלים מאסטמה?
  - ג. כיצד תשנה התשובה לסעיף ב' אם מסתבר שבחיפה 18% סובלים מאסטמה?
  - ד. בהמשך לסעיף א' האם נכון לומר שבהסתברות של 5% ההשערה שבחיפה 10% מהתושבים סובלים מאסטמה אינה נכונה?
  
2. אחוז הסובלים מתופעות הלוואי מתרופה מסוימת הוא 15%. חברת תרופות טוענת שפיתחה תרופה שאמורה לצמצם את אחוז הסובלים מתופעות לוואי. לצורך בדיקת הטענה הוחלט לבצע מחקר שיכלול 120 חולים שיקבלו את התרופה הנבדקת.
  - א. נניח שהתרופה נבדקת אכן מורידה את פרופורציות הסובלים מתופעות הלוואי ל-10% מהי עצמת המבחן עבור רמת מובהקות של 5%?
  
3. בעיר מסוימת היו 20% אקדמאים. בעקבות פתיחת מכללה בעיר לפני כמה שנים מעוניינים לבדוק האם אחוז האקדמאים גדל. מעוניינים שהמחקר יכלול 200 אנשים והוא יהיה ברמת מובהקות של 5%.
  - א. חשבו את הסיכוי לבצע טעות מסוג שני בהנחה והיום יש 28% אקדמאים.
  - ב. כיצד התשובה לסעיף הקודם תשתנה אם נגדיל את רמת המובהקות?
  
4. מעוניינים לבדוק האם בפקולטה מסוימת ישנה העדפה לגברים. הוחלט לדגום 200 מתקבלים ועל סמך מספר הבנים לקבוע אם טענת המחקר מתקבלת.
  - א. חוקר א' קבע רמת מובהקות של 5% וחוקר ב' החליט לקבל את טענת המחקר אם במדגם יהיו לפחות 120 בנים. למי מבין החוקרים רמת מובהקות גדולה יותר?
  
5. חוקר ביצע מחקר ובו עשה טעות מסוג שני לכן ( בחר בתשובה הנכונה )
  - א. השערת האפס נכונה.
  - ב. השערת האפס נדחתה.
  - ג. השערת האפס לא נדחתה.
  - ד. אף אחת מהתשובות לא נכונה בהכרח.
  
6. קבע אם הטענה הבאה נכונה :  
 "בבדיקת השערות לא ניתן לבצע בו זמנית טעות מסוג ראשון וטעות מסוג שני"

**פתרונות:****שאלה 1:**

ב. 0.9015

ג. תגדל

ד. טענה לא נכונה.

**שאלה 2:**

0.4404

**שאלה 3:**

א. 0.1446

ב. תקטן.

**שאלה 4:**

חוקר א.

**שאלה 5:**

התשובה הנכונה היא ג.

**שאלה 6:**

נכונה.

**קביעת גודל מדגם****רקע:**

$$H_0 : p = p_0$$

$$H_1 : p = p_1$$

השערות המחקר הן :

מעוניינים לבצע מחקר שרמת המובהקות לא תעלה על  $\alpha$  והסיכוי לטעות מסוג שני לא יעלה על  $\beta$ .

הנוסחה הבאה נותנת את גודל המדגם הרצוי :

$$n \geq \left( \frac{Z_{1-\alpha} \sqrt{p_0 q_0} + Z_{1-\beta} \sqrt{p_1 q_1}}{p_0 - p_1} \right)^2$$

**דוגמה:** (פתרון בהקלטה)

רוצים לבדוק האם אחוז האנשים השוהים בשמש ללא הגנה ירד בעקבות הפרסומת על נזקי השמש. בעבר 60% מהאוכלוסייה שהתה בשמש ללא הגנה. מה גודל המדגם המינימלי שיש לקחת כדי לבדוק שהאחוז הנ"ל ירד ל-48% אם מעוניינים שהסיכוי לטעות מסוג ראשון יהיה 5% והסיכוי לטעות מסוג שני יהיה 1%?

**תרגילים:**

1. משרד התמי"ת פרסם שאחוז האבטלה במשק היום עומד על 8%. לעומתו, משרד הפנים טוען שחלה עלייה בשיעור האבטלה עד לכדי 11%.  
כדי לבדוק מי מבניהם צודק, מה צריך להיות גודל המדגם שיענה על שני התנאים הבאים:
  - אם משרד התמי"ת צודק, נדחה את טענתו בסיכוי של 10%.
  - אם משרד הפנים צודק, נדחה את טענתו בסיכוי של 4%.
  
2. מפעיל קזינו מפרסם שהסיכוי לזכות במכונת מזל הינו 0.42.  
אדם טוען שהסיכויים לזכות במשחק נמוכים יותר. כמה פעמים יש לשחק את המשחק כדי שאם טענת מפעיל הקזינו נכונה נקבל את טענת האדם בסיכוי של 1% ואם במציאות הסיכוי לזכות במכונה הוא 0.3 נקבל את מפעיל הקזינו בסיכוי של 8%.

**פתרונות:**

**שאלה 1:**

891

**שאלה 2:**

224



### מובהקות התוצאה

#### רקע:

דרך נוספת להגיע להכרעות שלא דרך כלל הכרעה, היא דרך חישוב מובהקות התוצאה:

באמצעות תוצאות המדגם מחשבים את מובהקות התוצאה שמסומן ב-  $p_v$ .

את רמת המובהקות החוקר קובע מראש לעומת זאת, את מובהקות התוצאה החוקר יוכל לחשב רק אחרי שיהיו לו את התוצאות.

המסקנה של המחקר תקבע לפי העיקרון הבא:

$$\text{אם } p_v \leq \alpha \text{ דוחים את } H_0$$

מובהקות התוצאה זה הסיכוי לקבלת תוצאות המדגם וקיצוני מתוצאות אלה בהנחת השערת האפס.

$$p_v = P_{H_0} \text{ (לקבל את תוצאות המדגם וקיצוני)}$$

אם ההשערה היא דו צדדית:

$$p_v = 2 P_{H_0} \text{ (לקבל את תוצאות המדגם וקיצוני)}$$

מובהקות התוצאה היא גם האלפא המינימלית לדחיית השערת האפס.

$H_0 : p = p_0$ $H_1 : p > p_0$	$H_0 : p = p_0$ $H_1 : p < p_0$	$H_0 : p = p_0$ $H_1 : p \neq p_0$	השערת האפס : השערה אלטרנטיבית:
$np_0 \geq 5 \& n(1-p_0) \geq 5$			תנאים:
$P_{H_0}(\hat{P} \geq \hat{p})$	$P_{H_0}(\hat{P} \leq \hat{p})$	אם $2 \cdot P_{H_0}(\hat{P} \geq \hat{p}) \Leftarrow \hat{p} > p_0$ אם $2 \cdot P_{H_0}(\hat{P} \leq \hat{p}) \Leftarrow \hat{p} < p_0$	p-value

$$\hat{P} \sim N\left(p_0, \frac{p_0(1-p_0)}{n}\right) \text{ כאשר בהנחת השערת האפס :}$$

והתקנון:

$$Z_{\hat{p}} = \frac{\hat{p} - p_0}{\sqrt{\frac{p_0(1-p_0)}{n}}}$$

**דוגמה:** (פתרון בהקלטה)

ישנה טענה שיש הבדל בין אחוז הבנים ואחוז הבנות הפונים ללמוד להנדסאי מחשבים. לשם כך נלקח מדגם מקרי של 200 תלמידים הלומדים מחשבים והתברר כי 112 מהם בנים.

א. מהי מובהקות התוצאה?

ב. מה המסקנה ברמת מובהקות של 5%?

**תרגילים:**

1. במשך שנים אחוז המועמדים שהתקבל לפקולטה מסוימת היה 25%. השנה מתוך מדגם של 120 מועמדים התקבלו 22. רוצים לבדוק האם השנה הקשו על תנאי הקבלה.
  - א. מהי מובהקות התוצאה?
  - ב. מה תהיה המסקנה ברמת מובהקות של 1% וברמת מובהקות של 5%?
  
2. נהוג לחשוב ש 60% מהילדים בגיל שלוש קמים מהמיטה במהלך הלילה לפחות פעם אחת. ישנה טענה שללא שנת צהריים פחות מ-60% מהילדים בגיל זה יקומו לפחות פעם אחת במהלך הלילה. נדגמו 80 ילדים בגיל 3 אשר אינם ישנים בצהריים מתוכם התקבל ש 41 קמו במהלך הלילה.
  - א. מהי רמת המובהקות המינימלית עבורה תתקבל הטענה במחקר?
  - ב. מהי רמת המובהקות המקסימלית עבורה לא תתקבל טענת המחקר?
  - ג. עבור אילו רמות מובהקות נקבל את טענת המחקר?
  - ד. מה תהיה מסקנת המחקר ברמת מובהקות של 6%?
  
3. במטרה לבדוק האם מטבע הוא הוגן מטילים אותו 80 פעמים. התקבל ש 60 מההטלות הראו עץ. רשמו את השערות המחקר, חשבו את מובהקות התוצאה והסיקו מסקנה ברמת מובהקות של 5%.
  
4. בבדיקת השערות על פרופורציה התקבל שה-  $p\text{-value}=0.02$ .
  - מה תהיה מסקנת חוקר המשתמש ברמת מובהקות 5% : ( בחר בתשובה הנכונה)
    - א. יקבל את השערת האפס
    - ב. ידחה את השערת האפס.
    - ג. לא ניתן לדעת כי אין מספיק נתונים.
  
5. קבע אם הטענה הבאה נכונה :
 

"במבחן לבדיקת השערות חד-צדדי התקבל ערך  $p\text{-value}$  של 3% לכן אם היינו מבצעים מבחן דו-צדדי (כאשר יתר הנתונים ללא שינוי) היינו מקבלים ערך  $p\text{-value}$  של 6%"
  
6. במפעל 10% מהעובדים נפגעים לפחות פעם אחת בשנה מתאונות עבודה. לאור זאת, המפעל החליט לצאת בתוכנית לצמצום שיעור הנפגעים. תכנית זו נוסתה על 100 עובדים. מתוכם 12 נפגעו בתאונות עבודה במשך השנה. מהי רמת המובהקות הקטנה ביותר עבורה יוחלט שהתכנית יעילה?

**פתרונות :****שאלה 1:**

א. 0.0455

**שאלה 2:**

א. 0.0548

ב. 0.0548

ג. מעל 0.0548

ד. נכריע לטובת טענת המחקר.

**שאלה 3:**

$$p_v = 0$$

**שאלה 4:**

התשובה הנכונה : ב

**שאלה 5:**

הטענה נכונה

**שאלה 6:**

0.7486

## פרק 23 - ניתוח שונות חד כיוונית

### רקע תיאורטי:

ניתוח שונות (חד כיווני) הוא מבחן להשוואת תוחלות ( $\mu_1, \dots, \mu_k$ ) של k אוכלוסיות שונות.

ולכן בנייתוח שונות השערות המחקר הן:

$$H_0 : \mu_1 = \mu_2 = \dots = \mu_k \quad (\text{התוחלות של כל האוכלוסיות שוות})$$

$$H_1 : \quad \text{אחרת} \quad (\text{לפחות שתיים מהתוחלות שונות})$$

ההנחות הדרושות לביצוע התהליך הן:

1. בכל אוכלוסייה מתוך k האוכלוסיות ההתפלגות נורמלית.

2. כל האוכלוסיות הן עם אותה שונות  $\sigma^2$ .

3. המדגמים בלתי תלויים זה בזה.

ישנו משתנה המבדיל בין הקבוצות השונות, הוא המשתנה הבלתי תלוי הנקרא גורם (factor)

משתנה זה הוא קטגוריאלי עם k רמות (levels).

כדי לבצע את התהליך יש לבצע מדגם מכל אוכלוסייה:

נסמן ב-  $n_i$  את גודל המדגם בקבוצה i.

$$n = \sum_{i=1}^k n_i \quad \text{- מספר התצפיות סך הכול (בכל המדגמים)}$$

$$\bar{X}_1 \quad \text{- ממוצע המדגם הראשון, } \dots, \bar{X}_k \quad \text{- ממוצע המדגם ה-k-י.}$$

$$\bar{X} \quad \text{- ממוצע כללי (של כל המדגמים).}$$

$$SS_B = \sum_{i=1}^k n_i [\bar{X}_i - \bar{X}]^2 \quad \text{סכום ריבועים בין הקבוצות}$$

$$SS_W = \sum_{i=1}^k [n_i - 1] \cdot \hat{S}_i^2 \quad \text{סכום ריבועים בתוך הקבוצות}$$

$$SS_T = \sum_{i=1}^k \sum_{j=1}^{n_i} [X_{ij} - \bar{X}]^2 \quad \text{סכום ריבועים כללי}$$

$$SST = SSB + SSW$$

[www.Gool.co.il](http://www.Gool.co.il) לפתרון מלא בסרטון וידאו היכנסו ל-

כתב ופתר - ברק קנדל ©

יש למלא את טבלת ניתוח השונות הבאה :

**טבלת ניתוח שונות**

מקור השונות	סכום הריבועים SS	דרגות חופש df	ממוצע הריבועים MS	F
B-בין הקבוצות	SSB	k - 1	$\frac{SSB}{k - 1}$	$\frac{MSB}{MSW}$
W-בתוך הקבוצות	SSW	n - k	$\frac{SSW}{n - k}$	
T-סה"כ	SST	n - 1		

$$F = \frac{SS_B / (k - 1)}{SS_W / (n - k)} \sim F(k - 1, n - k)$$

$$F > F_{(k-1), (n-k); 1-\alpha} : H_0 \text{ איזור דחיית}$$

### תרגילים:

1. מחקר מעוניין להשוות בין שלוש תרופות לשיכוך כאבים במטרה לבדוק האם קיים הבדל בין התרופות מבחינת הזמן בדקות שלוקח עד שהתרופה משפיעה. לצורך הבדיקה נלקחו 15 אנשים שסובלים מכאבי ראש. אנשים אלה חולקו באקראי לשלוש קבוצה 1 קיבלה "אקמול" קבוצה 2 קיבלה "אופטלגין" קבוצה 3 קיבלה "נורופן". כל אדם במחקר מסר את מספר הדקות עד שהתרופה השפיעה עליו.
- א. מהו המשתנה התלוי ומהו המשתנה הבלתי תלוי במחקר? מהו ה"גורם" וכמה רמות יש לו?
- ב. מהו המבחן הסטטיסטי המתאים כאן? רשמו את ההשערות.
- ג. מה הן ההנחות הדרושות כדי לבצע את המבחן הסטטיסטי שהצעת בסעיף הקודם?

2. בעיר מסוימת שלושה בתי ספר תיכון. ראש העיר התעניין לבדוק האם קיים הבדל בהצלחה של בתי הספר במקצוע מתמטיקה. לצורך כך הוא דגם מספר תלמידים שנבחנו במבחן הבגרות במתמטיקה ברמה של 3 יחידות בעירו ובדק עבור כל תלמיד מה ציון הבגרות שלו במתמטיקה. להלן הציונים שהתקבלו:

בית הספר	"המתמיד"	"רבין"	"הס"
	78	98	85
	65	62	83
	70	55	74
	90	80	85
	56		75

- א. מהו המבחן הסטטיסטי המתאים? רשמו את ההשערות ואת ההנחות של המבחן.
- ב. מהו גודל המדגם? מהו המשתנה הבלתי תלוי (FACTOR) כמה רמות יש לו?
- ג. חשבו את הממוצע ואת סטיית התקן של הציונים בכל אחד מהמדגמים.
- ד. מלאו את טבלת ANOVA.
- ה. רשמו את כלל ההכרעה למבחן שהוצע בסעיף א ברמת מובהקות של 5%.
- ו. האם קיים הבדל בין בתי הספר בעיר מבחינת רמת הצלחת התלמידים במקצוע המתמטיקה? ענה על סמך הסעיפים הקודמים.

3. מעוניינים לבדוק האם יש הבדל בהשפעה של שיטות טפול שונות על לחץ הדם הסיסטולי (SBP) באוכלוסייה של קשישים. נבדקו 4 שיטות שונות. בטבלה המצורפת מרוכזים ממצאי המחקר.

השיטה	A	B	C	D
גודל המדגם	12	14	8	12
הממוצע	178	172	180	182
סטיית התקן	4	8	5	3

- א. רשמו את השערות המחקר וההנחות הדרושות כדי לבצע את המבחן המתאים.  
 ב. מה מסקנת המחקר ברמת מובהקות של 5%?  
 ג. האם יש צורך לבצע השוואות מרובות?  
 4. שלושה אופים נתבקשו להכין עוגת שוקולד. לכל אופה בדקו את משך זמן ההכנה בדקות.  
 כל אופה נדרש לאפות בכל יום 4 עוגות.

האופה	ניר	מוזס	שלום
סכום הזמנים	206	212	182
סכום ריבועי הזמנים	10644	11250	8982

- האם קיים הבדל בין האופים מבחינת תוחלת זמני ההכנה של העוגות? בדקו ברמת מובהקות של 5%.



5. להלן טבלת ניתוח שונות חד כיוונית. במחקר בחנו 4 סוגי סוללות. רצו לבדוק האם לסוג הסוללה השפעה על תוחלת אורך החיים שלה. הפעילו את כל הסוללות על אותו מכשיר ובדקו את אורך החיים של כל סוללה בשעות.

### ANOVA

	Sum of Squares	df	Mean Square	F	Sig.
Between Groups	10.317	3	3.439	1.361	.279
Within Groups	60.648	24	2.527		
Total	70.964	27			

מה המסקנה ברמת מובהקות של 10%? רשמו את ההשערות וההנחות הדרושות.

6. להלן טבלת ANOVA בטבלה הושמטו חלקים. השלם את החלקים בטבלה שהושמטו ומסומנים באותיות.

### ANOVA

	Sum of Squares	df	Mean Square	F	Sig.
Between Groups	357.450	ב	ג	ה	.000
Within Groups	א	17	ד		
Total	522.950	19			

7. חברת תרופות לקחה 15 אנשים ברמת בריאות דומה. החברה חילקה את האנשים ל שלוש קבוצות שוות בגודלן. לכל קבוצה ניתנה אותה תרופה במינון שונה (dosage). המינונים שניתנו הם: 10 מ"ג, 20 מ"ג ו- 30 מ"ג. לאחר שעה מזמן לקיחת התרופה ניבדק קצב פעימות הלב של כל אדם (pulse). הנתונים הוזנו לתוכנה סטטיסטית והתקבלו התוצאות הבאות:

### ANOVA

pulse

	Sum of Squares	df	Mean Square	F	Sig.
Between Groups	414.400	2	207.200	19.733	.000
Within Groups	126.000	12	10.500		
Total	540.400	14			

### Post Hoc Tests

#### Multiple Comparisons

pulse  
Tukey HSD

(I) dosage	(J) dosage	Mean Difference (I-J)	Std. Error	Sig.	95% Confidence Interval	
					Lower Bound	Upper Bound
10.00	20.00	3.20000*	2.04939	.299	-2.2675	8.6675
	30.00	12.40000*	2.04939	.000	6.9325	17.8675
20.00	10.00	-3.20000	2.04939	.299	-8.6675	2.2675
	30.00	9.20000*	2.04939	.002	3.7325	14.6675
30.00	10.00	-12.40000*	2.04939	.000	-17.8675	-6.9325
	20.00	-9.20000*	2.04939	.002	-14.6675	-3.7325

\*. The mean difference is significant at the 0.05 level.

## Homogeneous Subsets

## pulse

Tukey HSD<sup>a</sup>

dosage	N	Subset for alpha = 0.05	
		1	2
30.00	5	71.0000	
20.00	5		80.2000
10.00	5		83.4000
Sig.		1.000	.299

Means for groups in homogeneous subsets are displayed.

a. Uses Harmonic Mean Sample Size = 5.000.

- א. בדוק ברמת מובהקות של 5% האם קיים הבדל בין המינונים השונים מבחינת תוחלת הדופק של האנשים? רשמו את ההשערות וההנחות הדרושות לצורך פתרון.
- ב. הסבירו ללא חישוב כיצד הייתה משתנה התשובה לסעיף הקודם אם הינו מעלים את הדופק של כל התצפיות במחקר ב- 2.
- ג. האם יש צורך במחקר בהשוואת מרובות. נמק!
- ד. לטבלת ה ANOVA צורפו טבלאות של השוואות מרובות בשיטה הנקראת "טוקי". ברמת בטחון של 95% מה הם הממצאים לפי שיטה זו?

8. בעיר מסוימת רצו לבדוק האם קיים הבדל ברמה של התלמידים בין בתי הספר השונים בעיר. ביצעו מדגם מכל בית ספר ונתנו מבחן זהה לכל הנדגמים. לאחר מכן ריכזו את הנתונים בתוכנה סטטיסטית והפעילו ניתוח שונות. מצורפים הפלטים שהתקבלו.
- ענו על הסעיפים הבאים:
- א. כמה בתי ספר יש בעיר?
- ב. כמה תלמידים השתתפו בסך הכול במחקר?
- ג. האם קיים הבדל בין בתי הספר בעיר מבחינה רמת הציונים? בדקו ברמת מובהקות של 1%.
- ד. בביטחון של 95% אילו בתי ספר שונים זה מזה ברמת התלמידים? נמקו והסבירו.

### Oneway

#### ANOVA

ANOVA					
grade					
	Sum of Squares	df	Mean Square	F	Sig.
Between Groups	7799.600	4	1949.900	13.586	.000
Within Groups	2870.400	20	143.520		
Total	10670.000	24			

### Post Hoc Tests

## Multiple Comparisons

grade

Scheffe

(I) school	(J) school	Mean Difference (I-J)	Std. Error	Sig.	95% Confidence Interval	
					Lower Bound	Upper Bound
1.00	2.00	5.40000	7.57681	.971	-20.2543	31.0543
	3.00	36.80000*	7.57681	.003	11.1457	62.4543
	--- 4.00	36.40000*	7.57681	.003	10.7457	62.0543
	5.00	-2.60000	7.57681	.998	-28.2543	23.0543
2.00	1.00	-5.40000	7.57681	.971	-31.0543	20.2543
	3.00	31.40000*	7.57681	.011	5.7457	57.0543
	--- 4.00	31.00000*	7.57681	.013	5.3457	56.6543
	5.00	-8.00000	7.57681	.888	-33.6543	17.6543
3.00	1.00	-36.80000*	7.57681	.003	-62.4543	-11.1457
	2.00	-31.40000*	7.57681	.011	-57.0543	-5.7457
	--- 4.00	-.40000	7.57681	1.000	-26.0543	25.2543
	5.00	-39.40000*	7.57681	.001	-65.0543	-13.7457
4.00	1.00	-36.40000*	7.57681	.003	-62.0543	-10.7457
	2.00	-31.00000*	7.57681	.013	-56.6543	-5.3457
	--- 3.00	.40000	7.57681	1.000	-25.2543	26.0543
	5.00	-39.00000*	7.57681	.001	-64.6543	-13.3457
5.00	1.00	2.60000	7.57681	.998	-23.0543	28.2543
	2.00	8.00000	7.57681	.888	-17.6543	33.6543
	--- 3.00	39.40000*	7.57681	.001	13.7457	65.0543
	4.00	39.00000*	7.57681	.001	13.3457	64.6543

\*. The mean difference is significant at the 0.05 level.

## Homogeneous Subsets

**grade**

Scheffe<sup>a</sup>

school	N	Subset for alpha = 0.05	
		1	2
3.00	5	45.0000	
4.00	5	45.4000	
2.00	5		76.4000
1.00	5		81.8000
5.00	5		84.4000
Sig.		1.000	.888

Means for groups in homogeneous subsets are displayed.

a. Uses Harmonic Mean Sample Size = 5.000.

**פתרונות סופיים חלקיים - ניתוח שונות חד כיוונית**

2. אם חישבת נכון ה F הסטטיסטי יוצא: 0.58

3. נדחה את השערת האפס.

4. להלן טבלת הניתוח השונות המתקבלת:

	Sum of Squares	df	Mean Square	F
Between Groups	126.000	2	63.000	.756
Within Groups	750.000	9	83.333	
Total	876.000	11		

5. נקבל את השערת האפס.

6. א. 165.5 ב. 2 ג. 178.725 ד. 9.375 ה. 18.36

7. א. נדחה את השערת האפס. ב. לא משתנה. ג. כן

8. א. 5 ב. 25 ג. כן